


☆請將答案以2B鉛筆劃記於答案卡，否則不予計分 七年\_\_\_\_\_班 座號：\_\_\_\_\_ 姓名：\_\_\_\_\_

一、選擇題（1~12題，每題4分）

1. ( ) 中正國中位於今日的屏東縣屏東市，這個地方在清乾隆年間的史書當中便已出現「阿猴街」的地名。觀察清代治臺時期各階段的行政區劃演變，可以推測當時的「阿猴街」一直是隸屬於哪個行政區管轄？  
(A) 臺灣縣 (B) 鳳山縣 (C) 恆春縣 (D) 阿猴縣
2. ( ) 清帝國將臺灣納入統治版圖後，行政區劃日益增加，從康熙年間的一府三縣、雍正年間的一府四縣二廳、嘉慶年間的一府四縣三廳。造成清代治臺初期行政區陸續增加的原因應與何者相關？  
(A) 民變事件頻傳 (B) 經濟蓬勃發展 (C) 抵禦外國勢力 (D) 移民來源複雜
3. ( ) 馬尼拉總督在1630年報告某國國王：「三年傳教，只在『甲』一處，信仰者有三百人。」請問這個國家在【圖一】的「甲」處主要是宣揚哪一種宗教？(A) 佛教 (B) 道教 (C) 天主教 (D) 基督教



【圖一】



【圖二】

4. ( ) 【圖二】繪製於十七世紀，地點為赤崁，與會人員包含荷蘭人與臺灣的原住民，此會議定期舉行。下列有關此會議的敘述何者正確？  
(A) 這是三年舉辦一次的行政會報 (B) 所有部落族人都必須參加這場會議  
(C) 荷蘭長官會授予各社長老權杖 (D) 荷蘭與原住民雙方會議中平起平坐
5. ( ) 附表是荷蘭統治時期對原住民傳教的成果。根據表中資訊，我們可以得知下列哪一項訊息？  
(A) 新港社的宗教信仰改變最大 (B) 各社原住民皆保持原有信仰  
(C) 麻豆社原住民受洗比例最高 (D) 原住民受洗者比例日漸降低

社名	人口數	受洗人數	受洗比例
新港社	1,047	1,047	100.0 %
目加溜灣社	1,000	261	26.1 %
大目降社	1,000	209	20.9 %
蕭壠社	2,600	282	10.8 %
麻豆社	3,000	215	7.2 %

6. ( ) 湘荷利用放假期間撰寫歷史報告，他將報告的關鍵字輸入 ChatGPT，ChatGPT 出現下列回答：

- (1)「」以臺灣中部地區為中心，勢力範圍包括現今臺中、彰化、南投的一部分。

(2)「」統治約20個原住民部落，在荷蘭與鄭氏在臺期間，「」都曾領導部落反抗統治。

請問這份歷史報告的主題「」最可能是下列哪一族群？  
(A) 馬賽人 (B) 大肚王 (C) 西拉雅族 (D) 麻豆社。

7. ( ) 十九世紀後期，清帝國遭逢多次外來挑戰，也連帶影響當時對於殖民地臺灣的治理方針。下列表格是針對兩場與臺灣相關的事件所進行的整理，請問哪一個選項的資訊完全正確？

	牡丹社事件	清法戰爭
(A) 起因	越南問題	琉球問題
(B) 地點	基隆、澎湖	恆春半島
(C) 人物	劉銘傳	沈葆楨
(D) 結果	開山撫番	臺灣建省

8. ( ) 「新港文書」是研究臺灣歷史發展的重要文獻，這批文獻的書寫文字曾在臺灣部分地區流傳一百多年，改變了原住民對外的溝通方式。下列有關這種文字的敘述，何者正確？  
 (A) 由原住民族參考漢字自行創造而成 (B) 這種文件應該在北部地區發現的數量較多  
 (C) 荷蘭人以羅馬字母拼寫噶瑪蘭族語 (D) 這種文件常用來與漢人簽訂土地買賣契約
9. ( ) 閔傑是清光緒年間的學生，當時有機會能到臺灣參訪。下列何者「最不可能」是他在臺灣看到的狀況？  
 (A) 發現臺灣已經設有郵政總局，寄信回家時需要貼上郵票  
 (B) 基隆到臺中的鐵路已經鋪設完成，後續還打算繼續鋪設  
 (C) 臺灣的北、中、南都已經有開闢通往山區及東部的道路  
 (D) 臺灣南部的安平、北部的基隆等地都設有多座西式炮臺
10. ( ) 下列哪一個行政區的設立與「加強東北部治理、防範海盜侵擾」的目的最相關？  
 (A) 淡水廳 (B) 嘉義縣 (C) 噶瑪蘭廳 (D) 恆春縣
11. ( ) 附表是為十七世紀臺灣南部學校的課表。根據表中的資訊判斷，下列何者敘述「錯誤」？  
 (A) 六點到八點，副校長所使用的語言是西拉雅族語  
 (B) 八點到九點，學生在餐前禱告是因為信奉基督教  
 (C) 午餐時間利用羅馬字拼注族語，此文字稱新港文  
 (D) 下午三點到五點，所教授的外國語言是西班牙語

時間	活動	科目名稱
06：00～08：00	學科	由副校長以原住民語言講授教義
08：00～09：00	早餐	飯前飯後由學生輪流帶領禱告
09：00～10：00	學科	講話、習字課
10：00～11：00	學科	由校長以原住民語言講授教義
12：00	午餐	飯前飯後由學生輪流帶領禱告，並輪流由羅馬字拼注族語聖經
15：00～17：00	學科	教授外國語基本字彙

12. ( ) 以下是一群不同時期的原住民，跨越時空相聚的對話內容。根據他們的言行，何者出現時間「最晚」？  
 (A) 國姓爺要求他的部下耕種，我們的土地逐漸被他們侵占，實在很傷腦筋  
 (B) 政府劃定了界線，要求我們不得越線，好多漢人沒有遵守約定，常常越界開墾  
 (C) 公司對鹿皮需求日益增加，我們只得加緊捕捉梅花鹿，但現在數量已經越來越少，實在難為我們了  
 (D) 新來的長官架設幾條通往部落的道路，廢止入山禁令、在部落裡設立學校，對我們的管制也增多了

## 二、題組題（13～25題，每題4分）

### 題組（一）：第13～15題

【圖三】是2022年為紀念曾經發生在屏東縣境內的某件歷史事件，在紀念公園所設立的頭目 Aruqu 父子紀念雕像。以下是對這個雕像的介紹：「西元1874年時，日本藉口出兵臺灣，與臺灣原住民發生激烈的戰爭，排灣族人據石門天險以槍枝、石塊抵禦日軍攻勢，最終頭目 Aruqu 父子等多名原住民戰士在『石門之役』中奮戰而亡。」

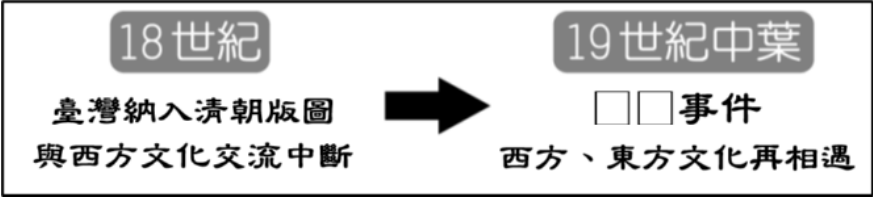
13. ( ) 根據上文敘述，請問紀念的是哪一歷史事件？  
 (A) 朱一貴事件 (B) 林爽文事件 (C) 牡丹社事件 (D) 清法戰爭
14. ( ) 戰役結束之後，清廷派沈葆楨為欽差大臣，來臺加強防務。請問下列哪項政策「不是」沈葆楨來臺推動的措施？  
 (A) 修築自基隆到新竹的鐵路 (B) 在安平等地修築新式砲臺  
 (C) 廢除限制移民的渡臺禁令 (D) 增設臺北府等行政區規劃
15. ( ) 這場戰役之後，為加強對番界外原住民領地的治理，陸續開闢北中南三條連接東部的山路。光緒年間，前中研院院長胡適先生的父親胡鐵花，曾走過三條山路裡的「南路」，前往東部地區任官。請問：胡鐵花最可能擔任當時哪個行政區的官職？  
 (A) 臺東省 (B) 臺東府 (C) 臺東直隸州 (D) 臺東縣



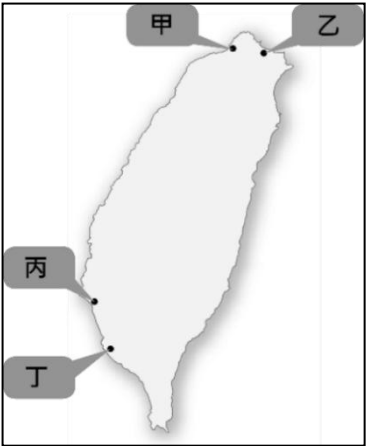
【圖三】



題組（二）：第16～17題



【圖四】



【圖五】

16. ( ) 【圖四】是十八至十九世紀東西方文化交流示意圖。根據圖中資訊判斷，造成西方文化再度影響臺灣的□□事件，應與何者有關？
- (A) 英法聯軍後簽訂條約 (B) 荷蘭人再度佔領臺灣
- (C) 清法因越南問題開戰 (D) 日本藉機併吞琉球群島
17. ( ) 承上題，受到□□事件的影響，清廷陸續開放臺灣四個港口作為與外國通商的窗口。下列有關【圖五】中各港口與名稱的配對，何者正確？
- (A) 「甲」是雞籠 (B) 「乙」是打狗 (C) 「丙」是安平 (D) 「丁」是淡水

題組（三）：第18～19題

清廷打敗鄭氏政權後，朝中對於臺灣的看法不一，影響他們認為應當拋棄或保留臺灣的立場。以下是當時的皇帝與持不同立場的官員間的對話內容：

	對於臺灣棄留的看法
甲：皇帝	臺灣只是像彈丸一樣的小地方，得到了沒有增加什麼，沒得到也沒有損失。
乙：官員	臣下奉旨征討臺灣，親自看見臺灣土地肥沃、物產豐富……。這個地方實在是上天幫助皇上鞏固東南的保障，可以永遠杜絕沿海邊境的禍患。
丙：官員	臺灣只是海外的丸泥小島，不足以拓展中國的版圖；住在臺灣的是裸體紋身的番人，不值得和他們共同守護（臺灣）。花費國家的金錢治理臺灣實在沒有好處，不如把住在臺灣的漢人都遷回中國，讓臺灣的土地空著就好。

18. ( ) 有關甲乙丙三人的論述，下列敘述何者正確？

(A) 甲皇帝是乾隆皇帝，主張積極建設臺灣

(B) 乙官員的臺灣經驗，來自於征討海盜鄭芝龍

(C) 丙官員的立場是為避免臺灣原住民遭到漢人傷害

(D) 丙官員認為將臺灣納入統治版圖將增加財政負擔

19. ( ) 關於臺灣棄留的爭論，回歸歷史事實，這場爭論最後的結果，下列何者正確？

(A) 甲接受乙建議 (B) 甲接受丙建議 (C) 甲兼採乙丙建議 (D) 乙官員無法說服甲，辭官捍衛立場

題組（四）：第20～21題

【圖六】是清帝國時期的臺灣古地圖，可以看到今日新竹附近山區地帶有「土牛溝」、「番界」線。

20. ( ) 請問這些「土牛溝」、「番界」是為了配合當時頒布的哪項政策？

(A) 屯田政策 (B) 劃界封山 (C) 渡臺禁令 (D) 開山撫番

21. ( ) 關於這項政策的敘述，下列何者正確？

(A) 這條界線自從劃設之後就不曾進行更動

(B) 這條界線以東地區不被視為統治的範圍

(C) 這項政策一直持續實施至清朝統治結束

(D) 實施後漢人與原住民不再發生任何衝突

題組（五）：第22～23題

歷史文件〈○○東印度公司福爾摩沙評議會議事錄〉描寫傳教士甘治士、尤羅伯探討治理臺灣的策略：「要讓土著歸順，並使其改信基督教的最好方法是什麼？我們認為，最好的方法就是：奪取犯謀殺和其他暴行的（人）全部財物，這些人現在住在麻豆和目加溜灣兩村。我們藉此展現武力後，土著們便會滿懷恐懼，真正歸順，誠心乞求我們的友誼。」

22. ( ) 根據這份歷史文件推斷，○○應該為何？(A) 荷蘭 (B) 西班牙 (C) 日本 (D) 英國
23. ( ) 根據這份文件指出，該國認為向原住民推廣基督教最有效的方法為何？  
(A) 透過部落長老傳教 (B) 以武力鎮壓懲罰 (C) 用羅馬拼音推廣聖經 (D) 建立教堂與增設學校

題組（六）：第24～25題

某份文件描寫清代治臺初期臺灣當時的人口現象，內容大致如下：「從北路諸羅、彰化以上，直到淡水、雞籠山後長達一千餘里的地方，漢族婦女不到數百人；南路由鳳山、新園、琅嶠以下長達四、五百里的地方，漢族婦女也不過數百人而已。如果各地府縣的遊民、無賴聚集起來，人數高達數百萬，他們沒有父母妻子宗族的牽絆，那麼就應該為他們進行規劃和安排。」

24. ( ) 根據這份紀錄資料推測，當時的清廷因為頒布什麼政策，才導致這樣的問題？  
(A) 海禁政策 (B) 劃界封山 (C) 開港通商 (D) 渡臺禁令
25. ( ) 下列何者「不是」這項政策造成的影響？  
(A) 違反禁令的偷渡客始終不斷 (B) 將臺灣東部列入管轄範圍  
(C) 羅漢腳眾多，社會動盪紛亂 (D) 臺灣的性別比例嚴重失衡

～～本次試題到此結束，請務必檢查答案是否正確劃記～～