

屏東縣立中正國中 114 學年度第 1 學期第 2 次段考 7 年級
社 會 領 域 公 民 科 試 題

出題教師：陳智愷 七年 班 座號 姓名

★請使用 2B 鉛筆將正確答案劃記於答案卡，否則不予計分

一、單一選擇題（請選出最適合的一個答案）（第 1-25 題，每題 4 分，共 100 分）

- () 1.星兒 6 個月時，爸爸到外地工作，由媽媽獨自照顧她。星兒 6 歲時，爸媽感情生變，之後協議離婚，媽媽是星兒的主要照顧者，取得星兒的監護權。星兒 9 歲時，媽媽與外國網友熱戀，進而結婚。婚後一年，媽媽想要和第二任先生去外國發展事業，將星兒託給外婆照顧。依上文，星兒 6 個月時、6 歲時、9 歲時、10 歲時的家庭型態依序最可能是下列何者呢？
- (A) 兩地家庭、單親家庭、跨國婚姻家庭、隔代教養家庭
(B) 單親家庭、頂客家庭、兩地家庭、重組家庭
(C) 重組家庭、兩地家庭、跨國婚姻家庭、單親家庭
(D) 跨國婚姻家庭、單親家庭、重組家庭、頂客家庭。
- () 2.武氏映春：「你的女兒要上幼稚園小班了，應該比較有空出來聚一聚吧？！」阮氏鳳：「我要同步上中文課程，才能教我女兒做功課。」武氏映春：「辛苦了！」上文阮氏鳳的作為，主要是為了發揮下列哪一個家庭的功能呢？
- (A) 傳承家族的血緣
(B) 保護與陪伴家人度過各種難關
(C) 個人第一個社會化的管道
(D) 滿足家人食、衣、住、行等各方面需求。
- () 3.右圖為國家發展委員會於 109 年所進行的人口推估（109-159 年）的部分調查結果，從 109 年 4.0 個壯年人口扶養 1 個老人，到 159 年降至 1.1 個壯年人口扶養 1 個老人。下列何人的說法與上文的趨勢是相符合的呢？
- (A) 武倫：未來年輕人扶養老人的負擔越來越輕
(B) 群理：營造育兒親善環境以減緩少子化的政策，有助降低該趨勢帶來的衝擊
(C) 信德：強制高齡者倚賴家庭成員的照護，才能確實解決問題
(D) 宗梧：要求女性回歸家庭生好生滿。
- () 4.Dawas：「好一陣子沒有在聚會時見到你父親，他還好嗎？」Nokis：「他最近受到失智症影響，不太能打理自己的日常生活。我和家人常常要輪流請假。」Dawas：「有考慮住宿式服務機構嗎？」Nokis：「有參觀幾間了，準備開家庭會議商討。」Dawas：「可是收費不便宜吧！」Nokis：「衛生福利部自 112 年起調增此類機構使用者補助方案，額度由最高 6 萬元提高至 12 萬元，並取消排富規定。」Dawas：「看來政府相當重視長照制度！」依上文，政府的政策主要在協助家庭的哪兩個功能呢？
- (A) 生育、教育
(B) 教育、保護與照顧
(C) 保護與照顧、經濟
(D) 經濟、生育。
- () 5.政府修正家庭相關法律以符合時代潮流。右表為池擎憑印象整理的條文修訂重點。依上文，下列何者是正確的呢？
- (A) 政府修法符合父（男）權優先
(B) 該家庭相關法律應是憲法
(C) 右表中正確的只有丙
(D) 右表中錯誤的只有甲。



項目	修法前	現行規定
(甲) 夫妻姓氏	妻冠夫姓	夫冠妻姓
(乙) 夫妻住所	妻以夫之住所為住所	夫以妻之住所為住所
(丙) 夫妻財產	由丈夫管理	夫妻可選擇採取何種夫妻財產制
(丁) 未成年子女姓氏	由父母雙方協議，可書面約定從父姓或母姓	從父姓

- () 6. 李貞在群組中發問:「為了減緩少子化所帶來的危機，政府逐步制定相關政策。求舉例，謝謝。」下列哪一位群友所提供的例證不適合呢？
- (A) 芃菲：基隆市推出兒童日間定點臨托 2.0 及夜間臨時托育服務
- (B) 銘祚：高雄市長青日間照顧中心舉辦運動會，參與賽事的樂齡族，平均年紀 80 幾歲
- (C) 麗薰：屏東縣自明年 1 月起實施「未滿一歲嬰幼兒營養補助金」
- (D) 筱得：台南市政府提供每戶每年免費 36 次「到宅育兒指導服務」

- () 7.下表是荃姊和閨密聊天的內容，與家庭功能的配對何者正確呢？

選項	內容	家庭功能
(A)	昨天大兒子家二寶報到，明天我要去恭喜他	保護與照顧
(B)	下週大女兒要出差，我得去幫忙接送孫女	經濟
(C)	小兒子領了獎金，買保險補貼我的醫療支出	生育
(D)	小女兒會解說網路常見的詐騙手法，就怕我被騙	教育

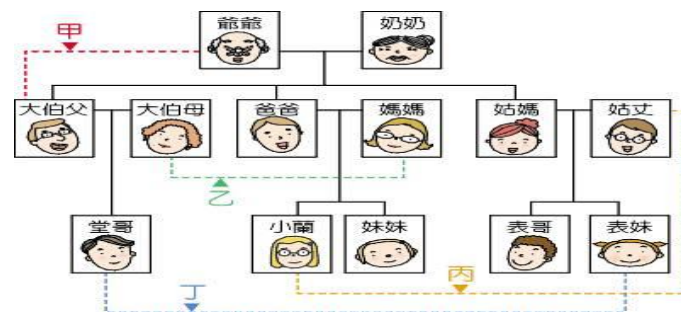
- () 8.因應少子化危機，行政院公布「穩居政策」，創造青年婚育環境，其中青年婚育租屋協助專案，擴大租金補貼對象包括，第一類是方案公布後登記結婚之新婚 2 年內夫妻二人家庭，第二類是方案公布後夫妻二人加上新生兒之家庭。上文中提及的家庭屬於下列哪一種家庭型態呢？

- (A) 第一類、第二類都是核心家庭
- (B) 第一類是核心家庭、第二類是主幹家庭
- (C) 第一類是主幹家庭、第二類是擴展家庭
- (D) 第一類是擴展家庭、第二類是核心家庭。

- () 9. 小蘭家族如右圖，下列哪一個選項是正確的呢？

- (A) 甲關係是姻親
- (B) 媽媽和大伯母是妯娌
- (C) 姑媽若和姑丈離婚，姑丈和小蘭的親屬關係不變
- (D) 小蘭共有 4 位旁系血親。

姑媽：姑姑



- () 10.男童柴柴罹患罕病「結節硬化症」並有多重障礙疾病，原生家庭的環境也不甚理想，出生 17 天大就因父母照顧不當被送進醫院，成為社會局收案的兒虐個案。由於疾病因素，社會局找不到能安置柴柴的地方，他的主治醫師王杏安決心「收養」他。關於「收養」，下列哪一個選項是正確的呢？

- (A) 王醫師只須向戶政事務所辦理登記即可
- (B) 王醫師與柴柴依法成立姻親關係
- (C) 王醫師與柴柴是所謂的「擬制血親」
- (D) 王醫師與柴柴無法組織一個家庭。

- () 11.過去有重男輕女的觀念，遺囑中常常把財產都給兒子，不分給女兒，所以民法才有「特留分」的規定。下表中，除了配偶之外，子女、父母、兄弟姊妹、祖父母與被繼承人之間的關係，下列何者是正確的呢？

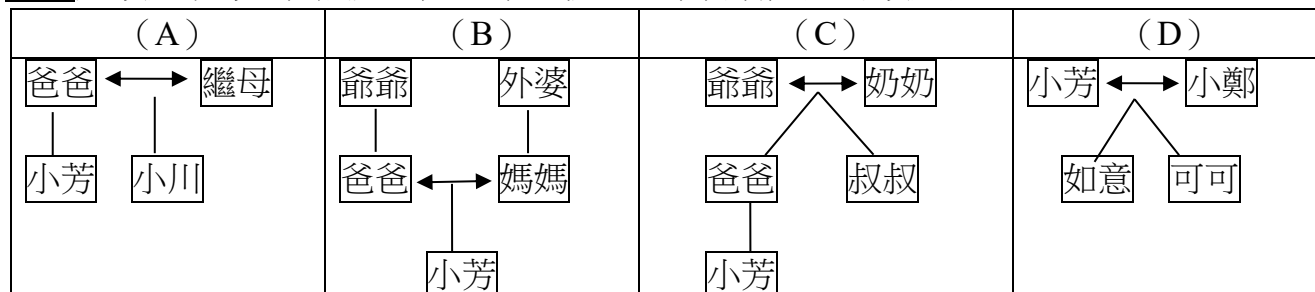
- (A) 都是直系血親
- (B) 都是旁系血親
- (C) 子女、父母、祖父母是直系血親，兄弟姊妹是旁系血親
- (D) 子女、父母、祖父母是旁系血親，兄弟姊妹是直系血親。

繼承順位	應繼分	應繼分	特留分
一	配偶與子女均分		應繼分的 1/2
二	配偶：1/2	父母：1/2	應繼分的 1/2
三	配偶：1/2	兄弟姊妹： 1/2	應繼分的 1/3
四	配偶：2/3	祖父母：1/3	應繼分的 1/3

() 12. 阿德過年時與爸媽回爺爺家和外公家，收到不少紅包。有爺爺的 3000 元、大伯的 1000 元、外公的 3000 元、舅舅的 1000 元、舅媽的 1000 元、阿姨的 2000 元。依上文，阿德收到來自旁系血親的紅包金額，總共是多少呢？

- (A) 6000 元 (B) 4000 元 (C) 3000 元 (D) 2000 元。

() 13. 小芳與家庭中每一位成員皆是直系血親。以下何者是她的家庭呢？



() 14. 方芳、余瑜、林琳和楊洋聊了自己的家庭型態，四位的家庭型態依序最可能是下列何者呢？

- (A) 重組家庭、兩地家庭、單親家庭、跨國婚姻家庭
 (B) 重組家庭、頂客家庭、跨國婚姻家庭、重組家庭
 (C) 單親家庭、兩地家庭、隔代教養家庭、跨國婚姻家庭
 (D) 單親家庭、隔代教養家庭、跨國婚姻家庭、重組家庭。

爸爸和媽媽離婚後協議，哥哥和爸爸一起住，我和媽媽一起住。

方芳

家裡只有我和祖母，爸爸和媽媽在外地工作。

余瑜

媽媽和爸爸結婚後來到台灣，媽媽想到她的家鄉時都會掉眼淚。

林琳

新媽媽和爸爸結婚後，帶了弟弟一起住，家裡很熱鬧。

楊洋

() 15. 大福與其同性伴侶 Pierre 依右表的規定辦理登記，他們的關係與民法的哪一種親屬相當呢？

- (A) 自然血親
 (B) 法定血親
 (C) 姻親
 (D) 配偶。

司法院釋字第七四八號解釋施行法

第二條：「相同性別之二人，得為經營共同生活之目的，成立具有親密性及排他性之永久結合關係。」

第四條：「成立第二條關係應以書面為之，有二人以上證人之簽名，並應由雙方當事人，依司法院釋字第七四八號解釋之意旨及本法，向戶政機關辦理結婚登記。」

() 16. 根據衛生福利部 110 年的「性別圖像」數據顯示，有配偶的女性，平均每日無酬家務及照顧時間為 4.41 小時，有配偶的男性則為 1.48 小時，相差 3 倍之多。下列何人關於此一現象的說法是正確的呢？

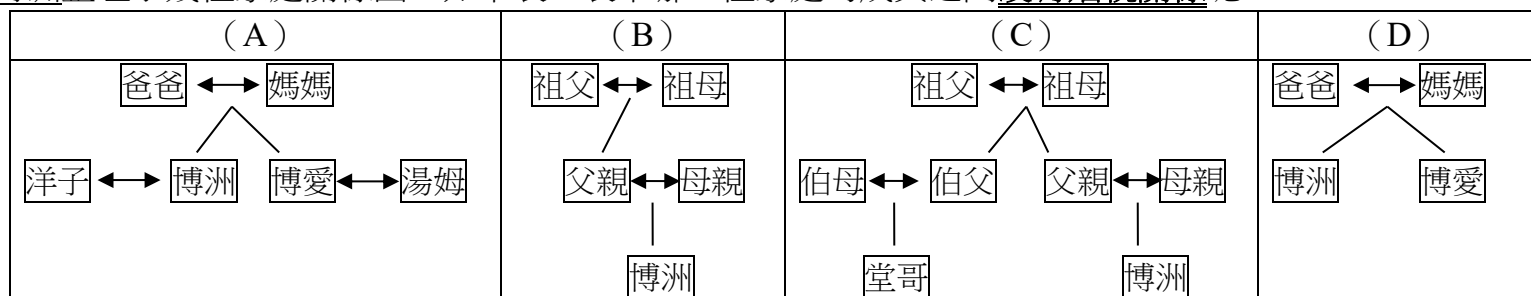
- (A) 大器：男性投入家務勞動的時間高於女性
 (B) 大漢：家務勞動不能花錢外包，所以由擅長家務的女性負責最恰當
 (C) 大心：女性薪資相較男性薪資來得低，更應該從事較多家務勞動
 (D) 大方：提供完整且充足的公共托育服務，能夠減少女性在家照顧孩子的責任。

() 17. 右表是立賢參加完某場演講後所整理的資訊，因為處境相同，獲益良多。該場演講的主題最可能是下列何者呢？

- (A) 小家庭的經營策略
 (B) 折衷家庭的和諧相處之道
 (C) 大家庭共同責任與自我成長的平衡
 (D) 擴展家庭的多元與尊重。

優勢	挑戰
關係緊密、情感連結深	支援系統相對薄弱
決策彈性大、有效率	經濟壓力相對集中
個人發展空間充足	育兒與照顧責任重
經濟支配自主程度高	情感支持管道少
減少世代衝突與婆媳問題	社會連結少、容易有孤獨感

() 18. 博洲整理了幾種家庭關係圖，如下表。表中哪一種家庭的成員之間沒有姻親關係呢？






- () 19.現代社會重視兒童人權，尊重孩子是獨立個體，強調親子平權的概念。下列何者符合上文的意旨呢？
- (A) 父母對於未成年之子女，有保護及教養之權利義務
- (B) 父母對子女重大權利意見不一致時，應以父母的最佳利益作為考量
- (C) 父母不得對子女施以任何的管教措施
- (D) 子女有被父母家暴、遺棄等情況，也須負扶養義務，不得主張免除或減輕。
- () 20.雅玉：「下週日我的生日派對，一定要到喔！」瑄俞：「收到！孩子可以請我媽媽幫忙顧。可是，要買妳的生日禮物，還要買新衣服，身為全職主婦，只能伸手向我老公要錢，他可能一毛不拔，唉！」雅玉：「男人真小氣！妳可以依民法規定主張自己的權利。」依上文，民法規定指的是下列何者呢？
- (A) 第 1001 條：夫妻互負同居之義務
- (B) 第 1003 條：夫妻於日常家務，互為代理人
- (C) 第 1018-1 條：夫妻於家庭生活費用外，得協議一定數額之金錢，供夫或妻自由處分
- (D) 第 1022 條：夫妻就其婚後財產，互負報告之義務。

- () 21.右表是依據國家發展委員會及內政部資料所編製 79-114 年當年老年人口占總人口比率。依右表，下列何人的說法是符合聯合國所訂定的標準呢？

年份	(%)	年份	(%)
79	6.2	109	16.1
82	7.1	111	17.6
89	8.6	112	18.35
99	10.7	113	18.76
107	14.6	114	20.8

- (A) 夏屏：79 年已經是高齡化社會
- (B) 佟爭：82 年已經是高齡社會
- (C) 庾淨：109 年已經是高齡社會
- (D) 馮石：113 年正式進入超高齡社會。
- () 22.春花與秋月是姊妹。春花：「宗翰妹夫真是好爸爸，請了育嬰假照顧你們的第一個寶寶。」秋月：「平善姊夫才是他的好榜樣呢！不過，我怕他手忙腳亂，一起申請了育嬰假。」依上文，下列何者是正確的呢？
- (A) 平善與宗翰是連襟
- (B) 育嬰假規定於性別平等教育法
- (C) 育嬰假政策主要是為了解決高齡社會的問題
- (D) 育嬰假政策主要是為了協助家庭的教育功能。
- () 23.對於經常使用暴力的父母，依法如何保護未成年的兒童與少年呢？
- (A) 依家庭暴力防治法規定，親屬也不得代為聲請保護令
- (B) 依民法規定，向縣（市）政府聲請保護令
- (C) 依民法規定，法院可以宣告限制或禁止父母行使親權
- (D) 依家庭暴力防治法規定，目睹家暴的兒童及少年，目前尚未列為保護的對象。

- () 24.小山真牙的外甥女要結婚了，右表是她收到的喜帖。依民法規定，下列何人的說法是正確的呢？

  	
☆ 長男	☆ 長女
野比大雄	野原向日葵
男方家長	女方家長
野比大助、	野原廣志、
野比玉子	野原美牙

- () 25.隨著社會變遷，家庭功能產生變化，下列何者是正確的呢？

選項	功能	變化
(A)	生育	現代家庭對養兒育女的觀念轉變，生育的子女數並未明顯減少
(B)	保護與照顧	家中人力不足，此功能全部被托育、安養機構所取代
(C)	教育	由於教育機構普及和傳播媒體發達，取代了部分的功能
(D)	經濟	現代社會分工細膩，此功能逐漸從著重消費轉為以生產為主