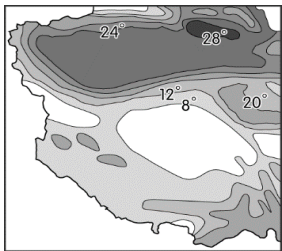


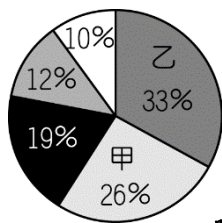
屏東縣立中正國民中學 113 學年度第一學期第一次段考八年級地理科試題

配分：第 1~30 題，每題 3 分；第 31~35 題，每題 2 分，共 100 分

1. ( ) 中國目前正規畫設立全球最大、廣達 250 萬平方公里的「第三級國家公園」，範圍內有當地民族文化，另外因地勢較高，位處中國地勢最高階，地表崎嶇，寒冷荒涼，同時也是長江的發源地。上述國家公園最可能位於下列哪一地形區中？ (A)四川盆地 (B)黃土高原 (C)青藏高原 (D)山東丘陵。
2. ( ) 中國西南部的喜馬拉雅山為世界最高的山脈。這座天然屏障的山脈為中國和下列哪一個國家之間的天然國界線？ (A)印度 (B)北韓 (C)阿富汗 (D)俄羅斯。
3. ( ) 中國的東半部受到地理位置的影響，有利於人口聚集及農業活動，成為開發較早的地區。請問：該地區的氣候類型主要是以下列何者為主？ (A)高地氣候 (B)沙漠氣候 (C)草原氣候 (D)季風氣候。
4. ( ) 中國南部地區常可見到騎樓或高腳屋，形成當地的聚落特色。這種建築分布和該地區何種氣候現象的關係最大？ (A)日照較長 (B)年均溫高 (C)風向多變 (D)多雨潮溼。
5. ( ) 中國實施一胎化政策造成人口金字塔圖出現明顯的變化，而其所造成的影響不包括下列何者？ (A)未來勞動人口短缺 (B)城鄉人口分布不均 (C)出現人口高齡化現象 (D)性別比上升。
6. ( ) 明清時期，因東南沿海地區人口快速增加，導致居民遠渡重洋移居別處開墾。請問：上述人口遷徙的主要原因為下列何者？ (A)人口稀少 (B)糧食不足 (C)降水量少 (D)地勢高聳。
7. ( ) 呈上題，在明清時期東南沿海的華人主要是順應哪一個季節的季風，移民到東南亞？ (A)冬季 (B)春季 (C)秋季 (D)夏季。
8. ( ) 舒華在中國人口統計局的網站上發現，2022 年中國 0~14 歲幼年人口的性別比為 110，其所代表的意義為何？ (A)幼兒出生率不斷提高 (B)幼年人口男多於女 (C)未來勞動力相當充足 (D)幼年人口大幅增加。
9. ( ) 近 20 年來，中國嬰幼兒的男女性別比嚴重失衡，形成此現象的主要原因為何？ (甲)一胎化政策(乙)人口外移(丙)工商業發達(丁)重男輕女觀念。 (A)甲丁 (B)乙丙 (C)丙丁 (D)甲乙。
10. ( ) 中國疆域幅員廣大，地勢高低起伏大，地形種類複雜。下列有關其地形特色的敘述，何者正確？ (A)東半部山脈以東—西走向為主 (B)中階地形以高原、盆地為主體 (C)地勢東高西低 (D)平原占地最廣。
11. ( ) 中國自然增加率已經下降很多，但為什麼每年的人口數仍增加許多，人口壓力依然龐大。這和下列哪一項因素的關係最大？ (A)鄉村文盲過多 (B)政府效能不彰 (C)人口總數過多 (D)傳統觀念難改。
12. ( ) 中國乾燥氣候區中，草原及沙漠氣候的分界線為下列何者？ (A)年降水量 250 毫米 (B)年均溫 0℃ (C)最冷月均溫 0℃ (D)年降水量 500 毫米。
13. ( ) 中國內陸地區的七月月均溫分布如附圖一所示。請問：影響圖中氣溫分布的主要因素為何？ (A)植被 (B)緯度 (C)風向 (D)地形。



附圖一



附圖二

14. ( ) 附圖二為中國五大地形面積比例圖，其中面積比例最大的乙地形區，具有下列何種氣候特色？ (A)夏溫涼爽 (B)夏季溼熱 (C)潮溼多雨 (D)終年乾熱。
15. ( ) 秦嶺、淮河為中國自然環境的重要分界線，形成南北兩地截然不同的區域特性。附表為中國秦嶺、淮河南、北兩地之間的自然環境比較，其中何者正確？

	(A)地形	(B)氣溫	(C)降水量	(D)河川
秦淮以北	平原、丘陵地形為主	最冷月均溫 < 0℃	年降水量大於 750 毫米	河川終年不結冰
秦淮以南	山地、盆地地形為主	最冷月均溫 > 0℃	年降水量少於 750 毫米	河川冬季易結冰

16. ( ) 根據附圖三中兩篇新聞快訊，中國西部接連兩天發生強大地震。請問：地震與下列哪一組板塊的關係最密切？ (A)歐亞板塊、太平洋板塊 (B)印澳板塊、太平洋板塊 (C)歐亞板塊、印澳板塊 (D)歐亞板塊、菲律賓海板塊。


新聞快報	新聞快報
2017年8月8日 四川九寨溝晚間9點19分發生芮氏規模7.0強震，目前已造成19人死亡、247人受傷。	2017年8月9日 早上7點27分，在新疆精河縣附近發生6.6級左右地震，震源深度僅11公里。烏魯木齊感覺震動劇烈。

附圖三

17. ( ) 中國境內各地的地理環境差異甚大，影響農作物的發展。附圖四為中國某作物的分布圖，依圖中作物分布範圍判斷，該作物最可能為下列何者？ (A)棉花 (B)水稻 (C)小麥 (D)玉米。

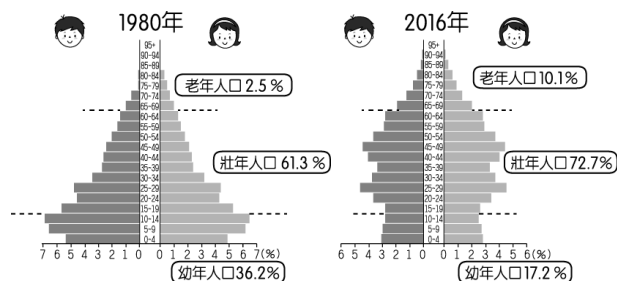


附圖四



附圖五

18. ( ) 傳統建築型態可以反映出當地區域特色，受到降水量、地形、氣候等因素影響，其建築所使用的建材及呈現出的建築型式，也都有所不同，請問：上面附圖五的傳統建築會出現在哪一個地理區呢？  
 (A)雲貴高原 (B)青藏高原 (C)黃土高原 (D)內蒙古高原。
19. ( ) 人口結構主要由人口金字塔來加以判斷，附圖六為中國 1980 年、2016 年人口金字塔圖，由於受到政策及經濟發展的影響，圖中出現了何種結構性的變化？ (A)幼年比例增加、老年比例減少 (B)男性人口減少、女性人口增加 (C)幼年比例減少、老年人口增加 (D)扶養人口增加、勞工比例減少。



附圖六

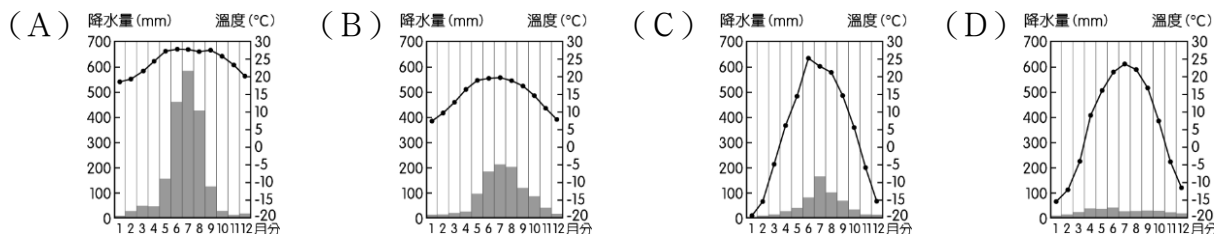


附圖七

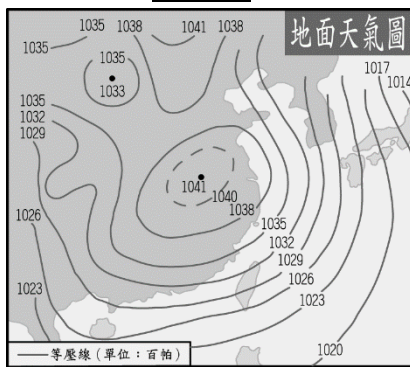
20. ( ) 傳統農牧業活動多和大自然環境息息相關，因此形成各地方的區域特色。附圖七為中國境內各地的傳統農牧業活動分布狀況，圖中各地區若依自然環境的降水量多寡加以排列，應該為下列何者？  
 (A)甲>丙>乙 (B)乙>甲>丙 (C)乙>丙>甲 (D)甲>乙>丙。
21. ( ) 中國的氣候類型依其位置而分為不同類型，附圖八中甲地的氣候類型應該為何？



附圖八

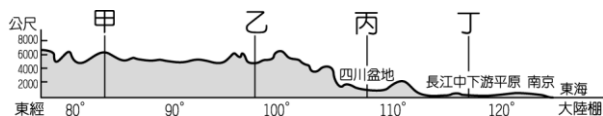


中國的氣候受到海陸性質的差異而有不同的特色，附圖九為中國某時期的地面天氣圖，請根據圖中資料回答下列問題：



附圖九

22. ( ) 根據附圖九的地面天氣圖判斷，最可能為下列哪一段時間內的大氣現象？  
 (A)春季 (B)夏季 (C)秋季 (D)冬季。
23. ( ) 根據附圖九判斷，當時中國境內的天氣現象最可能為下列何者？  
 (A)炎熱高溫 (B)降水充沛 (C)寒冷乾燥 (D)海風強勁。
24. ( ) 敬騰目前是北京大學的學生，依附圖九判斷，在這個季節裡，他所在的地區經常吹哪一個方向的風？  
 (A)西北風 (B)西南風 (C)東北風 (D)東南風。
25. ( ) 附圖十為中國地形剖面圖，請由圖中資料加以判斷，哪一個地區的環境負載力最高？

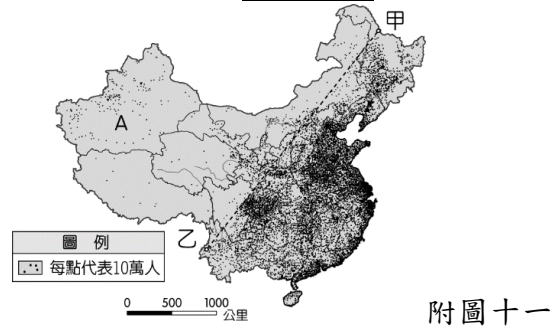


附圖十

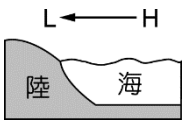
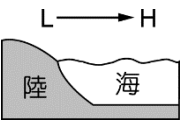
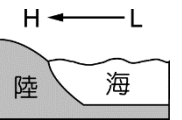
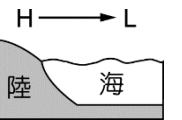
- (A)甲 (B)乙 (C)丙 (D)丁。



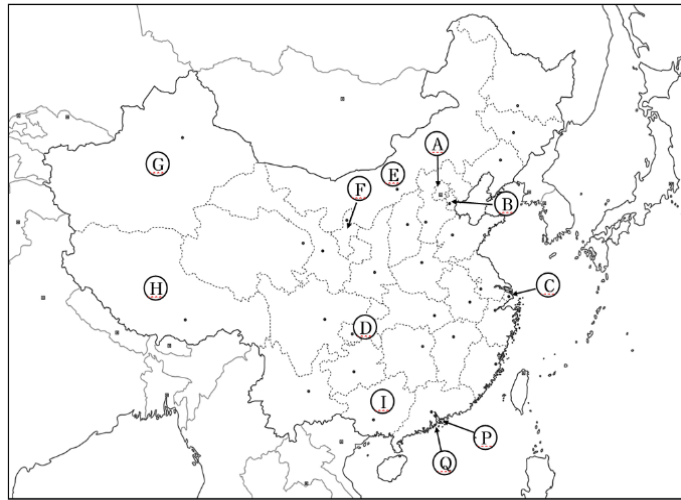
中國的人口總數眾多，而人口問題已成為未來重要的課題。**附圖十一**為中國的人口分布狀況，請依圖中資料回答下列問題：



附圖十一

26. ( ) **附圖十一**顯示出目前中國的重要人口問題之一為何？  
(A)人口過多 (B)性別不均 (C)教育低落 (D)分布不均。
27. ( ) **附圖十一**中甲、乙連線以東的地區，是受到何種因素的影響而成為人口稠密區？  
(A)氣溫涼爽 (B)氣候溼潤 (C)礦藏豐富 (D)地勢較高。
28. ( ) 下列中國哪一個地區的人口分布較為稀疏？ (A)東北平原 (B)華北平原 (C)珠江三角洲 (D)長江中下游平原。
29. ( ) 中國人口占世界的比例約 20%，人口總數僅次於哪一個國家呢？ (A)俄羅斯 (B)美國 (C)印度 (D)巴西。
30. ( ) 新聞報導：「中國南部地區因為連續大量降水，已造成低窪地區發生水患，影響村落共有 14 個，預計將遷移約上萬人往高處地區避難。災情慘重已引起國際社會的關注。」根據上述報導，該地區當時的天氣現象最可能原因為下列何者？  
(A)  (B)  (C)  (D) 
31. ( ) 臺北市常舉辦冠軍麵食大賽，常會吸引很多人來共襄盛舉。請問：臺灣人喜歡吃麵食，此與中國哪一地區居民飲食文化相關？ (A)中部 (B)西部 (C)北方 (D)南方。
32. ( ) 中國地勢的起伏會影響各地的氣候、水文及人文活動，請問：受到中國境內地勢起伏的影響，最有利於下列哪一個海洋的水氣吹入內地，提供充沛水源？ (A)印度洋 (B)大西洋 (C)北極海 (D)太平洋。

**附圖十二**為中國行政區圖，請依圖中資料回答下列問題：



附圖十二

33. ( ) 「塔里木盆地，是中國最大的盆地，面積大約是香港面積的 360 倍。高山圍繞阻隔了來自周圍的水汽，加劇了塔里木盆地的乾旱，最終在盆地中心形成了塔克拉瑪干沙漠，這個被稱作「死亡之海」的沙漠是中國最大的沙漠。從空中俯視，塔里木盆地就好似一個盛滿沙子的巨盆。當地的居民會利用夏季高山融化的雪水從事綠洲農業。」請問塔里木盆地位在**附圖十二**中的哪一個行政區？ (A)E (B)F (C)G (D)H。
34. ( ) 上海，素有「東方巴黎」之稱，東西方文化在這裡交融，形成了獨特的國際化氛圍。歷史文化地標如外灘和新天地，與浦東的現代景點如東方明珠和上海迪士尼度假區交相輝映。想要了解上海歷史的遊客可以前往田子坊，那裡有許多獨特的商店和畫廊。南京路步行街是時尚愛好者的天堂，而美食愛好者則可以在豫園、城隍廟品嚐道地的上海美食。請問上海位在**附圖十二**中哪裡？ (A)B (B)C (C)P (D)Q。
35. ( ) 此行政區曾被英國統治，於 1997 年主權移交後，中國為了向國際社會（包括台灣）宣傳一國兩制，因其在政治、經濟制度與生活型態異於其他行政區，所以設立為「特別行政區」，強調「馬照跑、舞照跳、五十年不變」，但事實上，中國政府仍透過各種制度改變，蠶食鯨吞其資源，始終不願落實一人一票的「特首普選」。在 2014 年 9 月 26 日，爆發了人民佔領中環運動（又稱雨傘運動），目的是為了爭取在 2017 年特首選舉落實真普選，佔領行動持續 79 天，最終示威區被強行清場，發起者被判刑入獄，戳破中國的謊言。請問此行政區位於**附圖十二**中的哪裡呢？ (A)P (B)Q (C)I (D)C。