

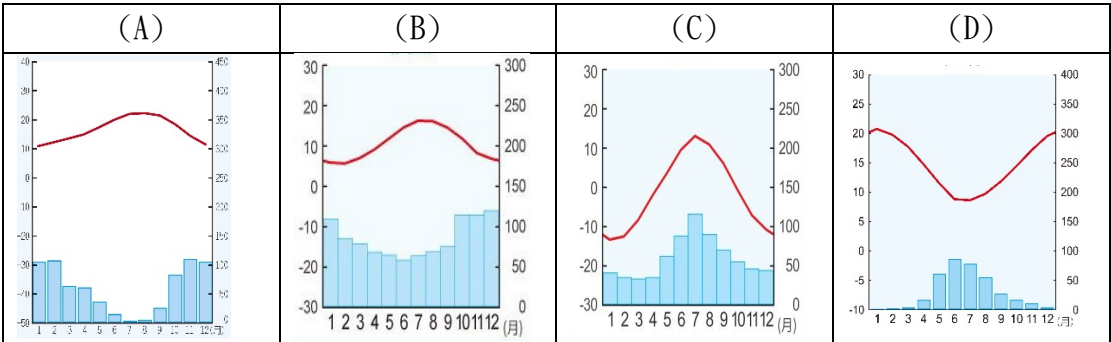
屏東縣立中正國民中學 113 學年度第一學期第一次段考九年級地理科試題

第 1-20 題，每題 3 分；第 21-40 題，每題 2 分 九年 班 號姓名

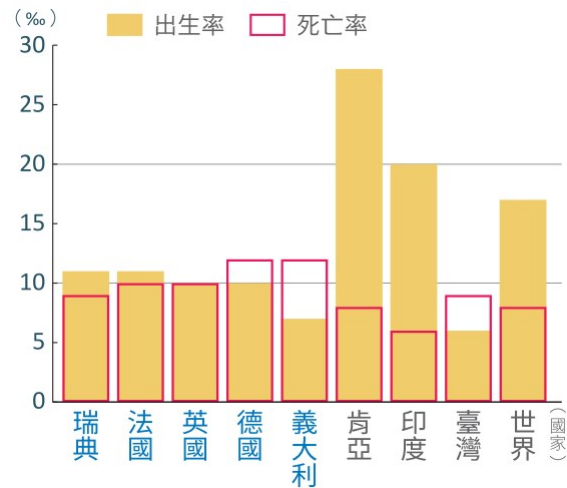
一、題組題(每題 3 分)

※『有「長壽樹」、「不死樹」之稱的橄欖樹，其果實所產出的橄欖油因富含維生素，又被稱為「液體黃金」，南歐遍布大型的橄欖莊園，故橄欖油又被稱為「地中海的液體黃金」。』請回答 1-4 題：

1. () 文中所述作物最有可能生長在哪一類型的氣候？
(A)溫帶海洋性氣候 (B)溫帶大陸性氣候 (C)溫帶地中海型氣候 (D)高地氣候。
2. () 下列哪一個國家最不可能種植橄欖？(A)西班牙 (B)法國 (C)義大利 (D)挪威。
3. () 『夏日期間，橄欖樹逐漸結出青綠的果實，並且在季末逐漸成熟。由於氣候乾燥、炎熱，因此儘管橄欖樹是耐旱樹種，但莊園仍需留意橄欖樹是否有適量的水份，持續的缺水會導致果實提早掉落或難以長大。』請問：此區夏日乾燥的主因是？(A)終年西風吹拂 (B)北大西洋暖流流經 (C)四周環地中海 (D)夏季高壓籠罩。
4. () 文中所敘述的位置最可能在下列一張氣候圖？



※附圖為 2022 年部分國家的出生率與死亡率統計圖。請回答 5-6 題



5. () 圖中哪個國家的自然增加率為負？
(A)義大利 (B)法國 (C)瑞典 (D)印度。
6. () 醫療進步的國家(如德國…)為何死亡率高於出生率？
(A)幼年人口多 (B)壯年人口多
(C)老年人口多 (D)移民人口多。

※歐洲像一個巨型半島伸入海洋，使大部分地區距海洋不遠，且海岸線曲折、港灣眾多，為交通、經濟活動的發展提供有利的條件。請回答 7-8 題：

7. () 歐洲並未瀕臨下列哪一個海域？(A)地中海 (B)北極海 (C)大西洋 (D)太平洋。
8. () 歐洲像一個巨型半島伸入海洋。下列歐洲哪個地理現象與上述特色有密切關係？
(A)陸運的交通無阻礙 (B)有豐富的礦產資源 (C)氣候溫和溼潤 (D)平原廣闊，利於農牧業發展。

※附表是 2010 年與 2020 年歐洲主要國家發電來源的組成比例(%), 根據表中資訊回答下列 9-11 題：

國家		化石燃料	核能	水力	太陽能	風力	其他
英國	2010	75	16	2	0	3	4
	2020	39	16	3	4	24	14
義大利	2010	72	0	18	1	3	6
	2020	57	0	17	9	7	10
丹麥	2010	66	0	0	0	20	14
	2020	16	0	0	4	57	23
德國	2010	59	22	4	2	6	7
	2020	43	11	4	9	23	10
西班牙	2010	45	21	15	2	15	2
	2020	33	22	13	8	21	3

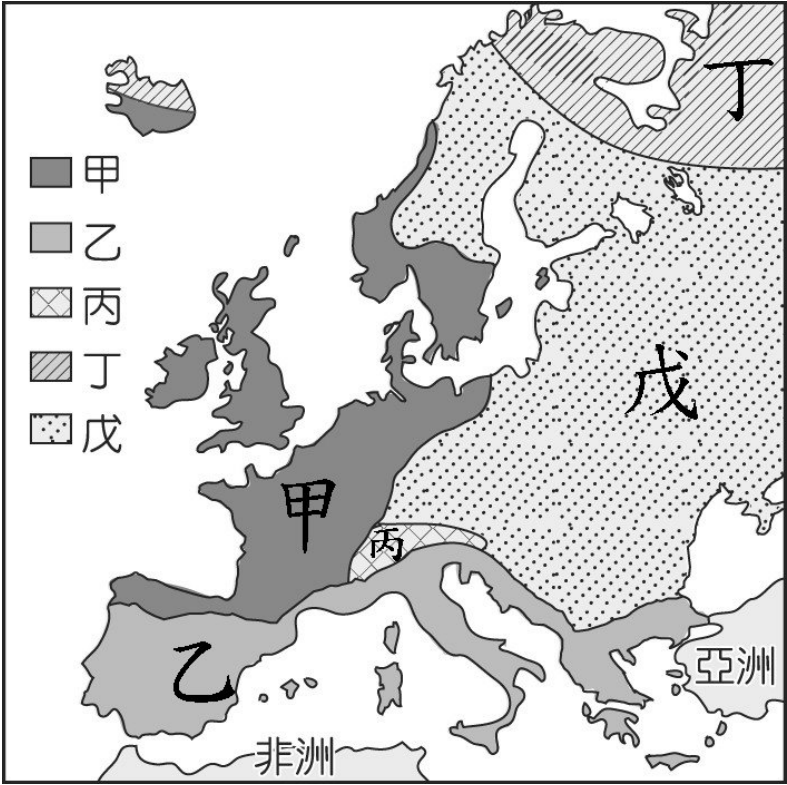
國家		化石燃料	核能	水力	太陽能	風力	其他
法國	2010	10	75	12	0	2	1
	2020	9	66	13	3	8	1
瑞典	2010	5	39	45	0	2	9
	2020	1	30	44	1	17	7
瑞士	2010	1	39	56	0	0	4
	2020	1	34	57	4	0	4

9. () 從西元 2010 年到西元 2020 年，歐洲許多國家使用化石燃料及核能發電的比例下降，而使用水力、太陽能或風力發電等再生能源的比例增加。歐洲國家發展再生能源發電的原因可能有哪些？(A)甲乙 (B)甲丁 (C)乙丙 (D)乙丁。

甲	減少對核能與核廢料安全的疑慮
乙	增加能源的進口依賴度
丙	提高電價增加稅收
丁	減少二氧化碳排放

10. () 表中 2020 年水力發電比例最高的兩個國家在自然環境上有哪一個共同特色？(A)冰河地形發達，谷灣眾多 (B)平原地形廣大 (C)山地、丘陵地多，地勢落差大 (D)地質相對古老，蘊藏豐富石油、天然氣。
11. () 西元 2015 年聯合國氣候峰會後，歐盟承諾以西元 1990 年的溫室氣體排放量為基準，在西元 2050 年時達到減排 80 % 以上的目標。為了逐步達成計畫，歐盟於西元 2020 年訂定再生能源發電(水力、太陽能、風力)達到 20% 的子目標。就此目標而言，表中所列的國家，有幾個已於西元 2020 年順利完成？(A)5 個 (B)6 個 (C)7 個 (D)8 個。

※下圖為歐洲氣候的分布圖。請回答12-15題：



12. () 溫度偏低、冬季尤其寒冷的特徵。這種氣候位於上圖中的？(A)甲 (B)丙 (C)丁 (D)戊。
13. () 氣候呈現垂直變化。這種氣候位於上圖中的？(A)甲 (B)丙 (C)丁 (D)戊。
14. () 終年受西風吹拂，且有北大西洋暖流帶來暖溼水氣，呈現全年有雨的特徵。(A)甲 (B)乙 (C)丙 (D)戊。
15. () 歐洲有足夠的降水量，適中的冬溫，有利農業發展也適合人居，這種優良的氣候條件，主要與下列哪兩個因素最有關？(A)季風、地形 (B)經度、地形 (C)西風、洋流 (D)西風、季風。

※『2015 年時，穿越「歐洲屋脊」的貨運總量（包含公路和地上與地下鐵路）約有3900萬噸，為提升南歐與西歐間的人流與物流，瑞士耗費 17 年終於開通世界最深、最長的聖哥達基線隧道。該隧道通車後估計每日旅運量將較之前增加六成有餘，可大幅縮短從瑞士蘇黎世到義大利米蘭的車程，提升荷蘭鹿特丹、比利時安特衛普連接亞得里亞海熱內亞港之貨運列車承載量。 時任德國總理梅克爾盛讚這項工程為歐洲一體化的「記號」，雖然瑞士並非「甲組織」成員，但該隧道的完工，仍對加強「甲組織」整合具有重大象徵意義。』請回答16-20題：

16. () 文中鐵路隧道穿越的山脈是？(A)烏拉爾山 (B)高加索山 (C)阿爾卑斯山 (D)喜馬拉雅山。
17. () 聖哥達基線隧道通車前，貨運多以地上路線為主，其地上路線多是利用何種地形開闢而成？(A)冰河堆積而成的平原 (B)冰河侵蝕而成的 U 型谷 (C)河川沖積出的沖積扇 (D)河川侵蝕而成的 V 型谷。
18. () 上文提及的「甲組織」所指為何？(A)APEC (B)UN (C)WTO (D)EU。
19. () 下列有關「甲組織」促進歐洲一體化的內容，何者正確？(A)需成為該組織的成員才能簽申根公約 (B)成立目的為加強各國外交、司法合作 (C)除歐元外，成員國不得使用其它貨幣 (D)成員間商品、資金和勞務可自由流通
20. () 「甲組織」在 2004 年後加入了許多新的成員，這些新加入的會員國，多半具有下列哪項特色？(A)多位於南歐，滿足歐洲各地資金需求 (B)多位於北歐，引領歐洲資訊科技發展 (C)多位於東歐，提供歐洲廉價勞力來源 (D)多位於西歐，供應歐洲工業所需原料

二、選擇題(每題2分)

21.() 下列關於歐洲分區的敘述，錯誤的是？

(A)西歐	平原為主，區內人口稠密、產業發達、人文薈萃、學術進步，是現代西方文明的重心所在。
(B)東歐	以往為蘇聯附庸國，為共產國家。後來蘇聯瓦解，紛紛獨立
(C)北歐	多冰河地形，地表崎嶇、岩石裸露、土層貧瘠，利於農業發展。
(D)南歐	歐洲緯度最南、氣候最溫暖的地區，面臨歐洲最暖和的地中海。

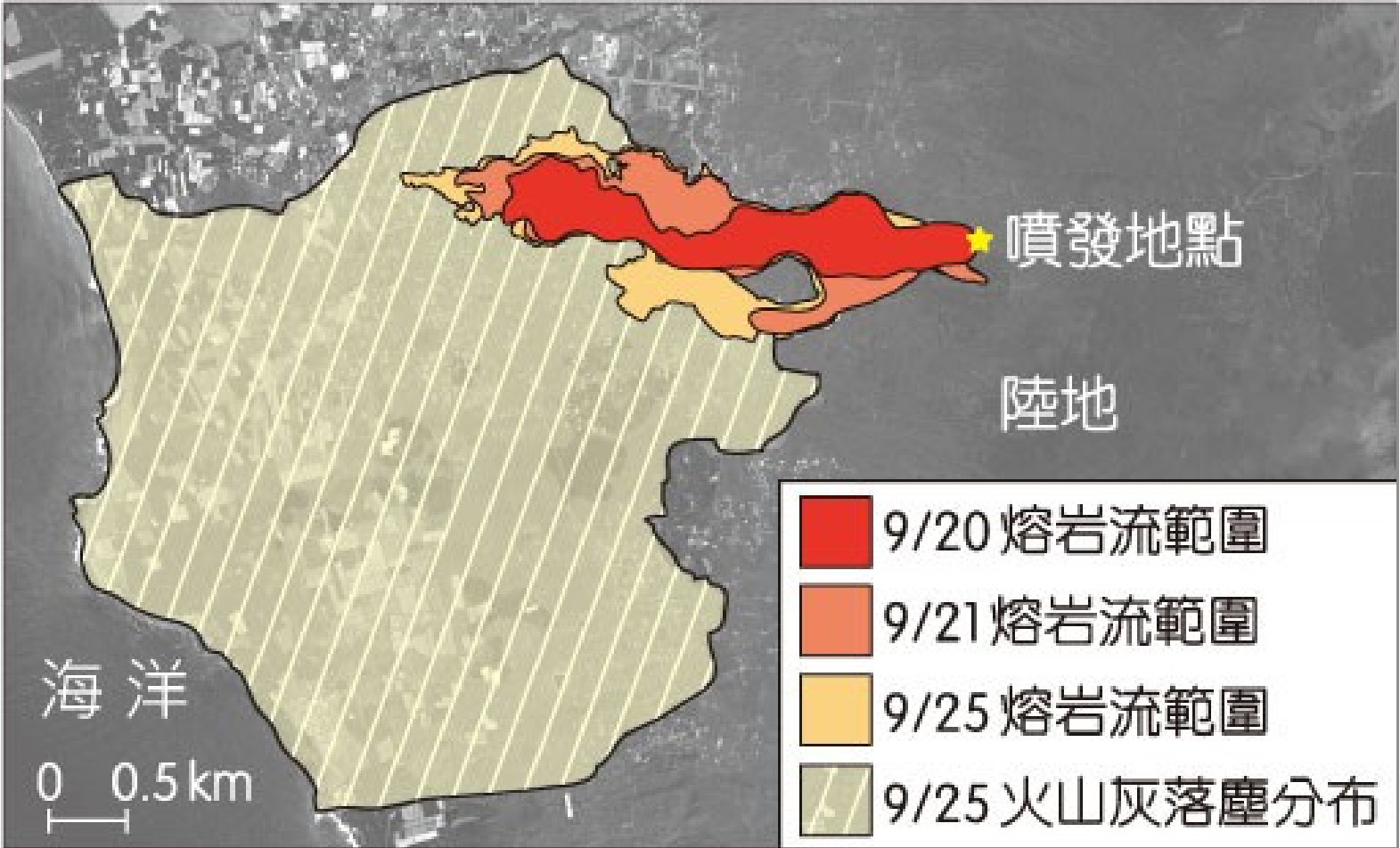
22.() 西歐地區河川眾多，且多有航運價值，河川水系連接運河，形成便捷的「水運網」。本區的工業原料與工業產品運輸皆有賴這些水運網，所以水運對本區的經濟發展扮演著相當重要的角色。請問：歐洲水路系統最大的動脈是？
(A)恆河 (B)黃河 (C)萊茵河 (D)多瑙河。

23.() 歐洲的氣候受到地形及盛行風向的影響，形成不同的氣候特色。請問：當地理位置由西方移向東方時，附表中有關歐洲氣溫和降水量的變化，何者正確？ (A)甲 (B)乙 (C)丙 (D)丁。

	甲	乙	丙	丁
年降水量	漸多	漸多	漸少	漸少
年溫差	遞增	遞減	遞增	遞減

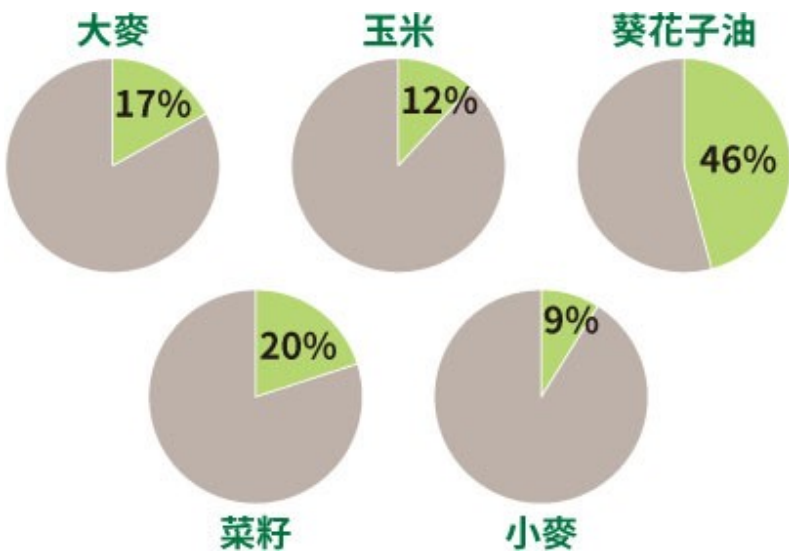
24.() 冰河侵蝕所造成的深邃峽灣景色壯麗，許多國際郵輪皆喜歡航行此區，以便遊客欣賞沿岸的風光。請問：歐洲的哪一個地區由於受到冰河作用侵蝕的影響，因此出現許多秀麗壯觀的峽灣地形？ (A)東歐 (B)西歐 (C)南歐 (D)北歐。

25.() 西班牙海外島嶼的某座火山於 2021 年 9 月噴發，附圖為其噴發後熔岩流及火山灰落塵分布的狀況。根據圖中資訊判斷，下列推論何者錯誤？(A)火山熔岩流向西流往大西洋 (B)當時的主要風向為東風
(C)火山噴發地點距海約 6 公里 (D)該區域的地勢西高東低



- 26.() 下列哪一個地點位於歐洲西部海岸？
(A)(34.357°S, 18.474°E) (B)(40.781°N, 1.500°W) (C)(34.374°S, 115.136°E) (D)(47.524°N, 52.620°W)
- 27.() 塑膠製品進入海洋後易隨著海流漂流，例如：有許多塑膠垃圾隨著北大西洋暖流漂到北極圈以北的海域，冰封在冰層中，使得該區成為塑膠垃圾的儲存槽。下列何國沿海的垃圾最可能會隨著上述洋流漂流到此區？
(A)日本 (B)中國 (C)挪威 (D)烏克蘭。
- 28.() 東歐藉由經濟改革，吸引西歐企業東移投資設廠。東歐吸引企業前往的最有利因素，為下列何者？
(A)行政效率 (B)海運方便 (C)勞工便宜 (D)技術進步。
- 29.() 英、法、德三國是西歐內的經濟合作伙伴，貨物服務互通有無。但是位於德國的貿易商注意到今年的營運成本增加，來自英國的貨品不僅運輸費用上升，連運輸時間也多延遲 12~36 小時，使得貿易商必須調整價格來反映成本，或是轉購買價格沒有變動的法國產品。上述的情況，可能與下列何者有關？
(A)英國脫離歐盟 (B)英國人口老化 (C)法國是申根公約國 (D)英國人力成本本高。
- 30.() 歐洲阿爾卑斯山以南的三大半島，在地形上最大的特色為何？
(A)平原為主 (B)冰河地形發達 (C)高原古陸塊 (D)板塊擠壓，地形崎嶇不平。

- 31.() 歐洲的人口分布較其他洲平均，其可能的原因為何？
(A)火山眾多、土壤肥沃 (B)緯度較高、傳染病少 (C)氣候溼潤、平原廣大 (D)高溫多雨、農業發達。
- 32.() 歐洲 18 世紀在生產技術上產生重大變革，以蒸汽動力的機器逐漸取代傳統人工的生產方式。英國因為盛產某礦產，能提供機械運作的動能，而成為工業革命的發源地。前述所指礦產為下列何者？
(A)鐵礦 (B)石油 (C)鈾礦 (D)煤礦。
- 33.() 『聯合國的世界幸福報告』，是針對世界各國人民對於社會安全、經濟問題和個人自由等感受，統計分析而成的資料。2022 年公布前五名的國家依序是：芬蘭、丹麥、冰島、瑞士與荷蘭。』文中前三名的國家的共同特色是？(A)實施計畫經濟 (B)納稅比重相較臺灣低 (C)國家普遍缺乏自然資源 (D)社會福利佳。
- 34.() 附圖為 2021 年烏克蘭占全球農產品出口比例圖，下列敘述哪項最能說明此圖？(A)烏克蘭為全球重要能源出口國 (B)烏克蘭為全球主要農產進口國 (C)全球有近半的小麥產自烏克蘭 (D)全球葵花子油可能因戰爭短缺



- 35.() 德國由於生育率低，人口結構老化，總人口數多年呈現負成長。2011 年，該國總人口數較前一年成長 0.1%，是近年來首度正成長。附表是該國 2010 年和 2011 年的部分人口資料，根據表中資料推論，下列何者最可能是德國該年總人口數增加的主要原因？ (A)老人慢性病獲得明顯控制 (B)給予多國觀光免簽證待遇 (C)政府鼓勵生育的政策奏效 (D)大幅開放東歐國家的移民。

年度	2010 年	2011 年
人口總數	8170.8 萬人	8180.0 萬人
新生兒人口數	67.8 萬人	66.3 萬人
死亡人口數	85.8 萬人	85.2 萬人

- 36.() 下列有關南歐各國的敘述，錯誤的是？

(A)	當地雨季和生長季無法配合，當地以灌溉農業為主
(B)	觀光業是南歐國家的經濟支柱
(C)	西班牙是歐洲文明與奧林匹克運動會的發源地，當地有著名的鬥牛文化
(D)	義大利工業較發達，生產的跑車世界馳名。

- 37.() 下列有關西歐國家的敘述，錯誤的是？

(A)英國	早期以煤礦發展工業成經濟強國，20 世紀在北海發現石油，讓英國維持工業優勢
(B)法國	時尚產業在全球也占有一席之地。
(C)德國	雄厚的科技能力，使德國的工業以創新及高品質著稱
(D)荷蘭	多瑙河出海口鹿特丹。為歐洲吞吐量最大的港口

- 38.() 下列有關北歐國家的敘述，錯誤的是？

(A)	普遍擁有豐富資源。例如：北海的石油、闊葉林、地熱、漁業…等。
(B)	經濟實力雄厚，社會福利極佳，民眾的納稅比重也相對較高。
(C)	近年來由於人口老化，政府和青壯年人口的負擔愈來愈重
(D)	VOLVO、IKEA 均是源自於北歐著名的大型企業

- 39.() 台灣鴻海集團選擇東歐的捷克作為進入歐洲的據點。請問：捷克在歐洲的優勢，下列何者錯誤？
(A)位置適中 (B)歐盟境內便宜的勞動人力 (C)捷克為歐盟的成員 (D)產品與周邊國家往來只需微薄關稅。
- 40.() 『希臘沿海地區，丘陵延伸至海岸，受到海水面上升影響，沿海谷地被海水淹沒形成海灣。』上文所述與下列何種地形最相關？(A)峽灣 (B)珊瑚礁海岸 (C)沙岸 (D)谷灣。