

屏東縣立中正國民中學 113 學年度第二學期第二次段考九年級地理科試題

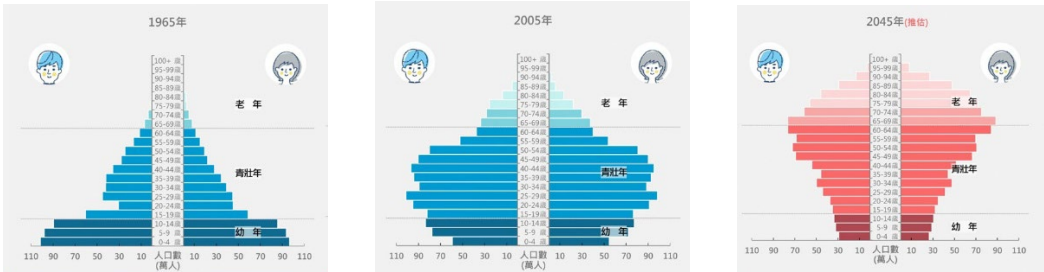
一、 單選題(第 1-20 題，每題 2 分；第 21-40 題，每題 3 分，共計 100 分)

1.() 附表(一)為妙妙國四座島嶼的經緯度位置。由表中四個島嶼的經緯度判斷，下列敘述何者正確？(A)珍珍島屬熱帶氣候區 (B)慈慈島位於幼幼島的東南方 (C)奇奇島與臺灣為相同時區 (D)幼幼島是最晚迎接每一年元旦曙光的地方。

	珍珍島	奇奇島	慈慈島	幼幼島
經度	10°E	120°W	175°E	170°W
緯度	40°N	5°N	30°S	65°S

表(一)

2.() 下列分別為台灣三個不同時期的人口金字塔，下列敘述何者錯誤？(A)出生率持續下降 (B)平均壽命延長 (C)2005 年扶養比最高 (D)2045 年已顯示勞力不足的問題。



3.() 下圖(一)為臺灣某大眾運輸路線圖。請問下列活動皆需當日來回，哪項最適合選擇此大眾運輸方式？
(A)宅急便將商品從台南運至嘉義 (B)宜蘭青年每日通勤至南港上班 (C)菜農將雲林蔬果運至桃園販售 (D)主管從高雄到台北開午餐會報



圖(一)



圖(二)

4.() 為維持自然資源的永續發展兼顧生態教育、觀光旅遊的功能，畫設國家風景區，自 1984 年以來共設立 13 處國家風景區，圖(二)為某國家風景區的 LOGO，以該風景區內的鹽田與鹽山為元素主軸設計。請問：下列何者並非該國家風景區的觀光資源？(A)黑面琵鷺生態展示館 (B)漁光島(三鯤鯓) (C)野柳地質公園 (D)七股紅樹林保護區。

5.() 根據勞動部的統計(如表二)，2024 年台灣的外籍勞工人數已超過 75 萬人，這些外籍勞工大致可分為參與製造業、農業、漁業等產業移工，及家事服務以及照顧工作等社服移工。在台灣，外籍勞工享有一系列基本的勞動權益，旨在確保外籍勞工在台灣的工作環境中獲得公平對待和合理保障。然而，外籍勞工在台灣也面臨一些挑戰。首先，語言障礙影響了他們的工作效率和社交生活；文化差異也可能導致外籍勞工在台灣適應困難，需要時間來適應新的環境和價值觀。右圖為台灣產業移工及社服移工的最大來源國別及性別人數比較，下列敘述何者正確？(A)移工多來自南亞地區 (B)社服移工的性別比<100 (C)印尼籍移工較能理解中國文化 (D)越南籍移工更易產生宗教適應的困難

項目	產業移工	社服移工
最大來源國	越南	印尼
男性	32000 人	130000 人
女性	1800 人	260000 人

表(二)

6.() 「數百年來，此一長條狀的海域是印度與中國之間最直接的通道，也是溝通太平洋與印度洋的樞紐，目前全世界約有 1/5 的海運貿易及 1/3 的油輪由此通過。」請問：下列哪一個城市因為是該海域的重要門戶而快速發展？(A)高雄 (B)香港 (C)新加坡 (D)蘇伊士。

7.() 2023 年，某作物的世界前五大生產國為印度、美國、中國、巴西及巴基斯坦。根據這些國家的自然環境及作物屬性判斷，此作物最可能為下列何者？(A)稻米 (B)棉花 (C)橄欖 (D)橡膠。

8. () 永旺(AEON)為日本最大零售商集團，近年來大舉投資越南市場，預計投入 20 億美金於 2025 年以前開設 20 個購物中心。此外，諸多日本企業如藥妝店、生活雜貨品牌等也紛紛提出越南的投資計畫。請問，上述日系企業投資越南主要與當地哪一項優勢有關？(A)勞力低廉 (B)市場廣大 (C)原料充足 (D)技術進步。
9. () 擁有超過 3000 萬人口的新德里，每年 10 月中旬到隔年 1 月都會被霾害所籠罩，空污嚴重情況為全球數一數二嚴重，致命污染物滯留在空氣中，至於污染物大多來自農民焚燒作物殘梗清理農地，以及工廠和車輛排放的廢氣，而此嚴重空汙問題竟與當地的氣候環境有關。請問：文中的氣候環境應為下列何者？(A)北部高山阻擋季風，無風狀態使汙染不易散去 (B)西南季風盛行，帶來他區的汙染源 (C)值季風轉換期，乾燥無雨使汙染物不易被水帶走 (D)盆地內風力減弱，汙染物易於累積
10. () 巴西利亞(圖三)是巴西的首都，也是聯邦區的行政中心，位於海拔 1158 公尺的巴西高原上，亦為聯合國教科文組織所列的世界遺產。巴西利亞是全世界最大的 20 世紀後期建城的城市。請問下表(三)中何者為巴西利亞的氣候資料？(A)甲 (B)乙 (C)丙 (D)丁

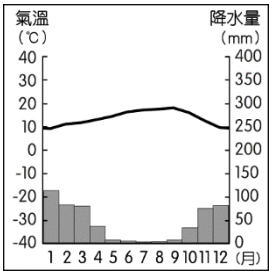


圖(三)

	1 月均溫	7 月均溫	1 月雨量	7 月雨量
甲	22°C	19°C	203mm	3mm
乙	25°C	29°C	18mm	306mm
丙	24°C	18°C	20mm	154mm
丁	26°C	28°C	185mm	215mm

表(三)

11. () 小美查詢家鄉的氣候資料，資料顯示如下圖(四)，請問小美可能居住在下列哪個城市？ (A)羅馬 (B)紐約 (C)東京 (D)倫敦

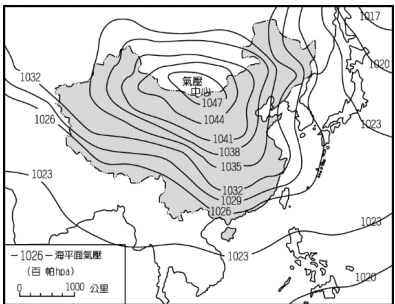


圖(四)

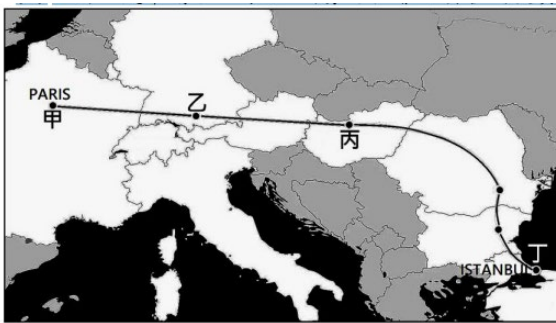
1. 西班牙語
2. 馬雅文明
3. 白銀王國
4. USMCA

圖(五)

12. () 小寬參加地理知識知識競賽，須由以下四個提示(如圖五)猜出國家名，請問應該是下列哪一個國家？(A)秘魯 (B)巴西 (C)墨西哥 (D)阿根廷
13. () 氣候深深影響人民生活，請問下列哪一項飲食特色與當地氣候環境無關？(A)朝鮮泡菜文化 (B)泰國酸辣飲食 (C)西班牙橄欖油沙拉 (D)台灣麵食文化
14. () 2025 年 3 月 18 日，以色列和巴勒斯坦伊斯蘭主義組織「哈瑪斯」停火談判卡關，以色列軍方今天宣布對加薩走廊發動「大規模空襲」。以色列政府今天聲明說，哈瑪斯一再拒絕釋放人質，並且回絕美國總統川普的特使魏科夫(Steve Witkoff)及調停人員所有提案，以色列現在將「加強軍事行動」對付哈瑪斯。以巴衝突是長久以來西亞地區的問題，請問下列有關兩方衝突的原因何者正確？(A)巴勒斯坦石油資源豐富引發以色列占領 (B)雙方族群信仰差異，爭奪聖地與領土 (C)搶奪重要交通要道紅海港口的控制權 (D)以色列佔領兩河流域的上游引發阿拉伯人不滿
15. () 羅傑斯(Rogers)為世界著名的探險家，第一次橫渡西伯利亞的日誌記載：「橫渡高大的山脈後，來到溝谷縱橫的高原地區，最後到了終點，沼澤遍布的平原窪地，讓陪著我們一路走來的吉普車陷入困境。」請根據上文判斷，其前進方向為何？ (A)由南向北前進 (B)由西向東前進 (C)由北向南前進 (D)由東向西前進。
16. () 世界展望會經常發起各種捐款以援助漠南非洲國家的饑荒問題，更結合明星藝人前往當地從事志工，希望喚起更多人的關心。請問目前該地區的發展困境和下列何者關係最小？(A)礦產缺乏 (B)人口大增 (C)乾旱嚴重 (D)族群戰亂。
17. () 附圖(六)是東亞某日的地面天氣圖。在此氣壓系統下，鄰近的亞洲地區有不同的盛行風方，請問下列哪一個地區的風向與其他三者不同？(A)朝鮮半島 (B)恆春半島 (C)中南半島 (D)印度半島。



圖(六)



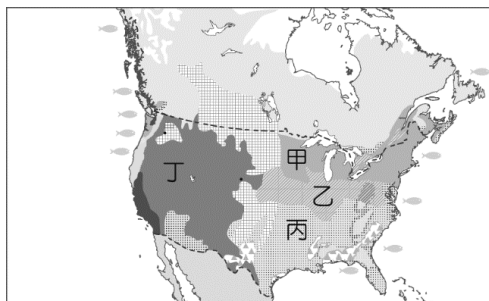
圖(七)

18. () 東方快車自 1883 年開始載著各國王公貴族、重要歷史人物穿梭歐亞大陸，主要往返於巴黎至伊斯坦堡(路線如圖七)。雖然今天該列車已暫停服務，但旅客仍可自行搭乘火車，追蹤昔日東方快車的路線。櫻雯退休後決定善用退休

19. () 聯合國氣候會議歷經長時間磋商，終於在 2015 年達成《巴黎協議》，繼《京都議定書》之後，持續努力改變人類長期以來的經濟模式與生活型態，以達成永續發展的目標。下列哪項行為最符合上述協議的目標？(A)到北極觀光帶動地方經濟發展 (B)支持地產地消，降低食物里程 (C)保護瀕臨滅絕的物種及其棲地 (D)減排氟氯碳化物，保護臭氧層

20. () 若各國政府想開發其他替代再生能源以減緩電力供應不足、擺脫對石化燃料依賴的問題，下列是政府考慮設廠的類型與地點，何者錯誤？(A)風力發電廠—東非沿岸 (B)水力發電廠—剛果河流域 (C)太陽能發電場—撒哈拉沙漠 (D)地熱發電廠—冰島。

21. () 美國近兩年來因為頻傳狂牛症的疫情，使該國的牛肉出口受到影響，包括臺灣皆曾禁止美國牛肉的進口。請問：美國的牛肉生產主要位於附圖(八)中哪一個地區？(A)甲 (B)乙 (C)丙 (D)丁。



圖(八)

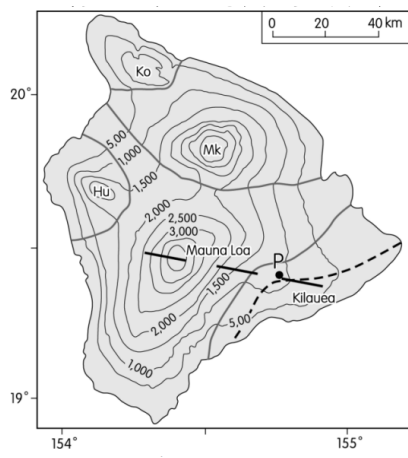
■二十四節氣是古人依據生活經驗所歸納出與天氣有關的節氣，其命名反應了季節和氣候的變化，附圖(九)是各節氣及陽曆的概略時間配置。請回答 23-25 題。

陽曆 2月至4月						陽曆 5月至7月					
立春	雨水	驚蟄	春分	清明	穀雨	立夏	小滿	芒種	夏至	小暑	大暑
陽曆 8月至10月						陽曆 11月至翌年1月					
立秋	處暑	白露	秋分	寒露	霜降	立冬	小雪	大雪	冬至	小寒	大寒

圖(九)



A map of Taichung City showing its various districts. The districts labeled are: 北投區 (Beitou), 萬里區 (Wanli), 士林區 (Shilin), 信義區 (Xinyi), 大安區 (Dahan), 中正區 (Zhongzheng), 南港區 (Nangang), 板橋區 (Banqiao), 永和區 (Yonghe), 文山區 (Wenshan), 新店區 (Xindian), 深坑區 (Shenkeng), and 平溪區 (Pingxi).



圖(十)

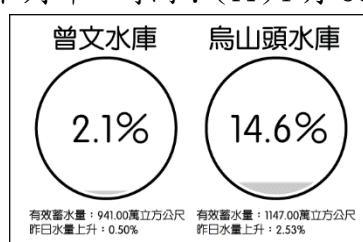
圖(十一)

■圖(十一)為某一個火山島，火山非常活躍，全島最老的火山地形在 40 萬年前即高出海面的 Mauna Loa 火山口。最新的爆發集中在 Kilauea 火山區，Kilauea 在當地語言的意思是「冒出」、「蔓延」，意指頻繁噴發的熔岩。Kilauea 火山曾在 2014 年 11 月有短暫爆發，熔岩淹沒農田；2018 年 5 月 3 日 開始在圖中 P 點出現更大規模的噴發。請回答 26-29 題：

26. () 依地圖等高線判斷 Mauna Loa 火山錐最高處的海拔高度約為多少公尺？
 (A) 3700 公尺 (B) 4000 公尺 (C) 4200 公尺 (D) 4600 公尺。
27. () 此大島位於哪一個半球？(A) 東、北半球 (B) 東、南半球 (C) 西、北半球 (D) 西、南半球。
28. () 下列有關 2018 年 Kilauea 的火山活動敘述，何者正確？(A)火山爆發屬於外營力 (B)噴發的大量岩漿流入太平洋 (C)因印澳板塊撞擊太平洋板塊所致 (D)噴發的火山灰將隨西風吹至美洲西部
29. () 台灣哪一個島嶼與此島嶼的成因相同？(A)龜山島 (B)琉球嶼 (C)太平島 (D)金門烈嶼

■地下水資源宛如一座水銀行，伏流水就像是現金流，水庫水源則像是定存，只要妥善地分調運用，就不必擔心缺水危機。極端氣候肆虐全球，缺水問題恐將一再重演。近期台灣某河擁有全台最大集水區，其流域內已探勘發掘豐沛的伏流水，使其成為旱象之下的救命之水。請回答 30-31 題。

30. () 水庫儲量與降雨時間息息相關，以曾文溪流域為例，圖(十二)是阿敏在某日上網時所查詢到該流域內水庫的儲量圖示。請問阿敏的查詢時間最可能為下列哪一時間？(A)4 月 30 日 (B)7 月 3 日 (C)8 月 9 日 (D)10 月 12 日。



圖(十二)

31. () 依文中所述，下列哪一個縣市可以嘗試開發伏流水，使其成為供水來源之一？(A)台北 (B)台中 (C)高雄 (D)花蓮

■中國在改革開放後，經濟發展上見到成效，和美國並列為世界兩大經濟強國，其國內生產毛額及對外投資金額高居世界第二、消費量更成為世界之首。近年來中國為擴展自身經濟版圖與國際影響力，在 2013 年推出「一帶一路」的經濟政策。面對中國的擴張，美國總統川普於 2017 年 11 月的亞洲行期間，大力倡導「印度太平洋區域」，並將「印太戰略」寫入其首份的《國家安全戰略報告》，正式定調為其國家安全戰略。由於「甲國」與中國大陸之間有「歷史的困境」，包括戰爭仇恨、邊界爭端、達賴喇嘛等問題；而且，兩國現今還有區域霸權爭奪及貿易不平衡等問題。故美國、日本積極拉攏「甲國」，以共同對抗中國大陸勢力的擴張。請回答 32-33 題。

32. () 文中「甲國」下列哪一個國家？(A)俄羅斯 (B)南韓 (C)印度 (D)巴基斯坦
33. () 一帶一路計畫的參與國家普遍經濟發展程度不高，這些國家希望藉由引入中國資金促進國內經濟發展，但卻也面臨到許多變數與問題，其中不包括以下哪一項？ (A)參與國面臨龐大債務負擔 (B)中國左右參與國政治與經濟發展 (C)參與國與中國發生利益糾紛 (D)中國大量勞工進入參與國影響該國工作權。

■卡達為阿拉伯半島東側臨波斯灣的小國，儘管是沙漠中的小國，由於具有豐富的天然資源，成為全球人均 GDP 名列前茅的國家。但因為本國人口少，為了維持經濟持續成長，必須依賴大量外籍人士，以滿足該國的勞力需求。請回答 34-37 題。

34. () 文中所指天然資源應為下列何者？(A)天然氣 (B)煤礦 (C)鐵礦 (D)銅礦
35. () 卡達屬熱帶沙漠氣候，請問造成該國氣候乾燥的主因為何？ (A)距海遙遠 (B)西風背風側 (C)涼流流經 (D)副熱帶高壓壟罩。
36. () 下列哪一個地區同屬熱帶沙漠氣候區？(A) 澳洲西部 (B) 美國西南部 (C) 中國西北部 (D) 阿根廷南部
37. () 附表(四)為 2000 至 2010 年德國、埃及、卡達、墨西哥的人口資料。根據上文描述，其中何者最可能為卡達？
 (A)甲 (B)乙 (C)丙 (D)丁。

項目 國家	自然增加率 (‰)	社會增加率 (‰)	幼年人口 (%)	老年人口 (%)
甲	11.8	11.5	21.8	1.2
乙	-2.1	2.7	14.5	18.7
丙	16.3	-3.6	32.2	5.4
丁	17.8	-0.2	33.1	5.3

表(四)



圖(十三)

■阿星想挑戰「法國吃晚餐，義大利吃早餐」的跨國旅程，特地規畫了從巴黎搭夜間火車前往威尼斯的路線如圖(十三)：

38. () 阿星搭夜車時發現，某中一段路線經過幾次長長的隧道，這是因為火車正穿越哪座山脈？(A)庇里牛斯山 (B)喀爾巴阡山 (C)阿爾卑斯山 (D)烏拉爾山
39. () 早上到了威尼斯車站發現天空萬里無雲讓阿星非常開心，他發現這季節的義大利炎熱乾燥，法國卻可能遇到陰雨天氣，由此可知阿星最可能是在下列哪個季節造訪歐洲？(A)春季 (B)夏季 (C)秋季 (D)冬季
40. () 阿星從義大利入境法國相當便利，完全沒有麻煩的邊境檢查與簽證手續，主要原因為何？(A)兩國皆為歐洲聯盟成員 (B)兩國皆使用歐元 (C)互為對方最主要貿易國 (D)兩國皆有簽署申根公約