

屏東縣立中正國中 113 學年度第 2 學期第 2 次段考 9 年級 社 會 領 域 公 民 科 試 題

九年 班 座號 姓名

★請使用 2B 鉛筆將正確答案劃記於答案卡，否則不予計分

一、單一選擇題（請選出最適合的一個答案）（每題 4 分，共 100 分）

() 1. 7 年孝班開班會。麗蓮：「今天要討論購置電風扇一事，請大家踴躍發言。」祥太：「我提議用班費購買，這樣才公平。」枋遠：「我的座位吹不到電扇。我提議使用者付費。」麗蓮先由祥太的提議進行表決，但是欽田提出臨時動議，麗蓮趕緊針對兩個提議徵求附議。依上文，下列何者是正確的呢？

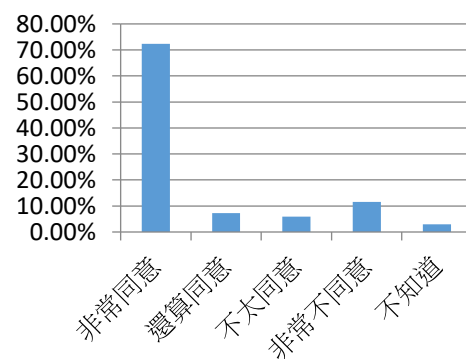
- (A) 麗蓮應該是導師 (B) 麗蓮須先由枋遠的提議進行表決
(C) 欽田所提出的是秩序問題 (D) 附議應有一人以上書面簽名。

() 2. 地點：美國 白宮。川普（揶揄的口氣）：「你今天盛裝打扮呢！」澤倫斯基（穿象徵烏克蘭的黑上衣、著軍靴）：「烏俄戰爭結束後，我會穿正式服裝。」葛倫（記者）：「你在我國的最高權力中心，卻拒絕穿西裝？你有西裝嗎？」上述對話所傳達的真正意涵為下列何者呢？

- (A) 川普並未以自己的文化為標準批判他人的文化
(B) 澤倫斯基應入境隨俗穿西裝
(C) 媒體記者藉機包裝促銷美國的文化
(D) 握有政治經濟優勢的強勢文化，過於強調其優越感，對不同文化進行高低、優劣的區分。

() 3. 財政部公布最新修訂的 113 年全國稅收統計，全年稅收達 3 兆 7619 億元，超出預算 5283 億元。右圖為 Yahoo 奇摩針對「國民黨將推動全民普發現金一萬元，你是否同意？」進行網路民調，共有 7300 名網友參與投票，調查結果如右圖。右圖主要顯示出公共意見的哪一個特性呢？

- (A) 非公開性 (B) 差異性
(C) 不穩定性 (D) 影響性。

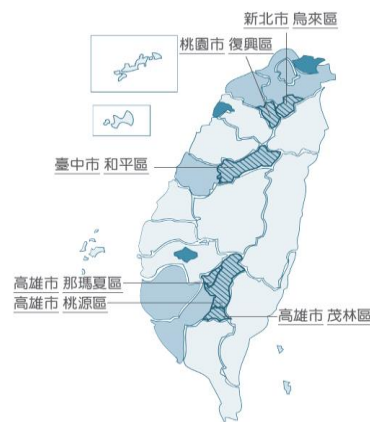


() 4. Dawas：「我爺爺配合政府能源政策，將農地租借給光電業者，卻反而因此失去農保資格。」Nokis：「農業部已澄清可補件，不影響老農權益。」Dawas：「收到，謝謝。」Nokis：「我哥哥赴美進修期間，依舊法可以先暫停繳健保費，需要時再復保。但修法後，人在國外一樣要繳費。」Dawas：「人在國外用不到健保吧？」Nokis：「依法可以申請核退在外國就醫費用。」Dawas：「收到，謝謝。」關於上文中所提兩個政策，下列何者是正確的呢？

- (A) 兩者皆屬於社會福利的就業安全項目 (B) 為了更有效的運用資源，政府嚴格控管收支
(C) 逐漸縮減保險制度，增加發放補助津貼 (D) 未將人性尊嚴的維護列入考量。

() 5. 右圖為 6 個直轄市的自治區，其中的和平區，民眾有紛爭時，想要到設置於公所的委員會進行協議時，便須長途跋涉，還要冒著被中橫便道沿路邊坡落石砸中的危險。公所於是在 109 年全國首創視訊機制，直到今年才完成首樁案件。依上文，下列何者是正確的呢？

- (A) 和平區長的產生方式是由市長所指派
(B) 此為現代資訊科技發展的隱憂
(C) 委員會於雙方彼此同意的情況下作成書狀，送交法院核定後，與法院確定判決具有相同效力
(D) 若有一方反悔，另一方並不能聲請法院強制執行。



() 6. 元宵節三大民俗活動「北天燈、南蜂炮、東寒單」，其中的「炸寒單」，信眾以火炮為寒單爺驅寒取暖，炸炮也有「愈炸愈發」的寓意。獨立媒體報導者則以不小的篇幅指出值得人深思的另一面，曾治療嚴重燒燙傷肉身寒單的醫師試著提問：民間信仰與人身安全之間如何取得平衡？以及消防單位的兩難在於無形文化資產與安全法規的抗衡。以上的敘述強調下列哪一個概念呢？

- (A) 誠實信用 (B) 公平正義
(C) 機會成本 (D) 多元文化。

- () 7. 彭苕 (15 歲)：「我在宏哥開的熱炒店上班，下午 5 點到 9 點，時薪 150 元。」名祚：「還是去我哥的工作室拍清涼寫真，一件酬勞 2000 元，比較好賺！」彭苕：「拍清涼寫真怪怪的！去熱炒店上班，陪客人喝酒，1 杯 100 元，還有免費的菸抽，我可以接受啦！」依上文，下列何者是正確的呢？
- (A) 宏哥依法得雇用彭苕，但是至少須給最低工資時薪 190 元
- (B) 宏哥和名祚的哥哥都違反了兒童及少年性剝削防制條例
- (C) 彭苕喝酒、抽菸違反兒童及少年福利與權益保障法，會被處以罰鍰
- (D) 彭苕的父母會被依違反勞動基準法處以罰金。

- () 8. 下表的事件與基本權利的配對何者正確呢？

選項	事件	基本人權
(A)	<u>高雄郵局</u> 員工被以公文告知，未得長官許可，不得以私人或代表機關名義任意發表有關郵政事業或職務的談話，覺得權益受損。	參政權
(B)	<u>陳姓網紅</u> 發業配文，卻轉載某律師設計的粉專圖卡，侵犯對方的權益。	自由權
(C)	主管機關針對集合住宅改善室外通路、避難層坡道、昇降設備增設無障礙設施，提供最高總工程經費 45% 的補助。	平等權
(D)	<u>慈濟基金會</u> 表示從未指示或要求慈濟人不得行使選舉與罷免權。	受益權

- () 9. (甲) 臺紐經濟合作協定的緣故，紐西蘭進口鮮乳今年起零關稅。酪農為此抗爭了一年多，訴求進口液態乳不能有"鮮"字。行政院原本決定保存期 14 天 (含) 以下才可標示為鮮乳，但是 (乙) 接獲來自美、日的關切，恐出現貿易障礙，於是重新召開協調會，擬規範有國產鮮乳標章才能標示鮮乳，衛福部、經濟部及農業部都需要調整 (丙) 食品安全衛生管理法、鮮乳保久乳調味乳乳飲品及乳粉品名及標示規定、鮮乳標章核發使用要點等規範。(丁) 中華民國酪農協會對結論表示滿意。依上文，下列何者是正確的呢？
- (A) 由甲可知，台、紐的互動方式為國際援助
- (B) 乙所傳達的是文化全球化與經濟全球化兩個面向的交互影響
- (C) 丙的三項規範皆由行政機關制定、修改即可
- (D) 由丁可知，志願結社具有自主性。

- () 10. 公民老師製作了卡片給學生抽選，進行中央政府角色扮演的活動。抽選結果如右表，扮演立法委員的人數總共有幾位呢？

角色任務	人數
統率全國陸海空三軍	2
制定、修改和廢止法律	3
提出總統彈劾案	4
提出公務人員彈劾案	1
執行預算並做成決算	2
審理政黨違憲的解散案件	2
主管國家考試	3

- () 11. 由七人組成的盜刷高鐵票銷贓集團，涉嫌以虛擬身分證號大量訂購高鐵票，另外還透過釣魚簡訊取得被害人信用卡資訊，以盜刷方式支付票款，再以低於原價轉賣車票，獲利高達 1300 萬元。上述七人被依鐵路法、刑法相關罪名起訴。依上文，下列哪一個選項是正確的呢？

- (A) 七人應負擔行政責任 (B) 由檢察官向法院提起公訴
- (C) 可能會被判處徒刑、拘役或罰鍰 (D) 由法官執行確定判決。

- () 12. 依右表，下列哪一位的意見是正確的呢？

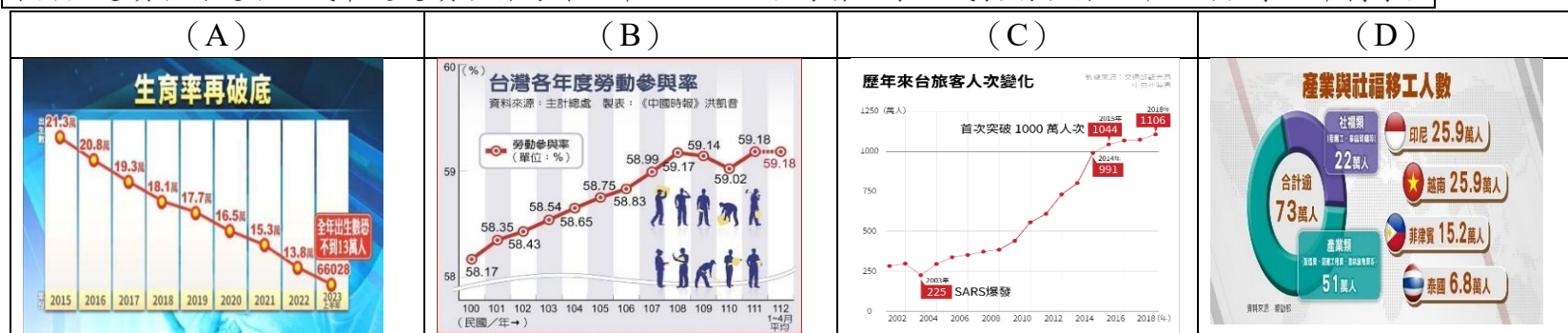
- (A) 劍偉：憲法法庭的成員及行政院院長皆是由總統提名，經立法院同意之後任命
- (B) 偉信：所通過的草案已臻完備，直接由總統公布後生效
- (C) 信泉：民法的位階低於憲法，高於命令
- (D) 泉誠：修改內容屬於私人間財產上的權利義務變動。

因應憲法法庭 112 年憲判字第 4 號判決意旨，行政院院會通過「民法親屬編部分條文修正草案」及「民法親屬編施行法第七條之一修正草案」，內容包括修正裁判離婚原因、有關夫妻剩餘財產分配、贍養費制度、有關子女扶養費。

- () 13. 網路家庭國際資訊股份有限公司及皇室股份有限公司於 PChome24h 購物網站銷售羽絨被商品，在廣告宣稱「填充物：羽絨 95%」，卻與事實不符。主管機關考量該商品廣告採用美國舊標準，廣告載有相關數據對照說明，並已將廣告下架，影響交易秩序、公共利益尚屬輕微，故依法不處罰鍰，僅予以警示。上述法律依據是指下列何者呢？

- (A) 公平交易法 (B) 消費者保護法 (C) 民法 (D) 社會秩序維護法。

- () 14.清寒僑外生來台灣既能拿學位又可以打工，這些學生被行政院國家發展委員會、勞動部定義為"多元勞動力"。教育部技職司指稱此是多贏的政策，許多面臨退場危機的私立高職與技專校院，招收僑外生，學校可以繼續經營、老師可以維持工作、對國內產業也有幫助。依上文，此政策背後的原因應為下列何者呢？僑外生是指在海
外出生連續居留迄今，或最近連續居留海外 6 年以上，並取得當地永久或長期居留證件回國就學之華裔學生



- () 15.20 歲俞姓男子夥同 17 歲曹姓少年，持辣椒水(防狼噴霧器)搶劫朱姓男子價值 1 萬 2000 元的毒品及現金 7000 元。被捕後，曹姓少年坦承犯行，指證共犯是俞男。依上文，以下四位的看法，何者是正確的呢？

- | | | | |
|---|--|--|---------------------------------|
| (A) | (B) | (C) | (D) |
| <p><u>俞姓</u>男子為完全行為能力人，不得因年齡主張減輕其刑。</p> | <p><u>曹姓</u>少年會被檢察官起訴，移送少年法庭，處以徒刑。</p> | <p><u>曹姓</u>少年家屬只須負擔刑事責任，不須負擔民事責任。</p> | <p>男子與少年若不服判決結果，應向上級機關提出訴願。</p> |
| <u>方芳</u> | <u>余瑜</u> | <u>林琳</u> | <u>楊洋</u> |

- () 16.依右表，由下列何者可以得知，原住民族與大自然和諧共存的文化，並以部落為生產與分配的單位，發展出重視共享互助與生態平衡的價值觀呢？

- (A) 甲 (B) 乙
(C) 丙 (D) 丁。

(甲)位於桃園復興區的嘎色鬧(Ksunu)部落，(乙)族人透過部落會議，一個可以討論屬於自己部落內之公共事務的平台，提出營造民族環境的意見。會後決定在部落入口處繪製故事牆，由族人組成工班，自己來討論、繪製和施作，協力完成了八個故事展版，八個重要主題。(丙)其一，將蜻蜓作為部落意象，用"蜻蜓點水"比喻祖先從原居地遷移到嘎色鬧部落才定居下來的曲折歷程。(丁)其二，"換工"(sbayux)，蓋房子(kbalay ngsal)、種稻(muhi pagay)、燒墾(mnayang)。這些樸實的展版讓訪客藉此瞭解部落，更是族人合力創造出來的過去與現在之連結。

- () 17.台灣伴侶權益推動聯盟等 9 個團體，赴監察院陳情。上述團體指出，內政部明知違憲，仍然規定跨性別者於變更性別登記時，須提交摘除性腺器官醫療證明。因此，請求監察院針對內政部怠忽職守展開調查。依上文，下列何者是正確的呢？

- (A) 台灣伴侶權益推動聯盟接受捐款，因此是營利事業 (B) 監察院可以對內政部發動糾舉的職權
(C) 文中團體的訴求旨在維護人性尊嚴 (D) 內政部的規定屬於行政處分。

- () 18.去年 12 月喬拉尼(Abu Mohammed al-Jolani)所領導的敘利亞反抗軍，宣布終結前總統阿塞德(Bashar al-Assad)的統治，國家機構將由前總理賈拉里(Mohammed Jalali)管理，直到完成政權轉移。依上文，國家與政府的區別，下列何者是正確的呢？

- (A) 國家可能因政權轉移而被取代 (B) 政府才具有穩定性與持續性
(C) 總統對外只能是代表政府的具體象徵 (D) 政府僅是國家的構成要素之一。

- () 19.高雄市殯葬管理處爆發貪汙弊案，殯葬業者向喪家收取 1000 至 2000 元不等的火化服務費，用以行賄 4 名負責火化的技工，讓遺體插隊優先火化，不耽誤到撿骨、進塔時辰。3 名技工遭羈押禁見，另 1 人以 10 萬元交保。上文提及哪些社會規範呢？

- (A) 風俗習慣、法律 (B) 倫理道德、法律
(C) 風俗習慣、宗教信仰 (D) 宗教信仰、倫理道德。

- () 20.廣福整理了使用"文化幣"的相關資訊，如下表。表中哪一個選項是正確的呢？

(A) 貨幣類型	由政府所發行的法定貨幣
(B) 貨幣特性	具有交易媒介的功能
(C) 產品的分類	手作體驗是有形的財貨
(D) 市場類型	實體店家是無形的市場

() 21.投票是民主國家最常見的政治參與方式。下表列出四位的資料，哪一位的資格符合項目是正確的呢？

	年齡	設籍時間 (截至選、罷、投日)	褫奪公權	監護宣告	資格符合項目
(A) 森洋	19	4 月	否	否	公投
(B) 奇正	25	6 月	否	是	立委罷免
(C) 榕凰	30	3 年	是	否	競選市長
(D) 翠花	40	1 月	否	否	總統選舉

() 22.知名餐廳鼎泰豐澳洲雪梨分店，去年因沒有付給勞工合法薪資，包括支付低於法定最低工資、未支付加班費、週末及公共假日的加班費，被罰款 400 萬澳幣（約新台幣 8225 萬元），如今已退場，招牌也撤下了。依上文，下列何者是正確的呢？

- (A) 餐廳的做法提高了生產成本，利潤也隨之提高
- (B) 可知在澳洲雪梨開餐廳門檻較高，競爭程度也較低
- (C) 基於契約自由原則，政府應尊重勞僱雙方約定的內容，保持中立
- (D) 政府應保障市場勞動，以免發生剝削勞工、勞資對立等不公平現象。

() 23.雲茜：「明天請假一天。姑姑的兒子在 IG 連絡我去參加祖父的喪禮。」曉莢：「我記得妳的父親已過世，所以是妳的母親帶著妳和妹妹去致意？」雲茜：「只有我參加，同住的繼父與母親上班前會先開車送我去會場，再送妹妹，也就是他們的女兒，去幼兒園。」曉莢：「我會代理妳的工作，請放心。」依上文，下列何者是正確的呢？

- (A) 雲茜的旁系血親有 3 位
- (B) 雲茜的家庭是兩地家庭
- (C) 雲茜與繼父是擬制血親
- (D) 雲茜父親雖已過世，母親與姑姑仍然是妯娌。

() 24.一人家戶最多的是人口最大縣市新北市，達 63.4 萬餘戶，但占比最高、最孤獨的縣市是澎湖縣，達 41.9%，其次是基隆市的 39.9%及台北市的 39.3%；而最不孤獨的縣市是彰化縣的 27.9%。關於上文中出現的各縣市，下列何者是正確的呢？

- (A) 新北市的立法機關為市民代表會
- (B) 澎湖縣長，任期為 4 年，連選得連任
- (C) 基隆市的層級與屏東市相同
- (D) 台北市民於地方選舉時，僅須選出市長、市議員、里長。

() 25.右圖為 113 年 5 月到 114 年 3 月期間台幣對韓幣的匯率。依右圖，下列何人的說法是正確的呢？

- (A) 小花：113 年 7 月到 113 年 9 月期間，台幣貶值，韓幣升值，出口台灣水果利潤降低
- (B) 小云：113 年 9 月用台幣換到最多韓幣
- (C) 小樹：113 年 9 月到 114 年 1 月期間，台幣升值，韓幣貶值，進口韓國泡麵成本降低
- (D) 小石：114 年 3 月到韓國玩最省錢。

