

屏東縣立中正國民中學 113 學年度第二學期第二次段考八年級地理科試題

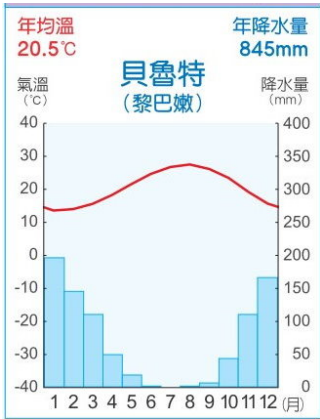
第 1-20 題，每題 3 分；第 21-40 題，每題 2 分 七年\_\_\_\_\_班\_\_\_\_\_號姓名\_\_\_\_\_

※『穆斯林信仰「獨一旦無與倫比」的造物主阿拉，並相信人生意義和目的是服從並取悅造物主阿拉（真主）並慈愛所有真主的創造物。教徒每日必須向麥加做 5 次禮拜。』請回答 1-3 題：

1. ( ) 台灣的國際移工多來自於東南亞，下列哪一個國家的移工會是穆斯林的機率最高？  
(A)印尼 (B)泰國 (C)越南 (D)中國。
2. ( ) 麥加(21°N, 39°E)。在高雄(22°N, 120°E)打工的穆斯林 Adam，他想朝麥加禮拜。請問他禮拜的方向會是在高雄的哪一個方向？(A)東北方 (B)西北方 (C)西南方 (D)東南方。
3. ( ) 下列關於穆斯林的平日生活，下列何者錯誤？

(A)食	不食豬肉、不喝酒
(B)衣	男性多穿著黑色長袍，女性則身著白色罩袍
(C)住	房屋多就地取材。屋頂平坦，部分國家更發展出風塔建築。
(D)行	傳統上陸上交通多仰賴駱駝

※下圖黎巴嫩(貝魯特)的氣候圖。請回答 4-5 題：



4. ( ) 貝魯特 1 月降雨的主因是？  
(A)西風迎風坡 (B)副熱帶高壓壟罩 (C)低壓壟罩 (D)熱帶氣旋。
5. ( ) 貝魯特的氣候類型是？  
(A)熱帶雨林氣候 (B)熱帶莽原氣候 (C)熱帶沙漠氣候 (D)溫帶地中海型氣候。

※甲國歷史近 3,000 年。該國的□□河是世界上最長的河川，幾近筆直地由南到北流經非洲東北部的沙漠地區，河川的流量受熱帶莽原氣候的降水特徵影響，雨季定期氾濫，帶來豐沛的河水與肥沃的土壤。多虧□□河的存在，可使甲國的農業可以一年有兩次的收穫。請回答 6-9 題：

6. ( ) 依文中敘述，甲國是哪一個國家？(A)伊拉克 (B)沙烏地阿拉伯 (C)伊朗 (D)埃及。
7. ( ) 依文中所述，□□河是哪一條河川？(A)底格里斯河 (B)約旦河(C)幼發拉底河(D)尼羅河。
8. ( ) 承上題，□□河瀕臨下列哪一個海域？(A)黑海 (B)紅海 (C)波斯灣 (D)地中海。
9. ( ) 該國沙漠廣布的原因與下列哪一個敘述最相關？  
(A)副熱帶高氣壓壟罩 (B)盛行風背風坡 (C)距海遙遠 (D)熱帶低壓盤據。

※附圖為塔吉鍋，是北非地區傳統的料理方式與鍋具，由於當地水資源不足，特殊的鍋蓋設計可以增加鍋內的水氣循環，留住珍貴的水氣鎖住食材的水分。請回答 10-11 題：

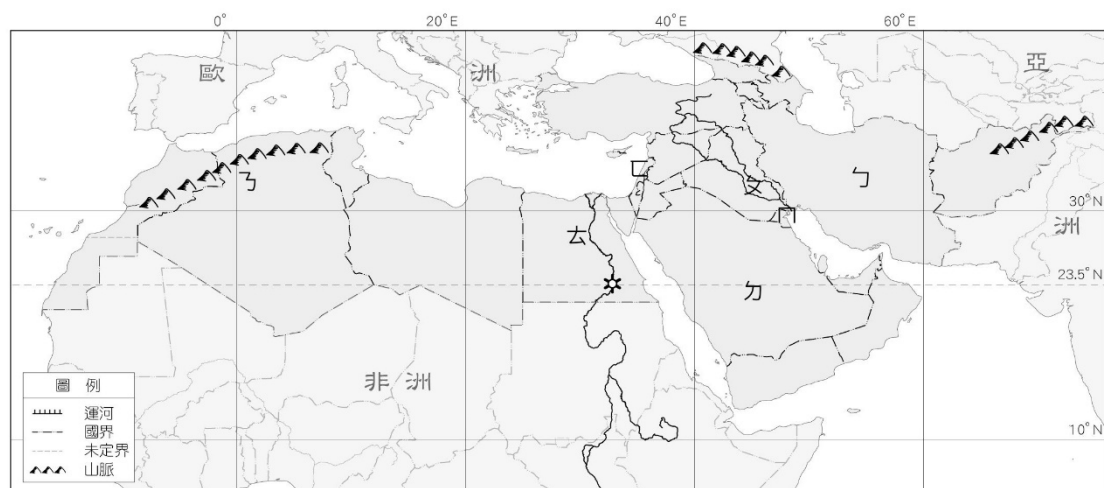


10. ( ) 依附文，塔吉鍋的設計與下列何者最相關？  
(A)地勢高聳 (B)乾熱的氣候環境 (C)濱海的位置 (D)濕熱的氣候環境。
11. ( ) 下列哪一海域周邊最有可能此用塔吉鍋？  
(A)南海 (B)日本海 (C)孟加拉灣 (D)地中海。

※□□□運河連結歐洲與亞洲之間的南北雙向水運，船隻不必繞過非洲南端的好望角，大大節省了航程。每年約 25,000 艘船隻通過運河，占世界海運貿易的 14%。請回答 12-14 題：

12. ( ) □□□運河是哪一條？(A)巴拿馬運河 (B)京杭大運河 (C)中央大運河 (D)蘇伊士運河。
13. ( ) □□□運河的兩端分別是哪些海域？(A)地中海、紅海 (B)地中海、南海 (C)北海、南海 (D)北海、紅海。
14. ( ) □□□運河是下列哪一個國家的重要外匯收入來源？(A)埃及 (B)以色列 (C)沙烏地阿拉伯 (D)伊拉克。

※本區受氣候乾燥的限制，傳統上以逐水草而居的游牧生活為主；靠近山區則多採山牧季移。而綠洲農業的發展，可依取水來源不同而有所差異。附圖為西亞與北非的示意圖，請回答 15-18 題。

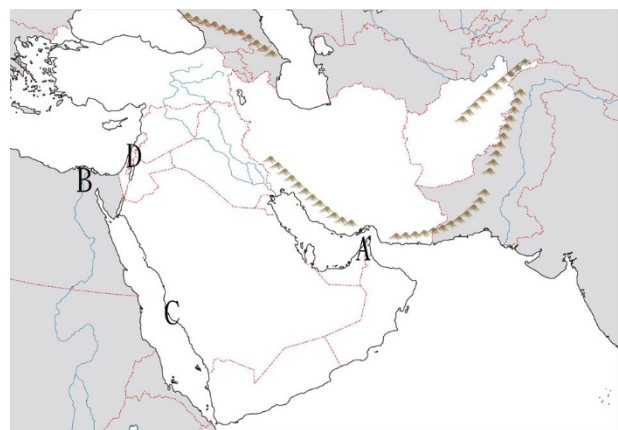


15. ( ) 『由於當地氣候少雨，水資源不足，無法將大量的水資源提供給農業用水，若採用「滴」的方式灌溉農作物可以減少因陽光而蒸發的水分，避免水資源過度浪費。』以上敘述在形容下列哪一個地區？  
(A) ㄅ (B) ㄆ (C) ㄇ (D) ㄋ。
16. ( ) 『發源於幼發拉底河和底格里斯河，故又被稱為「兩河文明」。由於兩河地域位處沙漠與海洋環繞的平原帶，故不少民族相繼在此建立根據地，先後有巴比倫、亞述、新巴比倫與波斯人在此建立帝國。』前文敘述的「兩河文明」可能位於下列哪一個國家？(A) ㄅ (B) ㄆ (C) ㄇ (D) ㄋ。
17. ( ) 下圖的灌溉設施最可能出現於下列哪些地區？(A) ㄅㄆ (B) ㄆㄋ (C) ㄅㄋ (D) ㄇㄋ。



18. ( ) 每一個綠色圓圈代表一個綠洲灌溉區。圓心則為地下水井所在。這在哪一個地區？(A) ㄅ (B) ㄆ (C) ㄋ (D) ㄋ。

※附圖為西亞與北非重要都市分布圖。請回答 19-20 題：



19. ( ) 『三大宗教的共同聖地，這裡容納了不同文化、宗教、民族、階層。尤其是舊城區，只有約 1 平方公里的面積，卻分為 3 個宗教與 1 個種族聚居區，且各教最重要的宗教聖地均位於此。』請問：此宗教聖地位於下圖中的？  
(A) A (B) B (C) C (D) D。
20. ( ) 『政府將豐富石油資源用於基礎建設，境內水、電、交通及通訊等生活機能良好，吸引大量外籍人口與家屬至阿聯大公國工作定居，外籍人口占阿聯大公國人口約 80%。2017 年，政府積極支持開發半導體產業與高科技產業，設立科技創業中心、高科技工業園區，吸引高科技廠商進駐投資。』請問：此國最大城市杜拜位於左圖中的？(A) A (B) B (C) C

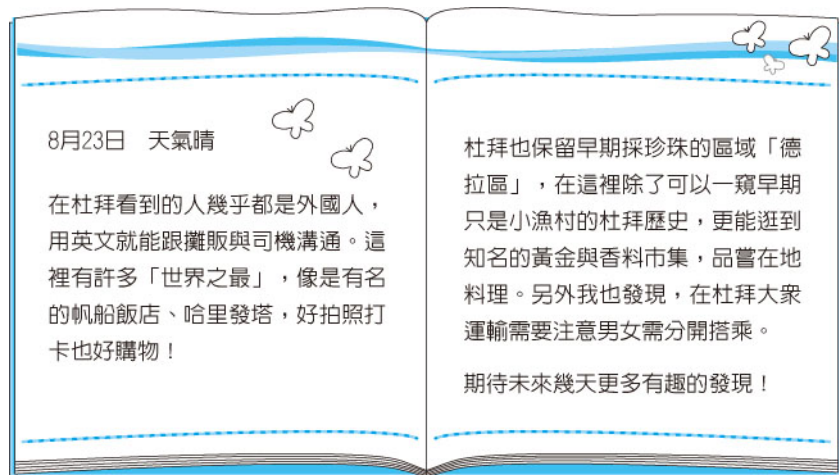
21. ( ) 附圖為西亞與北非地區從 1939 年以來發生大地震的位置與地震規模，下列何者最能對應此圖的內容？



- (A) 伊朗高原地質較古老，板塊活動頻率低少地震  
(B) 阿拉伯高原形成較晚，多崎嶇山地也易有地震  
(C) 板塊交界處易因板塊擠壓發生規模較大的地震  
(D) 2017 年以來的大地震多集中於兩河流域的下游



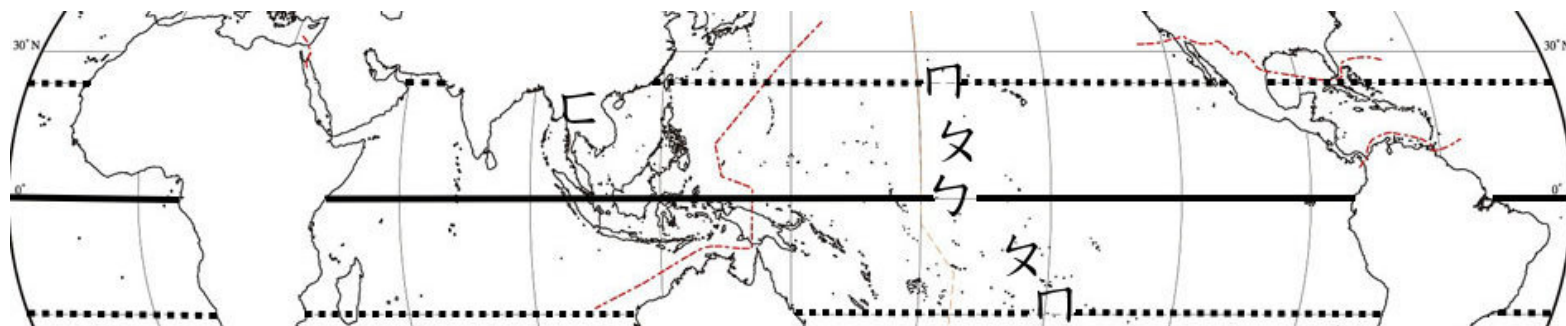
22. ( ) 西亞、中亞的氣候環境類似，但因緯度不同，兩地氣候還是有差，下列敘述何者錯誤？  
 (A)兩地皆屬乾燥的沙漠氣候 (B)兩地的日溫差皆大 (C)西亞比中亞年溫差小 (D)西亞比中亞年溫差大。
23. ( ) 下列何者並非西亞自古以來區域衝突不斷的原因？  
 (A)族群複雜 (B)宗教複雜 (C)領土衝突 (D)石油資源爭奪。
24. ( ) 『此半島地處亞歐非三大洲的戰略要衝，自古以來便為連接世界貿易和人類文明發展的重要通道。』請問：此半島是下列哪一個半島？(A)中南半島 (B)印度半島 (C)朝鮮半島 (D)阿拉伯半島。
25. ( ) 棗椰樹屬於棕櫚科植物，主要分布在熱帶乾燥地區，其果實稱為椰棗，既可作糧食，又是製糖的原料。全球有上億棵棗椰樹，其中前兩大分布區為西亞和甲地區，椰棗也成為這些地區重要的出口農產品。上述甲地區最可能為下列何者？(A)北非 (B)南歐 (C)中美洲 (D)東南亞
26. ( ) 阿英到阿拉伯聯合大公國的杜拜旅遊，寫了一篇旅遊日記，如附圖所示。根據她的日記，下列哪個敘述正確？



- (A)杜拜採閉關鎖國政策，排斥外國人入境  
 (B)現今杜拜的產業以珍珠開採和加工為主  
 (C)杜拜受限於不產石油而積極發展觀光業  
 (D)男女分開搭車與傳統伊斯蘭教規範有關

27. ( ) 石油衍伸物製作的日常生活用品用途廣泛，舉凡汽油、瀝青、合成塑膠、合成纖維等，都是由石油提煉與精煉製作出來的，因此石油又被稱為黑金。哪個組織成立的宗旨是為了維護產油國的利益與控制石油的價格？  
 (A)APEC (B)ASEAN (C)RCEP (D)OPEC。
28. ( ) 西亞國家因石油開採而財富大增，經濟蛻變快速。下列關於西亞國家現今經濟的敘述，何者正確？  
 (A)不產油國無法從石油得到利益。與產油國之間的經濟落差極大。  
 (B)經濟結構由農業逐漸轉向工商業。  
 (C)開採石油及國家建設的需要，引進許多移工，使此區成為人口移入區。自然增加率高。  
 (D)產油國為避免經濟過度依賴石油，努力朝向多元發展。如：汽車、鋼鐵…等。
29. ( ) 下列關於寒帶氣候的敘述，何者錯誤？  
 (A)陽光斜射地表，吸收到太陽的熱量少 (B)氣候冷乾，冬季寒冷而漫長  
 (C)地表大多都被白雪覆蓋 (D)年溫差小、日溫差小。

※附圖為世界熱帶氣候圖，虛線代表回歸線，ㄣ、ㄣ、ㄣ代表熱帶不同緯度的三大氣候。請回答 30-32 題。



30. ( ) 太陽在此區附近接近直射，地表終年高溫，空氣膨脹上升形成低壓區，常有局部性陣雨。  
 此區位於(A)ㄣ (B)ㄣ (C)ㄣ (D)ㄣ。
31. ( ) 承上題，此區終年有雨。降雨形式屬於哪一種？(A)地形雨 (B)鋒面雨 (C)颱風雨 (D)對流雨。
32. ( ) 『熱帶沙漠氣候』分布於(A)ㄣ (B)ㄣ (C)ㄣ (D)ㄣ。
33. ( ) 下面漫畫表示了下列哪一個衝突？

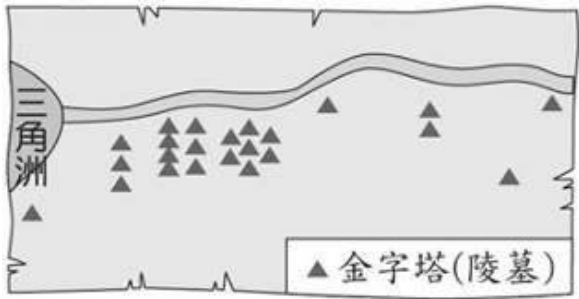


- (A)西撒哈拉主權爭議  
 (B)衣索比亞復興大壩爭議  
 (C)以巴衝突  
 (D)波斯灣戰爭

34. ( ) 西亞石油資源對於臺灣的能源供應相當重要，若要依下圖的海運路線從丹曼港運送石油到臺灣高雄港，最不可能經過哪海域？(A)地中海 (B)印度洋 (C)麻六甲海峽 (D)南海。



35. ( ) 「相傳在古埃及的世界裡，以尼羅河為界線劃分為東、西二個部分，城市多位在尼羅河東岸，而亡者都埋葬在尼羅河西岸，一如日出與日落的方位，象徵生命的開始與結束。」下圖為上文古埃及人對土地利用的示意圖。請問：對於埃及與尼羅河的敘述何者正確？



- (A)此圖左方為北方，河川由南向北流，河川最後流入印度洋
- (B)此河每年為埃及帶來的氾濫，使河道旁災禍不斷、無人居住
- (C)河道上游的高壩興建後，具有防洪、灌溉、發電等用途
- (D)圖中的金字塔陵墓多興建於日出處

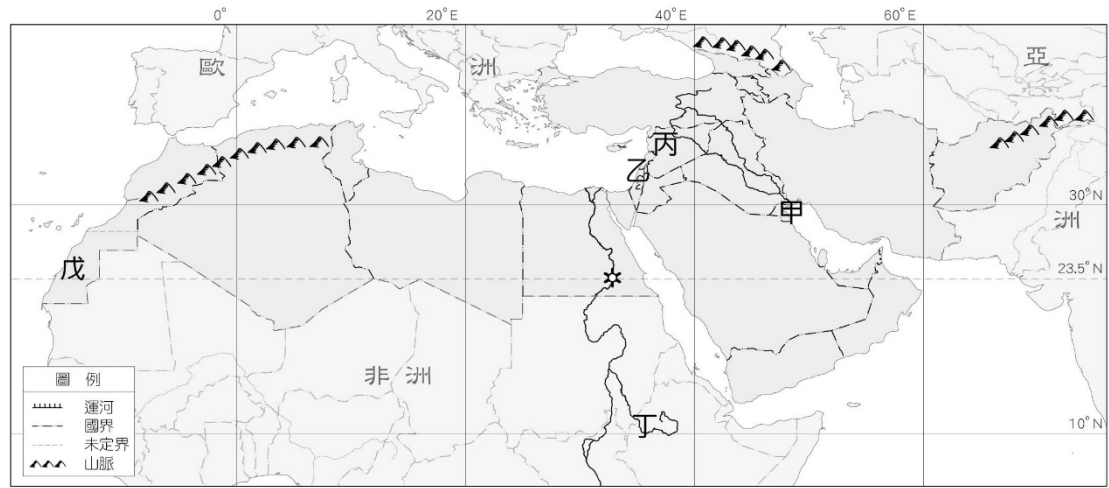
36. ( ) 沙烏地阿拉伯石油資源眾多，與下列何項因素關係最為密切？  
(A)面積廣大 (B)古老陸塊 (C)歐亞非三洲交界 (D)三面環海。

37. ( ) 受到環境影響，西亞地區居民得農牧並重，發展出因地制宜的『山牧季移』方式。關於『山牧季移』的敘述，下列何者錯誤？  
(A)夏天在山上草場放牧 (B)秋天驅趕牲畜下山 (C)在山谷低海拔處過冬 (D)分布在阿拉伯高原居多。

38. ( ) 俊與蒐集了西亞與北非地區衝突的資料，請問下列資料何者正確？

(A)	以巴衝突	領土為以色列與巴基斯坦衝突原因之一
(B)	波灣戰爭	「波斯灣戰爭」為伊朗因石油利益攻打科威特
(C)	敘利亞內戰	信仰伊斯蘭教的教派爭執，演變成內戰
(D)	衣索比亞復興大壩爭議	埃及在河流上游建立水壩發電，下游的衣索比亞、蘇丹擔憂水壩影響國內用水，堅決反對水壩的興建

39. ( ) 附圖為動盪的西亞與北非衝突分布圖。觀察下表圖中代號與爭議的對應，有幾項是正確的？  
(A)0 項 (B)1 項 (C)2 項 (D)3 項。



甲	西撒哈拉主權爭議
乙	以巴衝突
丙	衣索比亞復興大壩爭議
丁	敘利亞內戰
戊	波灣戰爭

40. ( ) 下列哪一個宗教的發源地不在西亞？(A)伊斯蘭教 (B)佛教 (C)基督教 (D)猶太教。