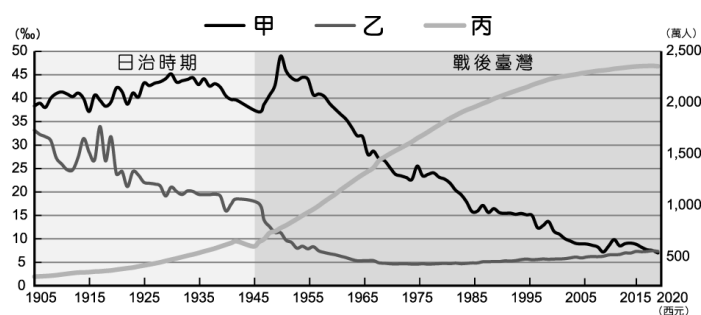
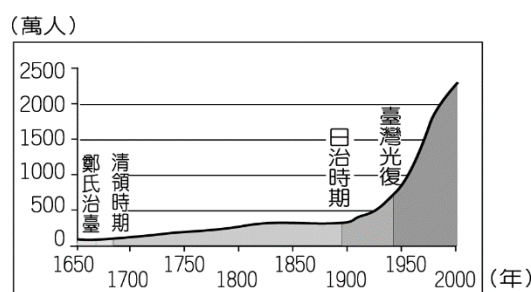


屏東縣立中正國民中學 111 學年度第二學期第一次段考七年級地理科試題

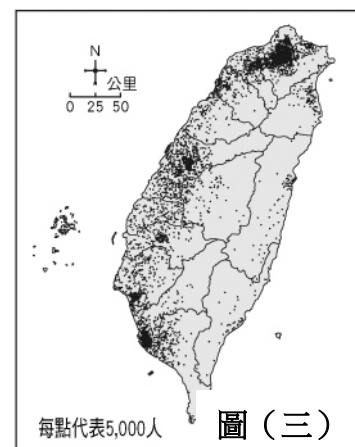
一、單一選擇題（每題 3 分，共 60 分）



圖(一)



圖(二)



圖(三)

■圖(一)為臺灣出生率、死亡率、總人口數統計圖，請依此圖回答 1-2 題：【習作題】

- () 1. 觀察圖中的折線變化，甲、乙、丙三線段分別代表什麼數值？(A) 甲是出生率 (B) 乙是人口總數 (C) 丙是死亡率。
- () 2. 1945 年之後，臺灣的死亡率大幅降低，和下列哪個原因無關？(A) 醫療技術進步 (B) 環境衛生改善 (C) 新生兒大為增加 (D) 穩定飲食供應。
- () 3. 鈴芽國 2022 年人口變動比率：出生率 9%，死亡率 4%，移入率 2%，移出率 9%，請問該國在 2022 年人口數會 (A) 增加 (B) 減少 (C) 不變 (D) 無法推論。
- () 4. 圖(二)是 1650 年來臺灣人口數變化圖，關於圖中呈現訊息推論，人口成長最快的階段是 (A) 鄭氏治臺 (B) 清領時期 (C) 日治時期 (D) 臺灣光復。

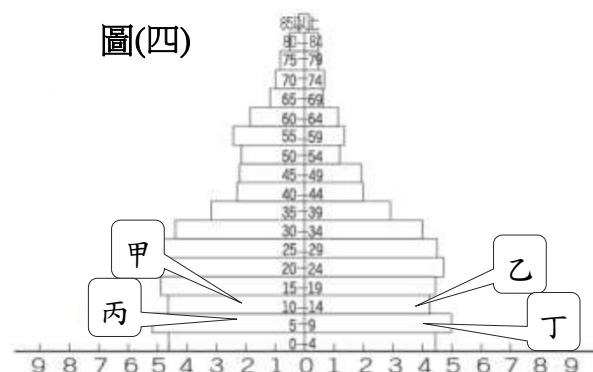
■圖(三)為臺灣人口分布點圖，請依照圖中訊息回答 5-7 題：

- () 5. 北部地區明顯人口較密集，主要受何種因素影響？(A) 清代中國移民最早登陸地點 (B) 物產豐饒農業發達 (C) 工商就業機會多 (D) 盆地與丘陵地形廣布。
- () 6. 臺灣西部人口數多於東部，此現象的形成和下列哪一項因素關係最小？(A) 氣候 (B) 地形 (C) 開發早晚 (D) 經濟活動。
- () 7. 根據此種地圖型態，哪張圖也可用相同方式呈現？(A) 臺灣地形分布圖 (B) 臺灣咖啡種植分布圖 (C) 臺灣河流分布圖 (D) 臺灣鄉鎮分布圖。
- () 8. 西元 2006 年起，臺灣開放工作者申請育嬰假；西元 2009 年立法院通過「育嬰留職停薪津貼」，讓請假在家育嬰的父親或母親，可領 6 個月的補助。請問：下列何者是實施該福利措施的主要目的之一？(A) 提高扶養比 (B) 改善性別比例 (C) 加強國籍認同 (D) 提高生育率。

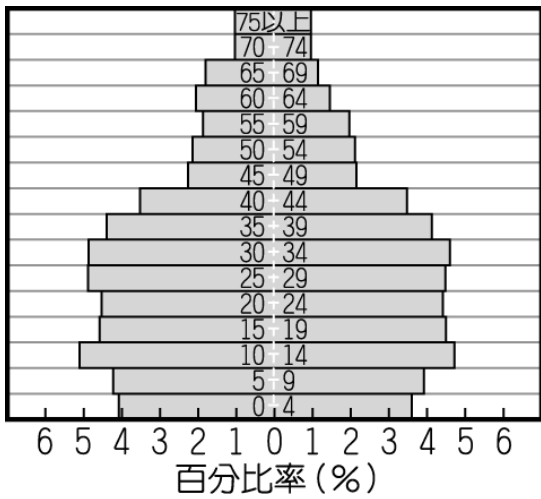
■動漫社區占地約 5 平方公里，住了三戶人家，各家成員及年齡如表(一)所示，請依資料回答 9-12 題：

野山家		櫻桃家		野原家	
爸爸♂	45	爺爺♂	76	廣志♂	35
媽媽♀	43	奶奶♀	74	美芽♀	29
小紅豆♀	10	爸爸♂	40	小新♂	5
弟弟♂	14	媽媽♀	40	小葵♀	2
爺爺♂	64	姐姐♀	12		
		小丸子♀	9		

表(一)



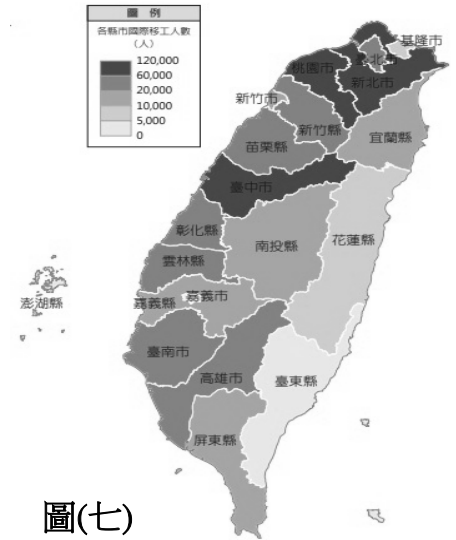
- () 9. 該社區的人口密度約多少？(A) 1.5 人/平方公里 (B) 3 人/平方公里 (C) 5 人/平方公里 (D) 15 人/平方公里。
- () 10. 哪一家的壯年人口負擔最輕？(A) 野山家 (B) 櫻桃家 (C) 野原家 (D) 都一樣。
- () 11. 該社區的性別比為 (A) 87 (B) 95 (C) 102 (D) 110。
- () 12. 就讀三年級的小丸子應在在圖(四)人口金字塔圖中的哪個位置？(A) 甲 (B) 乙 (C) 丙 (D) 丁。



圖(五)



圖(六)



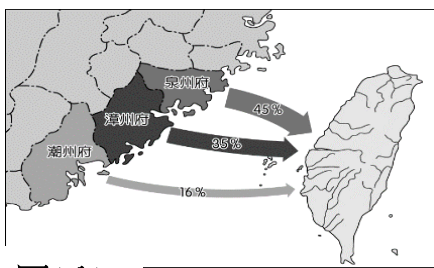
圖(七)

■圖(五)為人口金字塔圖，請依圖回答13-14題：

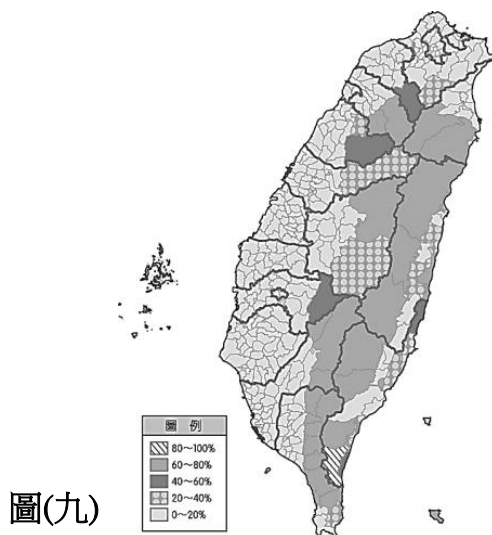
- () 13. 關於此種類型的圖，何種描述方式是正確的？(A) 性別：女左男右 (B) 年齡：4歲為一個單位 (C) 人口總數不斷增加 (D) 可以看到一地人口結構。
- () 14. 哪個數值無法在圖中資料取得？(A) 性別比 (B) 撫養比 (C) 人口密度 (D) 高齡化程度。
- () 15. 圖(六)為臺灣目前的政策宣傳海報，此張海報反應目前已列為國家安全的現象，若不改善，未來將會發生什麼問題？(A) 教育資源減少 (B) 人力資源短缺 (C) 扶養負擔減輕 (D) 平均壽命延長。

■自民國81年通過就業服務法後，國際移工來臺就業有法律依據，逐步開放眾多產業引進國際移工。大量的國際移工因為思鄉，也引進家鄉文化，使得臺灣街頭出現不少「異國街」，映入眼簾的招牌是陌生的文字，路上的人們說著陌生的語言，彷彿有身在國外的錯覺。街道內有餐廳、小吃甜品店、通訊行、服飾店、日用品店等，應有盡有，賣的不只是物品，更是與家鄉的牽絆…。請依敘述回答16-18題：【習作題】

- () 16. 以下那個為臺灣國際移工的主要來源國？(A) 中國 (B) 菲律賓 (C) 新加坡 (D) 印度。
- () 17. 關於此篇文字中提到的特殊文化景觀，有幾項是正確的？(甲) 街道上出現有東南亞文字的招牌 (乙) 假日有許多國際移工在東協廣場聚集 (丙) 聖多福天主堂是印尼籍移工的信仰中心 (丁) 戴著頭巾的女性通常是印尼籍的 (A) 1項 (B) 2項 (C) 3項 (D) 4項。
- () 18. 圖(七)為臺灣各縣市國際移工人數圖，哪個縣市的國際移工多於60,000人？(A) 基隆市 (B) 花蓮縣 (C) 雲林縣 (D) 桃園市。



圖(八)



圖(九)

	甲	乙	丙	丁
出生率	14	16	25	28
死亡率	12	7	21	25
人口增加率	3	7	8	5

表(二)

單位：‰

- () 19. 多元文化來自於不同族群的生活特色，圖(八)為臺灣某時期的人口移動示意圖，由圖判斷，會帶來哪些族群的文化特色？(A) 平埔族群、高山族 (B) 原住民族、平埔族群 (C) 新住民、日本人 (D) 閩南人、客家人。
- () 20. 圖(九)為臺灣各鄉鎮原住民比例圖。請問：臺灣原住民主要分布在什麼地形？(A) 山地 (B) 丘陵 (C) 盆地 (D) 平原。

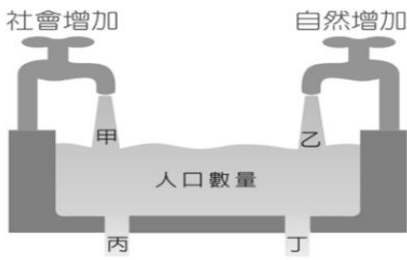
二、單一選擇題 (每題2分，共40分)

- () 21. 表(二)為四個假想國家人口資料，請問：下列敘述何者正確？(A) 甲國社會增加率最高 (B) 乙國死亡人數最多 (C) 丙國出生人數最多 (D) 丁國人口逐漸增加。

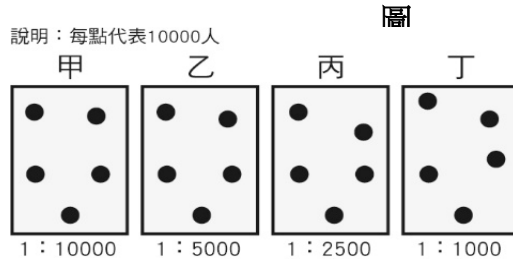
(單位：人/km²)

新北市	1,955	雲林縣	528
臺北市	9,739	嘉義縣	264
桃園市	1,837	屏東縣	295
臺中市	1,270	臺東縣	62
臺南市	858	花蓮縣	71
高雄市	939	澎湖縣	829
宜蘭縣	212	基隆市	2,780
新竹縣	394	新竹市	4,301
苗栗縣	300	嘉義市	4,462
彰化縣	1,185	金門縣	923
南投縣	120	連江縣	453
總平均			652

表(三)

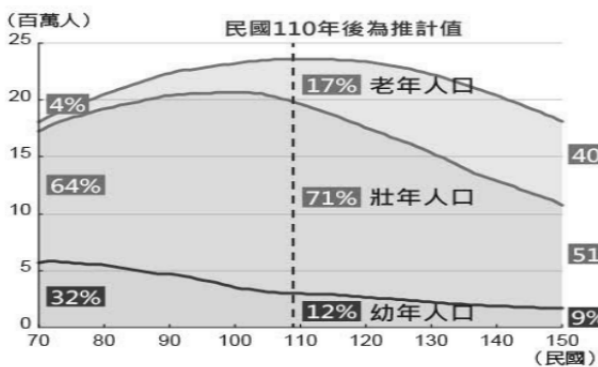


圖(十)

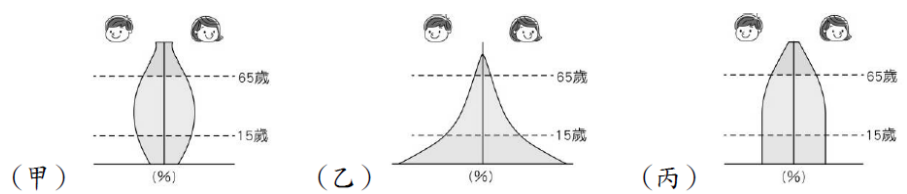


圖(十一)

- 圖(十)是影響一地人口數量變動的示意圖，甲~丁是影響人口成長的因素，依據此圖回答第22-24題：
- () 22. 2019年底，中國爆發不明原因肺炎，隨後在2020年擴散至全球多國。為數不少的新冠肺炎患者的症狀輕，即使病毒量高也無症狀，但是新冠病毒的「高傳染力」常考驗該地的醫療體系。請問：若某地區的醫療資源因大量耗損而無法治療新冠肺炎病患，將直接影響圖中的哪個因素？(A)甲(B)乙(C)丙(D)丁。
- () 23. 「近半世紀來，臺灣許多偏僻的鄉鎮，其人口數一直持續減少，這是因為人口大量移出所造成的結果。」根據上述，這些人口減少的鄉鎮，其人口成長的在圖中會呈現何種表現？(A)甲<丙(B)甲>丙(C)甲>乙(D)甲=丁。
- () 24. 臺灣各地人口增減變化可能受社會因素的影響。下列相關敘述中，何者正確？(A)失業率高⇒甲增加(B)十二生肖龍年⇒乙增加(C)醫療水準提升⇒丙減少(D)經濟水準提高⇒丁增加。
- () 25. 圖(十一)是四個假想鄉鎮的人數與土地面積關係圖。喜歡清靜生活環境的小閔若想搬家，哪個地區會比較適合？(A)甲(B)乙(C)丙(D)丁。
- () 26. 表(三)為臺灣各縣市人口密度資料。根據資訊判斷，下列敘述何者正確？(A)高齡化嚴重(B)資源分布較平均(C)南部扶養比較高(D)地形影響人口分布。
- () 27. 清朝初期曾對臺發布渡臺禁令，此項政策對臺灣那項人口特色影響最大？(A)人口分布改變(B)社會增加率降低(C)自然增加率提高(D)扶養比增加。
- () 28. 愛聽歌的小源，發現在兩首歌曲中都有提到「臺北」。李英宏的〈臺北直直撞〉：「...臺北市的馬路總是坑坑洞洞...22K的數字買不起任何一棟...」。林強的〈向前行〉：「阮欲來去臺北打拼，聽人講啥咪好康的擺在那」。根據兩首歌曲對「臺北」影響人口遷移的因素判斷，何者正確？(A)都是拉力(B)都是推力(C)〈臺北直直撞〉—推力；〈向前行〉—拉力(D)〈臺北直直撞〉—拉力；〈向前行〉—推力。
- () 29. 根據內政部統計，臺灣每八名新生兒就有一名是外籍配偶的子女。請問：這名新生兒對臺灣人口成長的影響與下列何者性質相同？(A)善才到法國娶了巴黎名模回臺定居(B)名律師承元生下可愛雙胞胎(C)來臺灣擔任看護的外籍移工亞迪(D)到美國留學深造的高材生海伊。

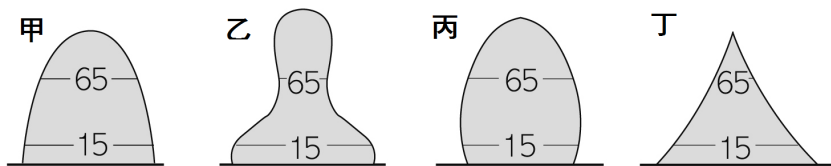


圖(十二)




圖(十三)

- () 30. 圖(十二)為臺灣人口結構趨勢推估圖，請問：臺灣從民國70年至150年，扶養比變化應為如何？(A)逐漸上升(B)逐漸下降(C)先上升後下降(D)先下降後上升。
- () 31. 圖(十三)為三個不同階段的人口金字塔圖，若依該地經濟程度由差到佳發展，其變化依序為何？(A)甲→乙→丙(B)乙→甲→丙(C)乙→丙→甲(D)丙→乙→甲。
- () 32. 「根據主計處統計，2020年臺灣人口數約2357萬人，全國性別比為98，新生兒性別比多在107上下，且第三胎性別比高達110，嬰兒性別失衡情況相當嚴重」，依據上文，下列敘述何者正確？(A)全國的男性人數多於女性人數(B)全國男性人口數為98萬人(C)新生兒比例約為100男生對應到107個女生(D)新生兒性別比失衡與傳統重男輕女觀念有關。

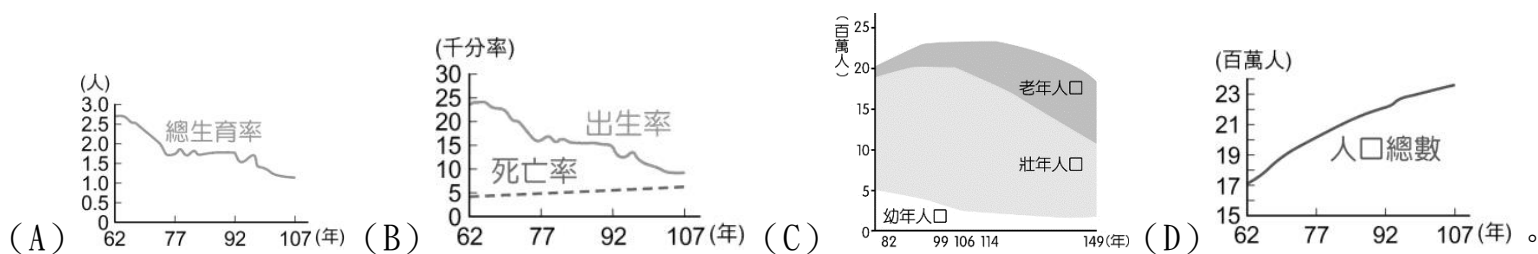


圖(十四)



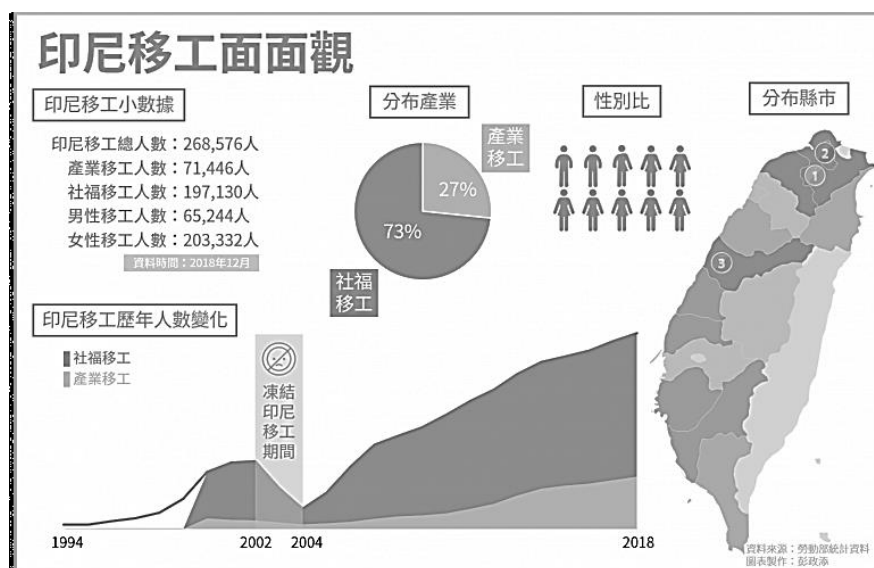
圖(十五)

- () 33. 「鄉村的年輕人大多前往生活機能較好的都市謀生，年輕人大量外移，造成鄉村人口老化。」上述地區的人口金字塔較接近圖(十四)的哪種類型？(A) 甲 (B) 乙 (C) 丙 (D) 丁。
- () 34. 圖(十五)為臺灣過去到現在，以及推算未來的某種人口議題插圖。請問：關於對此插圖的敘述何者正確？(A) 因應扶養負擔持續加重，應規劃長青教育和長期照護等社會福利 (B) 從事工業人口減少，以致國家經濟衰退 (C) 受傳統觀念影響，人口結構失衡，應多強調「男孩、女孩一樣好」(D) 受就業機會多和交通較便利等拉力影響，鄉村青壯人口流失。
- () 35. 某報導：「養生村成為近年來一股居住趨勢，長庚養生文化村主任表示，長照養護體系非常龐大複雜，依居住者的健康狀況如：健康、亞健康、失能、失智等，對應到不同程度的養護機構。某大型建商正考慮在新北市 金山區規畫興建退休宅……。」上述出現的養生村是為了因應何種人口資料的變化趨勢？



- () 36. 土地神屬於民間信仰中的地方保護神，在中國傳統文化中，祭祀土地神即祭祀大地，現代多屬於祈福、求財、保平安、保農業收成之意。不同族群對於土地神的稱呼方式也有不同，其中關於「伯公」信仰的敘述何者正確？(A) 通常伴隨板條、擂茶等飲食特色 (B) 臺北市是該信仰廟宇最多的地區 (C) 是原住民族的傳統宗教 (D) 女信徒都會戴頭巾穿著長褲或長袍。
- () 37. 屏東市的勝利星村是過去眷村改建，獨特的建築形態，經過規劃與整理，已經成為著名觀光景點，假日遊客如織。請問該景點與那個族群關係最密切？(A) 閩南人 (B) 客家人 (C) 戰後移民 (D) 新住民。

■臺灣自1989年開始正式引進外籍移工至今，30年來改善了3D(低薪、骯髒、危險)產業和憂鬱症高危險群的看護工的缺工狀況，也改變了臺灣社會的族群面貌。根據勞動部統計，臺灣移工人數在2018年底已經突破70萬人，而這個數字也不斷地在成長中。圖(十六)為獨立媒體《移人》針對臺灣 印尼籍移工所做的圖表統計，請依敘述回答第38至40題：



圖(十六)

- () 38. 印尼籍移工的遷移型態應屬於何者？(A) 永久性、國內遷移 (B) 暫時性、國內遷移 (C) 永久性、國際遷移 (D) 暫時性、國際遷移。
- () 39. 臺灣的移工可依產業類別分為產業移工與社福移工，印尼是臺灣社福移工最大的來源國，約占臺灣社福移工市場77%，根據圖中資料顯示，下列何者錯誤？(A) 臺中市擁有第三多的印尼移工 (B) 印尼移工的性別比大於100 (C) 印尼移工逐年增加，可能與臺灣老年人口增加有關 (D) 從事看護工作的印尼移工多為女性。
- () 40. 因文化背景的差异，來臺的印尼籍移工使得臺灣地景產生變化。以下敘述何者正確？(A) 若移工與臺灣人結婚，將成為原住民 (B) 印尼移工來臺，可能是因臺灣具有環境品質佳這項推力 (C) 印尼移工多信仰伊斯蘭教，女性常以頭巾包覆頭部 (D) 印尼移工帶來麵食文化，使得臺灣人的飲食習慣受到改變。