

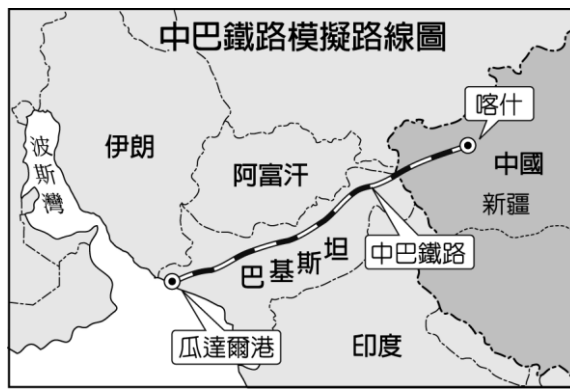
# 屏東縣立中正國民中學 111 學年度第二學期第一次段考八年級地理科試題

一、 單選題(第 1-30 題，每題 3 分；第 31-35 題，每題 2 分) 八年 \_\_\_\_\_ 班 \_\_\_\_\_ 號姓名 \_\_\_\_\_

- ( ) 2020 年某作物的世界前三大出口國為泰國、印尼和馬來西亞。根據這些國家的自然環境特徵判斷，該作物最可能為下列何者？(A)橡膠 (B)棉花 (C)橄欖 (D)小麥。
- ( ) (甲)日本群島 (乙)中南半島 (丙)東印度群島 (丁)印度半島，請位上述哪兩區同為季風氣候區，且冬夏風向相同？ (A)甲丙 (B)乙丁 (C)丙丁 (D)甲乙。
- ( ) 阿萍利用寒假與朋友到馬來西亞旅遊，參觀完馬來西亞首都吉隆坡的雙峰塔後，(甲)下午竟然下起傾盆大雨，在短暫的大雨之後天氣也變得涼爽。晚餐前往餐廳用餐，(乙)看到菜單上有明顯的圖案(右圖)，因此餐廳裡根本沒有牛肉料理。(丙)但是餐桌上的錫製餐具著是讓人印象深刻，據說錫礦的開採跟過去的殖民歷史有關。(丁)而隔天要前往赤道附近才有的雨林環境探險才是阿萍最期待的行程，那裏還能看紅毛猩猩呢。請問上述的旅遊行程敘述何者有誤？(A)甲 (B)乙 (C)丙 (D)丁
- ( ) 東南亞的豐盛美食已成為當地吸引觀光客的因素，如有「微笑國度」稱號的泰國，其泰式料理便融合各地美食特色，深受國人喜愛。附圖為某知名泰式料理餐廳招牌菜的主要食材介紹，由食材可知該料理受到哪一國的飲食文化影響較大？(A)日本 (B)中國 (C)南韓 (D)印度



- ( ) 泰國、越南為世界重要稻米出口國，泰國香米及越南河粉、米線皆為居民主食。請問兩國盛產稻米的原因與下列哪些條件有關？(甲)佛教文化影響 (乙)高溫多雨的氣候 (丙)河口三角洲平坦肥沃 (丁)被殖民的歷史 (A)甲乙 (B)甲丙 (C)乙丙 (D)乙丁
- ( ) 根據《Time》報導，2021 年風險公司 Verisk Maplecroft 日前發布的報告中指出，在全球面臨最大環境風險的前 100 個城市中，就有 99 個位在亞洲。這項研究是研究團隊針對全球 576 個人口達一定規模的大城市，分析城市所面臨的空氣、水質、熱應力、缺水問題、氣候變化的脆弱性，以及它們的景觀、人口、經濟和基礎建設在面臨地震、海嘯和山崩等自然災害的危險程度進行了評分，其中擁有 1000 萬人口的印尼首都雅加達更是全球受環境威脅最高的城市，甚至該國政府已有計畫安排遷都。請問，下列何者並不屬於雅加達的環境風險？(A)全球暖化引發海平面上升將淹沒這個沿海城市 (B) 因人口需求大量超抽地下水造成快速的地層下陷 (C)位處板塊邊緣多地震海嘯的風險 (D) 每年春夏之交梅雨來襲引發的暴雨危機
- ( ) 佛教文化的發源地起自於亞洲大陸，請問(甲)東印度群島 (乙)中南半島 (丙)印度河流域 (丁)錫蘭島。上述那些地區以佛教為主要信仰？(A)甲乙 (B)乙丙 (C)乙丁 (D)甲丁
- ( ) 『2021 年 4 月時，馬爾地夫利用疫苗吸引國際旅客到訪，喊出「3V」口號，「觀光 (Visit)」、「度假 (Vacation)」、「打疫苗 (Vaccinate)」，提供寶貴的新冠疫苗給來訪遊客，並鼓勵他們在當地待上好幾週，完成兩劑接種。』請問下列何者最有可能是旅客在馬爾地夫的旅遊體驗？(A)在印度洋和熱帶魚群遨遊珊瑚間 (B)漫步吳哥窟欣賞印度教遺跡 (C)探索藍色火焰的活火山及絕美瀑布 (D)到被美麗雪峰環繞的地方山區健行。
- ( ) 2016 年為印度半島百年來溫度最高的一年，印度熱浪更在首都新德里創下攝氏 45 度高溫，造成千餘人死亡，部分地區甚至高達攝氏 50 度，馬路上的斑馬線因而「融化」，請問此種天氣狀態最可能發生在哪一個月份？(A)2 月 (B)5 月 (C)7 月 (D)11 月。
- ( ) 「瓦度生長的地方有許多伊斯蘭教徒，他的父母以租田地種植水稻維生，但因為常鬧水災，農作收成很不穩定，家中十幾個兄弟姊妹常常三餐不繼。為了生活，瓦度和幾個較大的弟妹，八歲不到就和同村其他小孩到都市的紡織廠打工，貼補家用。」請問：瓦度最可能出生於下列哪一個國家？(A)孟加拉 (B)越南 (C)汶萊 (D)尼泊爾。
- ( ) 「廢除種姓制度早已超過五十年，照常理來說不該有的區隔卻時時刻刻發生在社會上，根深蒂固的觀念使得一些低種姓仍受到不平等待遇，如某些居住在鄉村的低種姓尋找工作時無故受到壓榨或解僱，他們理應為自己權益發聲，但在資源較少、知識淺薄及司法的腐敗，鮮少人選擇反抗，也因為這難以生存的先天條件，低層人民只求溫飽，從不敢奢望夢想。」請問上文是下列哪一個國家的寫照？(A)印尼 (B)印度 (C)泰國 (D)巴基斯坦
- ( ) 近年來中國計畫在西部邊疆打通一條新的絲綢之路(如附圖)，興建中國和巴基斯坦之間的跨國鐵路網。中國希望藉由這個計畫讓巴基斯坦成為中國進口重要資源的轉運站。請問如完工後，下列何者並非路線沿途可見的景象？(A)乾燥枯黃的大地 (B)雪域風光的喀什米爾 (C)莊嚴肅穆的清真寺 (D)有土壤鹽鹼化問題的水稻田



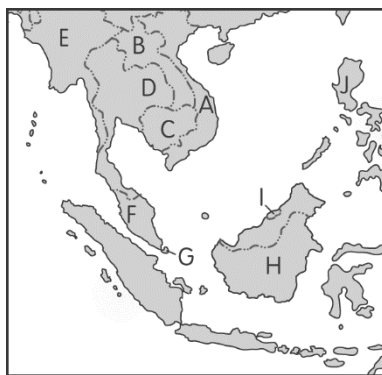
◆近年來汽車市場上的消費版圖出現劇烈變化，在中國躍升為全球最大汽車市場後，各汽車公司正期待印度將會是下一個金礦。為此臺灣經濟部帶領國內汽車業者前往印度了解當地汽車產業投資環境，除了參觀 TAtA 等印度本土車廠外，亦到印度高科技產業重心，了解車內電子設備的整合狀況。請問：

13. ( ) 中國及印度的汽車市場潛力大，被稱為中國龍、印度虎，其主要因素為何？ (A)人口數量多 (B)平均所得高 (C)石油價格低 (D)進口零關稅
14. ( ) 近年來臺灣車商從印度進口暢銷的小車來臺，挾著低價優勢，成功搶入臺灣市場。印度地區本地汽車工廠因礦產原料充足，成為生產的有利條件。請問下列哪一個地區因地質古老為主要的礦產產地？ (A)喜馬拉雅山區 (B)印度大平原 (C)德干高原 (D)錫蘭島。
15. ( ) 若利用海運由印度進口汽車到臺灣高雄港，需經過的海域不包括下列何者？ (A)太平洋 (B)麻六甲海峽 (C)印度洋 (D)南海。
16. ( ) 經濟部帶領國內汽車業者前往印度高科技產業重心參觀，該城市應位於附圖中哪一地區？(A)甲 (B)乙 (C)丙 (D)丁。



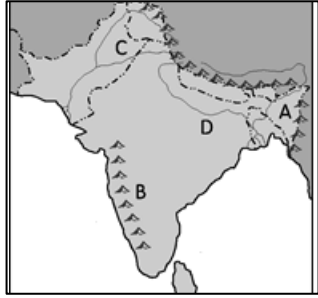
17. ( ) 承上題，請問印度發展軟體工業的有利條件主要為哪些？(甲)使用英語(乙)工資低廉(丙)社會平等(丁)海運便利 (A)甲乙 (B)丙丁 (C)甲丁 (D)乙丙。

◆附圖為東南亞簡圖，A~J 代表國家。請回答下列問題：



18. ( ) 該國可以說是呈現東西交融的成果，因其地緣關係受中國文化影響最深，而在近代西方殖民的過程中，則讓當地有了法國風情的特色。請問上述應為下列何者？ (A)A (B)B (C)D (D)E。
19. ( ) 每個國家都有貧富懸殊的問題，但像某國落差這麼大、現象這麼普遍的，卻是十分罕見。此現象的成因，植根於早期的殖民政策。西班牙占領該國後，為了控制當地土著居民，穩定反抗的形勢，採取的統治政策有關。同時為了協助天主教教會進行傳教工作，大量土地、財富被賜予精英階級，而普通百姓卻成為奴役的對象，在這種情況下，財富差距逐步拉開。請問上文所述為哪一個國家？(A)C (B)E (C)G (D)J
20. ( ) 由 17,506 個島嶼組成，是世界上最大的群島國家，疆域橫跨亞洲及大洋洲，別稱「萬島之國」。總人口超過 2.7 億，為世界上人口第四多的國家，也是人口數量最多的穆斯林國家，首都雅加達的伊斯蒂克拉爾清真寺是東南亞最大的清真寺。請問上述應指下列何者？ (A)F (B)G (C)H (D)J。

◆附圖為南亞簡圖，請依圖回答下列問題：



21. ( )圖中 A 區的年降水量居全球之冠，主要的影響因素為何？ (A)地形、季風 (B)緯度、地形 (C)緯度、季風 (D)距海遠近、地形。
22. ( )圖中 B 區的氣候較為乾燥，主要的影響因素為何？ (A)深居內陸 (B)高壓籠罩 (C)背西南季風 (D)寒流流經。

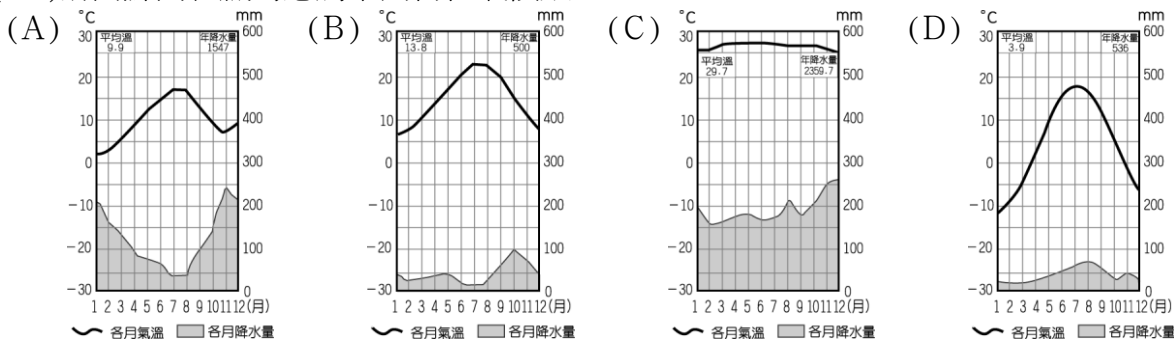
◆附圖為南亞農產分布圖，請根據附圖回答下列問題



23. ( )印度半島阿薩姆邦的茶葉遠近馳名，已成為當地最主要的特產。請問：根據印度半島的地形及自然環境特色而言，附圖中哪一個地區為茶葉的主要盛產地區？(A)甲 (B)乙 (C)丙 (D)丁。
24. ( )全球黃麻袋市場價值在 2020 年達到 20.7 億美元，預計到 2024 年將達到 31 億美元，因消費者正在尋找即棄塑膠的替代品。Dior 等名牌相繼製作黃麻涼鞋、布袋，而英國薩塞克斯公爵夫人梅根不僅穿著黃麻鞋履，婚禮亦用上粗麻布袋包裝賓客的禮物，這些都令黃麻更受歡迎。印度應該抓住機會投資該行業，生產各種以黃麻製成的產品，如地毯、燈具、鞋子和購物袋。另外，在消費者開始關注塑膠袋的禍害，及更多國家立法禁止即棄塑膠時，環保人士正發掘黃麻巨大的經濟兼綠色潛力。請問該作物主要生產區域為附圖中何處？(A)乙 (B)丙 (C)丁 (D)戊
25. ( )印度是僅是於中國的世界第二大棉花生產國，棉花是該國最重要的農作物之一。數千年來，印度一直在生產紡織用棉花，如今，約有 5.8 萬農民以種植棉花維生，數以千萬計的人在棉花行業工作，是印度的重要產業。請問圖中何處為印度主要的棉花產區？(A)甲 (B)乙 (C)丙 (D)丁。

◆對很多人來說，「蘇門答臘」四個字唯一的具體連結，大概就是極具盛名的「曼特寧咖啡」，除此之外，「蘇門答臘」只是一個空洞又遙遠的地理名詞。從上空俯瞰，三千呎以下的這個熱帶雨林島嶼地景，是一片沒有盡頭的熱帶 種植園。數百年前，荷蘭人與英國人在這座島上實行殖民經濟，一片片的油棕園、橡膠園、柚木園、可可園，當然，一定還有咖啡園，取代了原來的熱帶雨林。殖民帝國的富庶強大，其代價是人類共同的自然資產—熱帶雨林的消失，一代代當地人民的勞動剝削與悲慘奴役。節錄自《趙樣手沖咖啡 FB》

26. ( )請問蘇門答臘島應屬下列何種氣候類型？



27. ( )根據研究顯示，全球連鎖咖啡店星巴克每賣出一公斤的咖啡豆，其收入約為新台幣 6700 元，然而咖啡農夫每公斤的收購價格卻只有約新台幣 18 元。請問造成咖啡農夫的利潤難以增加的主要原因為何？ (A)咖啡產量太少 (B)全球的咖啡市場太小 (C)國際價格掌握在已開發國家 (D)種植咖啡的技術掌握在已開發國家
28. ( )下列哪項並非熱帶栽培業的特色？ (A)大規模種植單一作物 (B)機械化程度高 (C)以經濟作物為主 (D)原料大多出口外銷


◆瓦拉納西是印度著名的歷史古城，享有「印度之光」的稱號。信奉甲宗教的教徒們認為在瓦拉納西死去，並在印度人視為「母親之河」的乙河河畔火化，能夠超脫生死輪迴的循環，獲得救贖。此外，他們也相信在這條河川沐浴後，即可洗滌污濁的靈魂。

然而，由於絡繹不絕的信徒在該河川火化與沐浴，加上其他社會變遷，使河川遭受嚴重的汙染，並威脅居民健康，成為印度當局棘手的公共衛生難題。(參考資料，改寫自羅米塔·薩魯亞，死亡之前的最後住所：印度聖城瓦拉納西，BBC 英倫網)

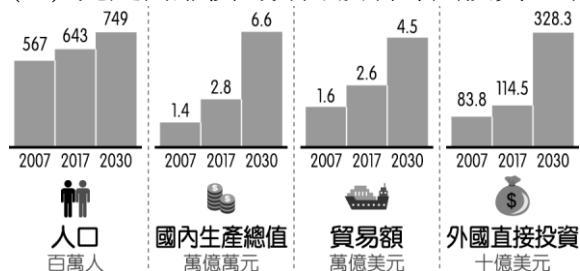
29. ( ) 根據文中的描述，甲宗教應為何種宗教？(A)佛教 (B)印度教 (C)伊斯蘭教 (D)基督宗教
30. ( ) 「在印度人視為『母親之河』的乙河河畔火化，能夠超脫生死輪迴的循環，獲得救贖。」請問：乙河的名稱應為何 (A)紅河 (B)恆河 (C)印度河 (D)湄公河

◆ 2011 年 11 月第 19 屆東南亞國協(以下簡稱東協)高峰會通過「東協區域全面經濟夥伴關係架構」，推動「區域全面經濟夥伴協定」(RCEP)，旨在深化以東協為核心之區域經濟整合，目標為建立一個現代化、廣泛、高品質的區域自由貿易協定。目前 RCEP 成員國包含東協 10 國，以及中國、日本、韓國、澳洲及紐西蘭共 15 國，為全球涵蓋人口最多與經濟規模最大的多邊貿易協定。

31. ( ) 下列何者是東南亞國協的標誌？



32. ( ) 附圖是東協近年來的人口變化及經濟發展相關數據。請問以下推論何者正確？(A)人口規模超越南亞，成為亞洲人口最多的地區 (B)工業迅速發展，使貿易額持續呈現出超 (C)高科技電子產業技術進步使國內生產總值快速攀升 (D)充足而廉價的勞力吸引外國投資金額日增。



33. ( ) 下列哪一項不是 RCEP 整合後可能發生的現象？(A)整合範圍擴及亞洲及大洋洲 (B)泰國農產出口到中國享有零關稅優惠 (C)台灣取代南韓成為越南主要投資國 (D)提高東南亞國家在全球的影響力
34. ( ) 台灣在面對「東協與周邊南韓、日本等國形成 RCEP 的自由貿易區協定，而台灣卻沒有加入該組織，因此產品從台灣出口會因為關稅而提高成本，不利於在地競爭」的問題應提出因應之道，請問(甲)提升產品售價轉嫁關稅成本 (乙)廠商外移到當地設廠 (丙)提升產品技術強化競爭力 (丁)與個別國家簽署貿易協定 (戊)限制出口東協以降低貿易依賴程度，請問上述做法有幾項是正確的？(A)5 項 (B)4 項 (C)3 項 (D)2 項。
35. ( ) 「新南向政策」是 2000 年政府施行對印太地區的外交及經濟計劃，推動台商往東南亞地區投資，試圖以經濟、文化實力提高對東南亞地區的影響力。若以台灣的產業特性判斷，下列何者並非台灣的主要投資品項？(A)電子商務 (B)醫療服務 (C)軟體開發 (D)農礦原料供應。