

屏東縣立中正國民中學 111 學年度第二學期第 1 次段考九年級地理科試題

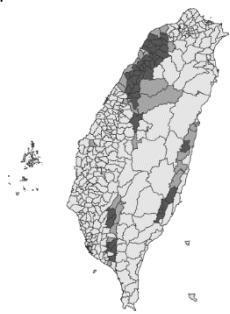
九年\_\_\_\_班 座號\_\_\_\_ 姓名\_\_\_\_\_

配分：第 1~20 題，每題 3 分；第 21~40 題，每題 2 分，共 100 分

- 1.( ) 2020 年國慶煙火燃放地點在漁光島，該地舊稱三鯤鯓，鯤鯓指圍繞潟湖、內海仔外的沙洲。請問這個舊稱三鯤鯓以當地的地形命名。下列何者與此地名同樣反映地形？ (A)麥寮 (B)石門 (C)麻豆 (D)淡水。
- 2.( ) 下列哪一個臺灣的地名因被簡化或雅化，可觀察不同政權的政治作為？ (A)暖暖 (B)松山 (C)吉安 (D)觀音。
- 3.( ) 下列哪一個臺灣的地名，閩南語發音為焦溪，意指當地水流稀少，是著名溫泉之鄉？ (A)暖暖 (B)瑞穗 (C)中壢 (D)礁溪。
- 4.( ) 17 世紀，荷蘭人來到臺灣探險，最早占據臺灣何處，作為東亞貿易的據點？ (A)北部 (B)中部 (C)南部 (D)東部。
- 5.( ) 小陳到故宮博物院參觀歷史文書，看到「東番、小琉球、大員」等地名，這些是指何國？ (A)臺灣 (B)韓國 (C)中國 (D)日本。
- 6.( ) 臺灣的地名非常多元，有些來自早年移民的維生方式，由附圖判斷，此地容易形成何種地名？



- (A)草屯 (B)鹽埕 (C)苓雅 (D)竹山。
- 7.( ) 公館是清帝國時期地主租地給民眾種植農作物，為了方便收租設置的地點，久而久之變成了一個地名。公館地名在臺灣，你會想到有台北公館、苗栗公館、屏東公館，台中甚至有 3 個公館。依上述判斷，下列哪一地區因前期尚未開墾，較少有這個地名出現？ (A)新竹 (B)花蓮 (C)高雄 (D)嘉義。
- 8.( ) 臺灣鄉鎮市區的名稱非常多元，其名稱意義可區分為原住民族語、外來語言等。若要將下列地名分類，哪一組合為同一類？ (A)延平、大甲 (B)溪口、造橋 (C)五峰、五結 (D)春日、三貂角。
- 9.( ) 下列哪一個地名，其由來與植物相關？ (A)蚵寮 (B)牛墟 (C)鹿寮 (D)茄苳腳。
- 10.( ) 族群分布的差異影響該地區的命名，附圖為臺灣客家人主要分布圖，在圖中地區較常看到的地名種類不包括下列何者？



- (A)厝 (B)屋 (C)壢 (D)嶼。
- 11.( ) 臺灣的地名可以判斷出當時的自然環境，作為研究當時區域地理的素材。地名中有「湍」字的地區，當地較容易出現何種天然災害？ (A)水患 (B)山崩 (C)強風 (D)寒害。
- 12.( ) 大雄打算在假日進行北台灣火車站地名實察。右圖為板橋到基隆路段的車站名稱。圖中看到許多「堵」有關的地名，清帝國時期漢人為防範原住民族侵襲，於居住地外圍設置土牆，土牆一丈稱為「板」，五板稱為「堵」。七堵位於第七個防禦據點，故以此為名。下列哪個地名也是此類命名方式？ (A)花蓮瑞穗 (B)高雄鹽埕 (C)台北北投 (D)台北木柵。
- 13.( ) 臺灣有許多地名有「崙」字，例如：崙仔、崙背等，這些地名和沙丘地形的關係密切。由此判斷，此類地名應該分布在哪一個地區較普遍？ (A)東北角海岸 (B)西南沿海 (C)恆春半島 (D)東部海岸。

基隆→三坑→八堵→七堵→ 百福→五堵→汐止→萬華→ 汐科→萬華→板橋
--

- 14.( )在內政部「地名資訊服務網」中，有關雲林斗南竹篙厝的相關資訊如右列所述。竹篙厝後經雅化而改名，依閩南語諧音則最可能改稱之為何？ (A)祖厝 (B)金德興 (C)德高 (D)祝三多。
- 15.( )「在台灣不同的歷史階段，會出現一些具有時代背景特色的新地名，例如：中山、柳營、潮州、關西等。」上述這四個地名出現的時間，其先後順序為何？ (A)柳營、潮州、關西、中山。(B)關西、柳營、潮州、中山。(C)中山、柳營、潮州、關西。(D)潮州、中山、柳營、關西。
- 16.( )屏東的潮州位於該縣的中央位置，為當地重要的交通中樞，也是東西鐵路的轉運站。該地名和當地早期的居民由附圖中何處移入關係最大，因此有三山國王廟的祭祀習俗？

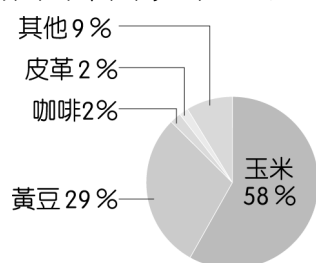
地名意義:具居民所述，因當地盛產竹子，屋舍多呈長條狀，及傳統建築的「一條龍」模式，且建材多用當地竹材，故名竹篙厝。



- (A)甲 (B)乙 (C)丙 (D)丁。
- 17.( )臺灣暑假常有颱風侵襲，帶來的超大豪雨，下列哪一種地名的地區容易產生土石流災害，對居民生命、財產產生威脅？ (A)壠 (B)嶼 (C)崙 (D)港墘。
- 18.( )位於花蓮縣光復鄉的太巴塢(Tafalong)原意是白螃蟹，馬太鞍是樹豆的意思，均承載著原住民族與大自然、祖先與後代的關係。下列哪一組地名與「原住民族」相關？ (A)大溪、五結 (B)麻豆、暖暖 (C)草屯、中壢 (D)東石、潮州。
- 19.( )台灣的鄉鎮市區地名來源多樣，有些與商品行銷緊密結合。下列哪一項特色商品與地名已頗負盛名？ (A)新竹陶瓷 (B)金門高粱 (C)燕巢芒果 (D)彰化米粉。
- 20.( )台灣最基層的行政區分為鄉、鎮、市和區四種類型，這四種分類與行政區過往的聚落型態和產業結構有關連。其中哪一種代表人口最少、人口密度較低且工商發展程度較低？ (A)市 (B)鎮 (C)鄉 (D)區。
- 21.( )國際間農產品的外銷，也能成為國際貿易順差來源，下列哪一種自然環境能夠產出最多樣的水果，具有成為水果王國的條件？ (A)以平原為主的溫帶地區 (B)以平原為主的熱帶地區 (C)有高山地形的熱帶地區 (D)有高山地形的溫帶地區。
- 22.( )臺灣的某種農作物分布區如附圖所示。請問：該農作物最可能為下列何者？ (A)檳榔 (B)水稻 (C)茶葉 (D)甘蔗。



- 23.( )在經濟全球化影響下，民國 109 年的臺灣農產品進口總值 154 億美元，出口總值 49 億美元。下列有關臺灣該年的農業貿易情形，何者正確？ (A)出超 203 億美元 (B)入超 203 億美元 (C)出超 105 億美元 (D)入超 105 億美元。
- 24.( )附圖為某國家出口至臺灣的農牧產品比例圖，若依圖中相關資料加以判斷，最可能為哪一個國家？



- (A)巴西 (B)中國 (C)日本 (D)美國。

- 25.( )我們將「食物從生產地到消費者的餐桌所經過的運輸距離」稱之為何？ (A)消費里程 (B)食物里程 (C)生產里程 (D)交通里程。
- 26.( )小陳到某量販店購買玉米，看到上面貼有產銷履歷的標籤（如附圖），若是選擇有標章的產品，對於下列哪項生活理念的落實較有幫助？

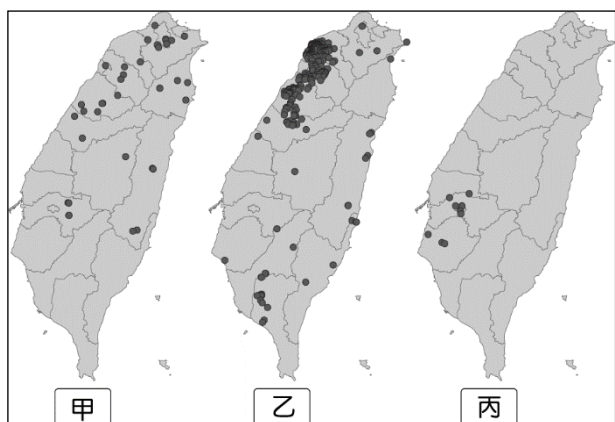


- (A)降低食品安全的風險 (B)採用有機農業的食材 (C)延長食物的保存期限 (D)大幅縮短食物的里程
- 27.( )小天去全聯超市買一包波的多洋芋片、金門貢糖、紐西蘭 Z e s p r i 奇異果、東勢特選茂谷柑，請問哪樣商品的碳足跡最大？ (A)波的多洋芋片 (B)金門貢糖 (C)紐西蘭 Z e s p r i 奇異果 (D)東勢特選茂谷柑。
- 28.( )台灣目前的茭白筍最大產區於南投縣埔里鎮，栽培面積約 1,700 公頃，占全台茭白栽培面積 85%，主要品種為早生青殼品種，採收期為 4~10 月，產量主要集中於 4~5 月及 8~9 月兩期。不過使用夜間照燈技術，使茭白筍四季都吃得到。其主要原因為何？
- (A) 能在短時間內大規模殺死病蟲害  
(B) 農村勞動力老化，節省人力  
(C) 可使農地較為肥沃  
(D) 影響作物的成長速度以調節產期
- 29.( )右圖為清真(Halal)認證，代表這個食物或餐廳經過伊斯蘭協會或清真寺認可。一般來說，符合清真(Halal)的食品，必須符合下列原則:不可含有豬的 DNA、不可含有血的或血塊、不可含酒精成分、廚炊用具或生產線需為清真專用，不可與生產其他不符合教規之食品共用，屠殺前必須誦讀真主之名…等。詳細情形仍請依照各認證單位規範施行。請問取得此認證的食品工廠，主要銷售對象為下列何者？ (A)日本 (B)南韓 (C)馬來西亞 (D)泰國。



- 30.( )【日期：111-11-06資料來源：新聞傳播處 行政院長蘇貞昌今（6）日前往屏東縣出席「屏東縣農業國際化標準包裝加工廠統包工程動土典禮」時表示，繼全國首座國際保鮮物流中心於今年 9 月在屏東正式啟用後，今日屏東農業國際化標準包裝加工廠也順利動土，未來將結合冷鏈及蒸熱檢疫功能，有助於提升臺灣農產品競爭力，並建立以外銷為導向的農產品供應鏈。】請問:根據報載，若屏東農業國際化標準包裝加工廠完工後，下列商品不會是台灣外銷主打商品？ (A)芒果 (B)牛乳 (C)鳳梨 (D)釋迦。
- 31.( )基因改造作物雖然對人或環境的影響還需多加研究，但在其龐大的經濟利益面前，不少國家會選擇開放種植。下列何者並非是基改作物的優點？ (A)增加農藥使用量 (B)改良營養價值 (C)延長保存期限 (D)提高作物產量。

■每個地名皆有其由來與典故，除了反映當地的自然環境外，更凸顯該地的人文特色。它可能烙有先民走過的蹤影，也可能呈現出多種政權（荷蘭、西班牙、日本等），以及族群（原住民族、閩南人、客家人等）之樣貌。附圖是不同地名的分布地圖，請依照下方提示配對出適合的地圖與地名分布特性。



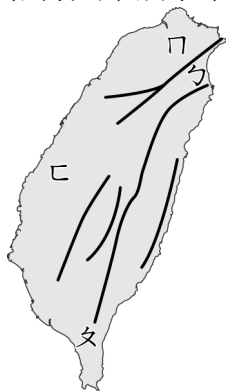
代號	地名分布特性
A	因客家聚落多集中於桃竹苗的丘陵、高屏的六堆地區，以及花東縱谷平原，故該地名多分布於此。
B	因樟樹多分布在北部及中部的淺山地區，而腦寮多位於樟樹附近，故該地名多分布於此。
C	臺灣西南部的河川多屬荒溪型河川，洪枯變化量大，此地名顯示當時居民可能利用河川枯水期在乾涸河床從事開墾。

- 32.( ) 「溪底寮」是臺灣常見的聚落名稱，源於早期民眾利用河川枯水期在乾涸河床從事開墾，並在該地搭建簡單的工作寮房。請問：「溪底寮」地名的空間分布，最可能是哪張圖，依據何者判斷？(A)甲，A (B)乙，B (C)丙，B (D)丙，C。
- 33.( ) 「屋」是客家族群稱呼房子之意，例如：四座屋、黃屋、新瓦屋。客家人稱傳統三合院或四合院為「伙房屋」，請問：「屋」地名的空間分布，最可能是哪張圖，依據何者判斷？(A) 乙，A (B)甲，B (C)乙，C (D)丙，C。
- 34.( ) 「腦寮」為產製樟樹製品的聚落。樟樹分布在臺灣平地至海拔 1,800 公尺的區域，其生產的樟腦、樟油可除蟲病害與除臭芳香，木材則可當作建材、雕刻品之原物料。請問：「腦」地名的空間分布，最可能是哪張圖，依據何者判斷？  
(A)甲，A (B)乙，B (C)甲，B (D)丙，C。

■檸檬是臺灣最具代表性的熱帶水果之一，全臺栽培面積超過 1,400 公頃，而全臺年均溫最高的地區種植面積更高達 1,200 公頃，占 85.9%。某鄉鎮由於其獨特的栽種技術，所以品質獨冠全國，被稱為「檸檬之鄉」。

目前果農與農產加工整合服務中心合作，將盛產的水果進行初級加工，如製成的香檬原汁便成為明星商品，廣受消費者喜愛。他們更希望以此為基礎，提供消費者更好的體驗並提升其產品價值，創造出新商機。回答下列問題。

- 35.( ) 根據文中該水果的生產環境條件判斷，下列哪一個地區為主要的產地？



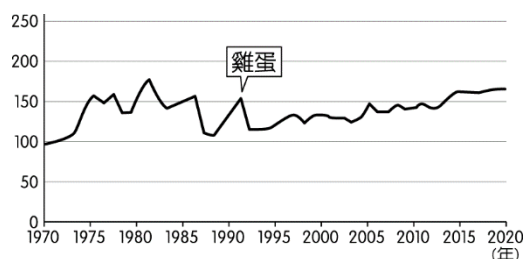
- (A)ㄅ (B)ㄆ (C)ㄇ (D)ㄊ。
- 36.( ) 由於得天獨厚的地理環境再加上生產技術，所以有「檸檬之鄉」的鄉鎮最可能為下列何者？ (A)苗栗縣尖山鄉 (B)嘉義縣新港鄉 (C)屏東縣九如鄉 (D)宜蘭縣冬山鄉。
- 37.( ) 當地的農夫目前正和相關單位合作生產，希望能提高其附加價值，增加農夫收入。下列何者較為適合？ (A)擴大種植面積 (B)大量低價行銷 (C)提供宅配服務 (D)產品包裝設計。

■【時報-台北電】稻作收益本來就不佳，原物料價格持續上漲，農業資材如肥料也已漲 3 至 5 成，雲林縣府行文農委會建請提高公糧收購價格，以回應生產成本增高。不過農糧署回函，水稻生產呈現供過於求情形，倘再提高公糧收購價格，將加劇生產過剩狀況。

農糧署說，為利政策整體考量，尚不宜調整公糧收購價格或數量，請雲林縣府配合「綠色環境給付計畫」及基期年農地稻作四選三措施，輔導稻農轉作或契作無產銷失衡之虞的作物，以利產業均衡發展，確保農民收益。(新聞來源：中時即時 周麗蘭)

請回答，下列問題

- 38.( ) 2002 年台灣加入世界貿易組織後，國內農業面臨轉型壓力，下列何者是台灣主要轉型方向？ (A)粗放農業 (B)有機農業 (C)精緻農業 (D)熱帶栽培業。
- 39.( ) 台灣在加入世界貿易組織後，與國際間的互動關係日益密切，所以市場上的價格亦容易出現波動。附圖為我國蛋價的波動狀況，這與何國的大豆等飼料作物價格變動關係最大？



- (A)日本 (B)美國 (C)澳洲 (D)法國。
- 40.( ) 面對稻米生產過剩的現況，下列採取的措施，何者有誤？  
(A)改種雜糧或高經濟作物 (B)銷售其他國家 (C)米食推廣:碗糕大賽、炒飯王、米果、米餅、米捲、米可樂果等零食 (D)禁止稻米進口。