

屏東縣立中正國民中學 112 學年度第一學期第三次段考九年級地理科試題

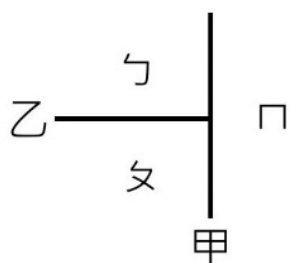
第 1-30 題，每題 3 分；第 31-35 題，每題 2 分 九年_____班_____號姓名_____

※玻里尼西亞人是大洋洲一系列族群的總稱，他們使用玻里尼西亞諸語言，屬於南島語系的一個分支，並居住在玻里尼西亞。即北至夏威夷群島，東南至復活節島，西南至紐西蘭群島的三角形區域。他們在穿越廣大海洋時，常使用獨木舟。請回答 1-3 題。

1. () 文中的廣大海洋指的是下列哪一個海域？(A)大西洋 (B)地中海 (C)印度洋 (D)太平洋。
2. () 這種獨木舟與台灣哪一個原住民族所使用的拼板舟有異曲同工之處？(A)泰雅族 (B)排灣族 (C)達悟族 (D)阿美族。
3. () 船隻為太平洋島民的重要交通工具。下列敘述何者與這個現象最有關係？(A)當地陸地分散，以小面積的島嶼為主 (B)本區島嶼地勢較低，農業發達(C)此區島嶼位於板塊交界，多火山島 (D)當地多位於海陸交界處。

※『帛琉共和國：通稱帛琉或帕勞是位於太平洋的島嶼國家。全國有約 340 座島嶼。是台灣在大洋洲 4 個邦交國中，與臺灣在季節、時區上最相近的一個，景色優美，是極具觀光魅力的原始生態天堂。』請回答 4-5 題：

4. () 依上文推論，帛琉應位於下圖中的哪一個島群中？(A)ㄣ (B)ㄣ (C)ㄣ (D)無法判斷。



5. () 若我們到帛琉旅遊最可能看到下列哪一個現象？(A)該國人數眾多，人口密度高 (B)降雨量多，人民飲用的淡水充足 (C)傳統居民多以漁業維生 (D)居民多住在火山島。

※下圖為澳洲氣候簡圖。甲-己分別代表澳洲氣候類型。請回答 6-7 題。



6. () 澳洲受到風帶隨季節移動影響，呈現夏乾冬雨的現象。此區分布於(A)乙 (B)丙 (C)丁 (D)戊。
7. () 澳洲的精華地區位於(A)乙 (B)丁 (C)戊 (D)己。

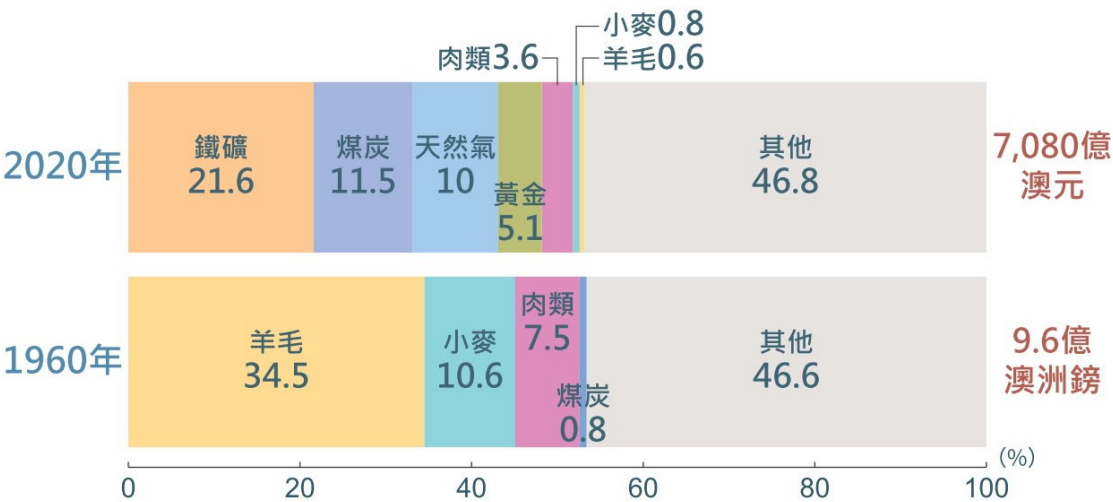
※每年一度的「聯合國氣候變遷大會(Climatic Change Conference of Parties, COP)」，集合了全世界各地最聰明的腦袋，就是幫人類文明跟大自然搶時間。下圖為氣候變遷(溫室效應)的觀察七大指標。請回答 8-10 問題：



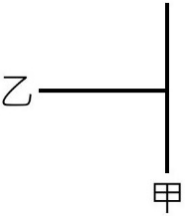
8. () 下列何者為『溫室效應』的主要原因？
(A)極圈海冰融化 (B)海面高度上升 (C)空氣中二氧化碳濃度升高 (D)海洋溫度升高。
9. () 下列環境問題有幾個與『溫室效應』有關？(A)5 個 (B)6 個 (C)7 個 (D)8 個。

甲	短時間降水集中，單位時間降水量遠超過平均值，雨水無法及時宣洩造成水災
乙	該年降水量低於歷年平均值會引發乾旱
丙	地層下陷
丁	人類與北極熊之間的衝突增加
戊	海水面上升，當地居民生活空間受到影響
己	海水面上升，可能會淹沒人口稠密的海岸地帶
庚	珊瑚面臨白化、死亡
辛	海洋塑膠汙染

10. () 下列哪一個會議並不是針對『溫室氣體』而開的？
(A)京都議定書 (B)聯合國氣候變遷大會 (C)巴黎協定 (D)南極條約。
11. () 下圖為澳洲在 1960 年、2020 年的出口變化圖。依據圖中資訊可判斷哪一個結論？(A)台灣與澳洲的貿易往來頻繁 (B)澳洲的國際貿易為順差 (C)1960 年代，澳洲出口農牧業為主 (D)2020 年，澳洲出口以科技產業為主。

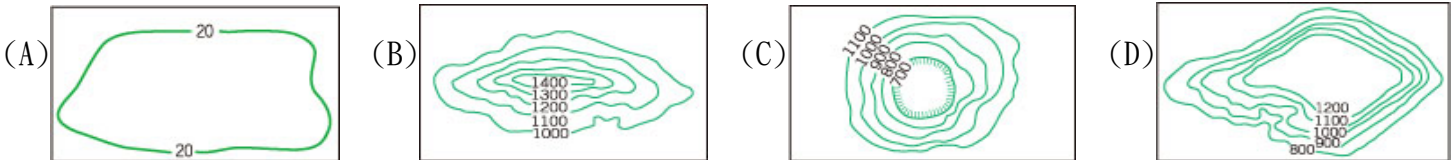


12. () 『大洋洲的三大群島是指散布在太平洋上的 2 萬多個島嶼，大多分布在南、北回歸線之間。』由前文可以得知以下哪一個地理現象？(A)大洋洲多位於溫帶地區 (B)大洋洲的島嶼多為火山島 (C)大洋洲的年均溫偏高 (D)南島語族為大洋洲的原住民之一。
13. () 附圖為大洋洲的簡圖，圖中甲、乙代表其分界線。請問：乙界線大致與下列哪一條線相符？
(A)0°N (B)0°E (C)180°E (D)180°W。
14. () 關於大洋洲中火山島的特色，下列敘述何者正確？
(A)地勢低平，被稱為低島 (B)地勢較高，土壤肥沃可從事農耕
(C)淡水資源缺乏，農業受限 (D)傳統經濟為觀光業
15. () 21 世紀以來因交通愈加便捷，帶來嚮往此區風情的觀光客，觀光產業的發展，改善了大洋洲各島嶼的經濟發展結構。下列哪一種交通對此區經濟發展最有貢獻？(A)鐵路 (B)海運 (C)公路 (D)空運。
16. () 附表為某一個國家的簡介。根據該國的地理特徵判斷，下列何者是該國在全球氣候變遷下最可能面臨的環境災害？ (A)降雨稀少致長期乾旱 (B)水患頻仍且國土萎縮 (C)土石流發生頻率增加 (D)土地沙漠化範圍。



項目	說明
位置	5°S~10°S，176°E~179°E
地形特徵	珊瑚礁島
平均高度	2 至 3 公尺
水文特徵	全國無河川

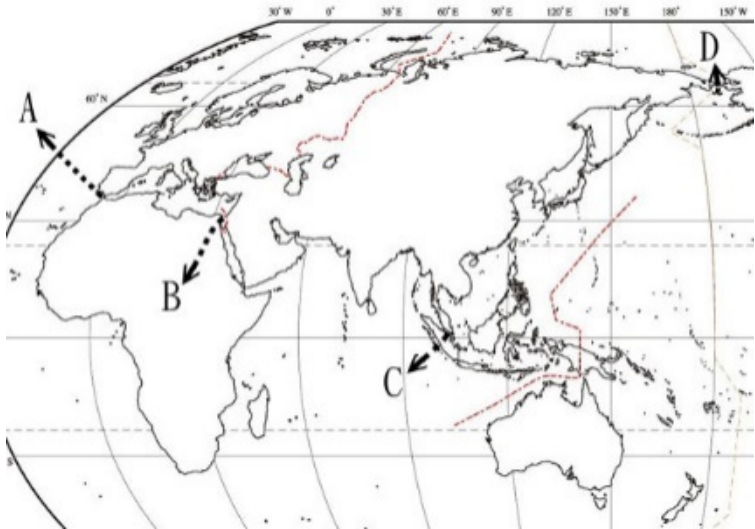
17. () 小華到澳洲打工度假，趁著聖誕節時去墨爾本(145°E)旅遊，他在澳洲時間 19:00 與臺灣的家人視訊通話，下列何者應是他與家人通話時的情形？(A)視訊時小華穿著防寒大衣 (B)臺灣當時時間為 17 點 (C)小華上週利用假期去觀賞當地的福克斯冰川 (D)小華提起他到澳洲的南部欣賞珊瑚礁
18. () 臺灣與紐西蘭都位於板塊交界帶，地震頻繁。臺灣與紐西蘭多以哪種地形為主？



19. () 去動物園參觀時，在澳洲動物區可以看到澳洲的特有動物，例如：袋鼠、無尾熊等。澳洲的哪個地理條件，創造了許多當地特有的動物？(A)位置孤立的島嶼 (B)南回歸線經過中央 (C)地廣人稀 (D)發展較晚。
20. () 釀酒的葡萄通常在當地秋季採收，在臺灣的我們，如果想到澳洲體驗釀酒葡萄採收，最適合在下列哪個假期出發？ (A)暑假 (B)清明節 (C)端午節 (D)中秋節
21. () (甲)終年副熱帶高壓籠罩 (乙)信風的背風側 (丙)沿海寒流流經 (丁)距海遙遠 (戊)西風背風側。以上因素中，何者與澳洲沙漠廣布有關？(A)甲乙 (B)甲丙 (C)丙丁 (D)乙戊。
22. () 紐西蘭全年溫和溼潤，屬於溫帶海洋性氣候。下列關於紐西蘭氣候的敘述，下列何者錯誤？(A)終年西風吹拂 (B)西側迎風坡濕潤 (C)北島緯度較高，地勢較低，氣候溫暖 (D)南島緯度較高，地勢較高，氣候冷濕。
23. () 依紐西蘭的地理條件，如果要善用自身條件，並達到環保又永續發展的目的，最可能以下列哪些方式從事發電？(甲)風力 (乙)火力 (丙)太陽能 (丁)地熱 (A)甲乙 (B)甲丁 (C)乙丙 (D)丙丁。
24. () 造成紐西蘭南島冰河地形較北島發達主要因為？(A)靠近北極 (B)降水較少 (C)陸地範圍較廣 (D)緯度較高。
25. () 小明一月在某地旅遊時，每隔 1 小時，以照相方式記錄太陽 24 小時位置變化的結果，這是日不落的「永晝」現象。請問：小明最可能在何處進行觀察記錄？ (A)南極洲 (B)北歐挪威 (C)非洲剛果 (D)台灣玉山。
26. () 格陵蘭島位處北極圈附近，某研究針對島上居民進行「氣候變遷對人類心理影響」的抽樣調查，結果顯示大部分受訪者曾親身經歷全球暖化對生活帶來的影響，氣候變遷正為北極地區居民帶來前所未有的壓力和焦慮。下列何者最可能為當地居民擔憂的事情？ (A)海中珊瑚大量死亡造成觀光收益下滑 (B)冰河侵蝕日漸增強導致耕地面積減少 (C)日益變薄的冰層讓雪橇通行變得危險 (D)氣溫逐年變化使得冬天變長夏天變短。
27. () 附表為某種環境問題在各個地區造成的影響，該環境問題持續惡化後，最可能出現下列何種現象？ (A)海水淹沒沿海低窪地區 (B)兩極地區海水鹽度上升 (C)沿海地區地層下陷嚴重(D)高緯區可耕地面積減少。

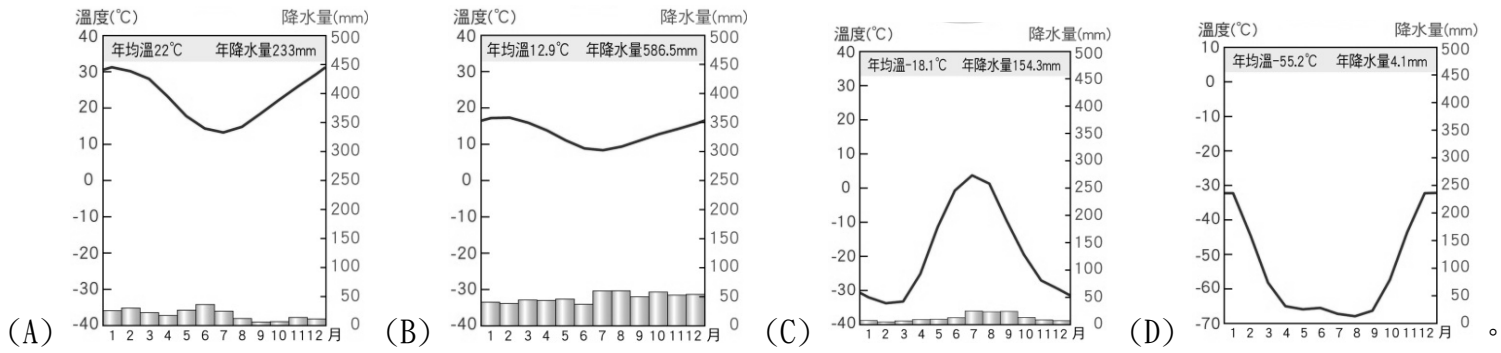
地區	影響
喜馬拉雅山區	冰河逐漸消退
熱帶海域	大量珊瑚白化
北極地區	部分動物棲息地減少
溫帶地區	出現熱帶地區常見的傳染病

28. () 『根據美國冰雪資料中心 (National Snow and Ice Data Center)、北極理事會 (The Arctic Council) 的研究顯示，2030 年起北極海可能因大範圍融冰而出現西北、東北兩條北極航道，威脅□□□運河在歐亞海運長達一個半世紀的獨占地位。透過北極航道，西歐與東亞之間的航程將比現有的□□□運河航線縮短 5,500 公里。』文中所述運河的最可能分布於下圖何處？(A)A (B)B (C)C (D)D。



29. () 隨著全球航空事業的發達，北極上空的交通也愈來愈繁忙。許多國際班機的飛行路線皆經過北極上空，主要的考量因素為何？ (A)觀賞冰原風光 (B)國家可減少航權談判 (C)可縮短航行哩程 (D)亂流少、安全性高。

30. () 下列何圖最有可能是南極地區的氣候圖？



31. () 南極與北極皆處於極圈內，但南極的氣溫卻比北極低，造成此現象的主要原因為何？
(A)南極地勢較高 (B)南極的緯度較高 (C)南極的工業汙染較少 (D)南極的暖化速度較慢。

32. () 下圖為北極海周邊海域及陸地分布圖，下列資訊何者正確？

	甲	乙	丙	丁
(A)	大西洋	太平洋	亞洲	北美洲
(B)	大西洋	太平洋	北美洲	亞洲
(C)	太平洋	大西洋	亞洲	北美洲
(D)	太平洋	大西洋	北美洲	亞洲



33. () 下列同學對南極的敘述，哪一個人說的是錯誤的？

(A)	小夫：南極地形多火山、地震
(B)	大熊：南極地表出現人類所測得的最低溫
(C)	競相：南極的主權不屬於任何國家
(D)	胖府：三大洋均有瀕臨南極洲

34. () 紐西蘭原住民毛利人的傳說裡，他們的祖先是從一處稱為『哈瓦基』(Hawaiki)的地方飄洋過海，在 700 年前來到紐西蘭，居住於北島。他們選擇北島居住的主要原因可能為下列何者？ (A)氣候較溫暖 (B)降水量較多 (C)政府政策鼓勵 (D)島嶼面積較大。

35. () 世界最大的珊瑚礁群位於下圖中的何處？(A)甲 (B)乙 (C)丙 (D)丁

