

※請使用 2B 鉛筆將正確答案劃記於答案卡，否則不予計分。
※配分：每題 4 分，共 100 分。

一、單題(選出一個最正確的答案)



1. 上圖是某立委研究調查的報告，報告中以平均勞工一週工時 40 小時、週休二日，能在工作日準時下班的前提下進行計算，將各項工作按比例分配時數，最終得出一位家庭主婦所負擔的工作，應換算成月薪 4 萬 5958 元。根據上述，下列何者最正確？(A)家務勞動是一種市場勞動(B)和擔任居家服務員一樣可以向雇主領取薪資(C)家庭成員從事家務勞動的重要性與貢獻往往容易被忽略(D)只有妻子需要家務勞動是一種就業歧視。
2. 四個朋友正在討論多元的支付工具，下列是他們的對話。
- | | |
|----------------------------------|--------------------------------------|
| 大中：用現金較能被大眾接受，也不會有店家接受或不接受的問題。 | 阿國：我透過智慧型手機完成交易，不用領錢，也不用攜帶卡片，交易更加方便。 |
| 小正：我買的東西金額較高，刷信用卡可以延遲付費，還能零利率分期。 | 阿中：我有 OO 賣場的儲值卡，先把錢存入卡片內，使用時有優惠。 |
- 根據四人提及的支付工具，下列何者正確？(A)大中所提及的支付工具普遍被大眾接受，是一種商品貨幣(B)小正想使用信用卡購買物品，是因為信用卡具有清償債務的功能(C)阿國雖然不用領錢也可以完成交易，最後仍須以法定貨幣支付(D)阿中將錢存入卡片即可購物，顯示這張儲值卡有價值衡量的特性。
3. 2023 年 9 月訪日外國遊客共有 218 萬 4300 人，幾乎回復到 COVID-19 疫情爆發前的水準。此外，今年每位訪日外國遊客平均消費 21 萬 810 日圓，比 2019 年同期上升 29.4%。日本媒體報導，受旅遊人數激增影響，日本的飯店、旅館住宿價格全面飆漲，受惠於日圓★，房價漲幅對於外國旅客來說似乎不痛不癢，幾乎所有飯店都以外國遊客為主要目標，價格一抬再抬，對比深受通貨膨脹所苦的日本民眾，可以說是兩個世界。根據上述，下列何者正確？(A)★處應填入貶值(B)★處應填入升值(C)外國旅客不在乎高房價是因為本國貨幣相較於日圓而言是價值較低的(D)日本民眾因物價上升而提高儲蓄意願。
4. 全台便利商店密集程度高！不少學生為求方便直接去便利商店購買早餐，放學後學生也習慣到學校附近的便利商店買飲料、零食後再回家。貨幣促進市場交易便利，上述學生使用貨幣的功能與下列何者相同？(A)人們常說，猶太人善於賺錢，美國人善於花錢，中國人和日本人善於存錢。近來做了一項相關的調查，其結果顯示日本 30 歲年輕人的平均儲蓄為 328 萬日圓(B)銀髮族教學網中顯示：『Line 貼圖區如何購買？』首先進入 Line 手機程式後，在「其他」區中有設定，要先進去「設定」中的「我的錢包」購買代幣，在右上方有一個「購買」，可以挑選要購買的代幣數及花多少台幣去購買(C)網路購物平台熱銷鞋款 690 元，購滿 1200 元再打 9 折！還有 8H 急速配！(D)網友分享自己的經驗：由於丈夫投資不當揹負了數百萬的債務，與最大債權銀行達成零利率的分期償還計劃。付了將近五年的時間，終於拿到債權銀行的清償證明書。

5. 媒體報導近年食物外送平台興起，高薪吸引不少年輕人投入兼職，甚至捨棄原本正職工作轉投入外送員工作，但外送員也是高風險、長工時的工作。宅經濟蓬勃發展，外送員頻頻發生車禍事件，引發各界高度關注，台北與桃園勞檢處前往 Foodpanda、Uber Eats 兩家食物網路外送平台總部進行勞檢，認定兩家食物外送平台與外送員之間為僱傭關係，依法雇主要為外送員投保勞健保、職災保險，並提供職災補償，每月提繳工資 6%作為勞工退休金。根據上文，可以得知政府透過哪一種方式保障外送員的勞動權益？(A)監督政府的施政效率(B)執行具有強制力的社會規範(C)運用網際網路的盛行(D)利用各類型的傳播媒體。

匯率的變動與各國的進出口有密切的關係。根據右圖選出最符合第 6~7 題敘述的答案：

6. 有關『甲』的敘述何者正確？(A)台灣出口一台售價新台幣 30000 元的筆記型電腦到美國變便宜(B)有利於台灣進口美國汽車到台販售(C)此時台幣升值(D)此時美元貶值。
7. 有關『乙』的敘述何者正確？(A)此時美元升值(B)台灣進口美國商品的成本降低(C)此時台幣貶值(D)台灣商品變便宜，國外訂單增加。



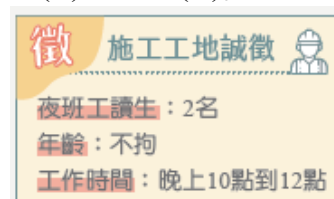
8. 下列哪一個選項不是就業的要件？(A)大中從小就喜歡吃美食，(B)夢想成為一流的廚師。高職相關科系畢業前，就(C)積極考取中式廚師丙級證照，(D)目前在一家生意興隆的餐廳擔任廚房助手。
- 9.

牌價最新掛牌時間：2023/12/25 14:50

幣別	現金匯率	
	本行買入	本行賣出
美金 (USD)	30.735	31.405
港幣 (HKD)	3.83	4.034
英鎊 (GBP)	38.31	40.43
澳幣 (AUD)	20.78	21.56
加拿大幣 (CAD)	22.99	23.9
新加坡幣 (SGD)	22.94	23.85
瑞士法郎 (CHF)	35.54	36.74
日圓 (JPY)	0.2094	0.2222
南非幣 (ZAR)	-	-
瑞典幣 (SEK)	2.72	3.24
紐元 (NZD)	19.11	19.96
泰幣 (THB)	0.7725	0.9625
菲律賓比索 (PHP)	0.4961	0.6281
印尼幣 (IDR)	0.00168	0.00238
歐元 (EUR)	33.48	34.82
韓元 (KRW)	0.02225	0.02615
越南盾 (VND)	0.00106	0.00147
馬來幣 (MYR)	5.681	7.201
人民幣 (CNY)	4.259	4.421

根據上圖的銀行匯率告示牌，選出下列哪一個敘述最正確？(A)大中若想要換得 1000 歐元，需要付給銀行新台幣 33470 元(B)小正旅遊剩下的韓元約 45000 換回新臺幣 1000 元(C)阿國發現，兌換瑞士法郎的匯率最高(D)阿中也可至中央銀行兌換各國貨幣。

10. 58 歲的王媽媽從事家庭代工，之前因為疫情影響，全球經濟不景氣工廠無單可接，她求助勞工局，轉職百貨行作業員。行政院主計總處統計，45-64 歲者重新就業困難重重，不少雇主開職缺有年齡設限，面試時也有所顧慮。在《中高齡及高齡就業促進法》正式實施後，台中市府表示將力推中高齡就業博覽會；彰化推出「銀髮人才資源中心」鼓勵中高齡先上專業課程；南投縣府與勞動署合作讓中高齡者免費參加職訓以提高就業率。政府為了解決失業問題而提出各項措施，下列何者最不可行？(A)媒介民眾至他國就業(B)強化就業資訊(C)創造就業機會(D)提供就業輔導與諮詢。
11. 承第 10 題，以上政府的種種措施主要是為了保障人民的哪一項基本權利？(A)平等權(B)自由權(C)受益權(D)參政權。
12. 剛滿 15 歲的阿中想打工，在路上看到一則徵人廣告，他可以從事這個工作嗎？原因為何？(A)可以，因為根據勞動基準法，阿中已滿 15 歲屬於童工(B)不可以，因為工作時間超過晚上 8 點(C)可以，因為徵才廣告上註明年齡不拘(D)可以，因為已告知工作地點。



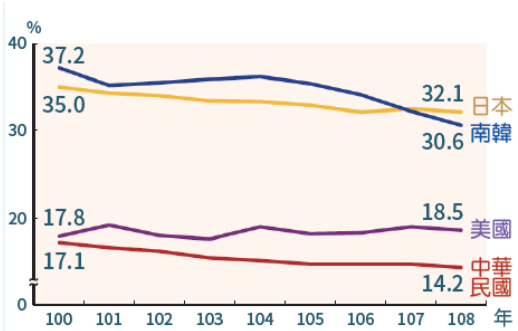
13.



左圖呈現甲、乙、丙三國的貿易情況。若甲國受匯率變動的影響，使得某段時間的進、出口商品數量皆大幅增加，則根據圖中內容判斷，該段時間甲國貨幣的匯率變化，最可能為下列何者？(A)相對乙、丙兩國貨幣皆升值(B)相對乙、丙兩國貨幣皆貶值(C)相對乙國貨幣升值，但相對丙國貨幣貶值(D)相對乙國貨幣貶值，但相對丙國貨幣升值。

14. 右圖是幾個主要國家的兩性平均時薪差距，請根據此圖判斷下列敘述何者正確？

- (A)相同工作卻因為性別不同而產生時薪差異是一種就業歧視(B)日本性別間時薪差距較小(C)美國性別間時薪差距最小(D)韓國性別間時薪差距漸漸下降，可見法律規範的成效。



15.南美洲委內瑞拉曾是盛產石油的國家，但如今卻面臨著全球最嚴重的通膨。為什麼會這樣呢？報導指出過去數十年來，被社會主義者掌權的委內瑞拉政府錯誤投資，再加上油價重挫、石油輸出銳減等因素，政府為對抗國內的惡性通膨宣布，該國貨幣玻利瓦（bolivar）面額直接砍掉 6 個零，換言之 1 百萬玻利瓦瞬間僅存 1 玻利瓦，瞬間縮水 1 百萬倍。在本次刪掉 6 個零之後，7 張 100 萬面額的玻利瓦，只能買得起一條麵包。100 萬面額的玻利瓦，已是該國面額最大的紙鈔了。畫線部分是貨幣的何種功能？(A)交易媒介(B)價值衡量(C)價值儲存(D)債務清償。

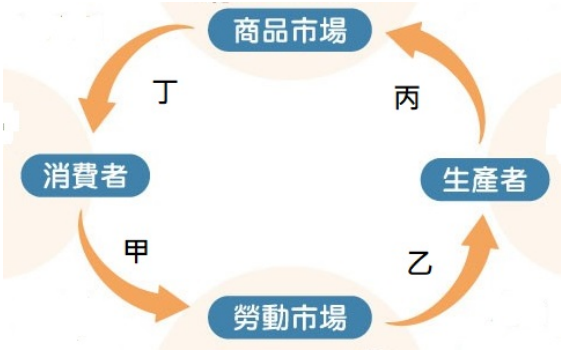
16.

項目	違規情形	適用法律
甲	網咖徵大夜班店員 2 名，年齡不拘。	《消費者保護法》
乙	雇主安排 15 歲工讀生從事工地搬運工作。	《少年事件處理法》
丙	民眾因非自願離職，符合資格者卻不能請領失業給付。	《就業保險法》
丁	在雇主家打掃，不小心損壞電視，雇主生氣索賠。	《勞動基準法》

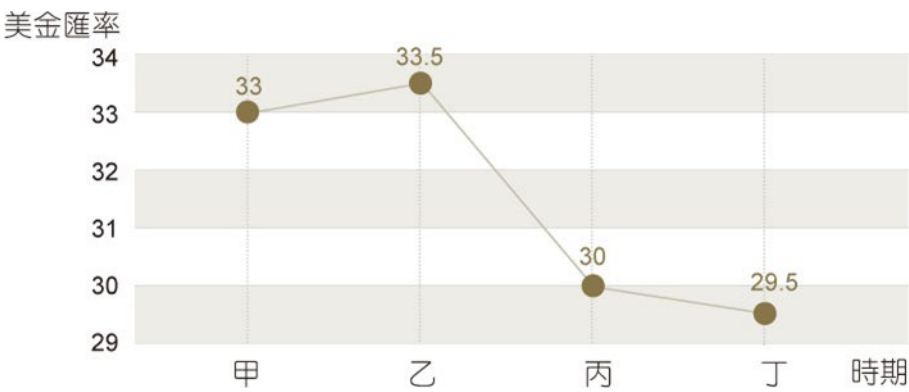
阿國將日常生活中看見的違規情形，與其可能違反的相關法律，整理如上表。根據表中內容判斷，他所列出的配對項目何者最適當？(A)甲(B)乙(C)丙(D)丁。

17. 民眾的生活與消費習慣，因為多元化新興支付模式的出現而不斷改變。現在不用去便利商店，就能用手機 App 繳停車費；醫院看診也不用排隊批價，只要掃一下 QR Code 條碼就能快速繳費；最廣泛應用的信用卡，已經能輕易整合綁定到手機上，這些都是「無現金社會」發展的開端，目前非現金交易的支付共有 3 大類別，包含(甲)信用卡、(乙)電子票證(悠遊卡、一卡通)、以及(丙)行動支付(LINE Pay、Apple Pay、臺灣 Pay、街口支付……等)。消費者享受金融科技帶來交易便利的同時，也不能忽略了電子系統癱瘓、網路竊盜和駭客攻擊的可能性。根據上述，下列何最正確？(A)(甲)是先儲值後消費，多用於小額支付(B)(乙)是塑膠貨幣，可以用來衡量不同商品間的價值(C)使用(丙)之後，直接於帳戶扣款，是法定貨幣的一種(D)(甲)、(乙)、(丙)最後都須以法定貨幣支付。

18. 「就讀研究所的小正，兼職擔任家教」是屬於右圖中的哪一部分？(A)甲(B)乙(C)丙(D)丁。



19. 全球化的時代來臨，舉凡國際貿易、旅遊或商務需求等，都會因外幣匯率的走向而有影響。根據下圖所示，下列何者正確？



- (A)當美金匯率從乙到丙，新臺幣兌換美金，貶值(B)當美金匯率從甲到乙，新臺幣兌換美金，升值(C)假設我國從美國進口汽車，在美國的售價為 US\$20,000 元，當美金匯率從甲到丙，丙比甲的進口成本減少新台幣 60000 元(D)當美金匯率從乙到丙，對台灣的出口業有利，因為生產成本降低。
20. 民學股份有限公司舉辦一場勞動參與講座，介紹勞動基準法的相關規定，如：最低基本薪資、職業災害補償、請假休假與休息日規定、最高工時上限....等。制定相關勞動規範的主要目的，應該是下列何者？(A)確保雇主營造性別平等的工作環境(B)肯定家務勞動的價值與社會貢獻(C)透過制定法律提高勞工薪資(D)保障參與勞動的基本權利。
- 21.



- 上圖是某網站的首頁資訊，這個網站應是下列何者？(A)財政部(B)經濟部(C)臺灣銀行(D)中央銀行。
22. 下表是阿學的公民寒假作業的內容，下列哪一個選項是阿學作業的主題？(A)交易媒介的形成與演進(B)影響貨幣價值漲跌的因素(C)多元的支付工具(D)貨幣對國際貿易的影響。

在貨幣還沒發明以前，人類只能透過「以物易物」（例如拿米換油、鹽）的方式，交換彼此所需要的物品。後來，為了方便交易買賣，利用大家公認有價值，且可以接受的東西，當作買賣的交易工具。早期被人類拿來當作貨幣的物品，包括貝殼、茶葉、礦石、皮草、牛羊、珍貴金屬(如黃金、白銀)等，可以說是千奇百怪。

隨著人類交易活動變多，可當作商品貨幣的物品中常有不能切割（如貝殼、牛羊）、容易腐壞（如茶葉、皮草）與不方便攜帶（如礦石）等問題，而最常被當作交易工具的黃金或白銀雖可以切割，卻也有重量與成分是不是足夠與衡量費時的問題。人們於是發明了標準化的金屬貨幣（也就是「鑄幣」），並由政府規定作為貨幣的金屬重量、成色與每個單位的價值。透過標準化的貨幣，就可以方便而且放心的交易。

隨著商業活動日漸興盛，人們需要攜帶很多錢幣才能進行買賣，是一件很麻煩的事，且有被偷或被搶的危險，加上印刷技術越來越發達，人類發明了以重量較輕的紙，印製而成的貨幣（也就是「紙幣」）。在西元十世紀北宋初期，四川商人共同發行一種紙券「交子」，就是人類最早的紙幣紀錄。

直到十八世紀英國英格蘭銀行（就是英國的中央銀行）發行了標準化面額的銀行券，是現代紙幣之流通。早期紙幣可以按照紙幣的面額，換成同等價值的黃金或白銀，因此紙幣的發行數量仍會受到限制，多年之後改由政府透過國家權威與信用，印製紙鈔或鑄造硬幣。從此，也開啟了信用貨幣時代。但是，因為印製紙鈔或硬幣的成本比較低，如果政府沒有限制地印了太多鈔票，有可能產生惡性通貨膨脹的問題。

二、題組 閱讀下列選文，回答第 23 至 25 題：

111 年底勞動部勞動力發展署統計資料顯示，外籍移工主要為兩類：第一類為產業移工(是指從事製造業、農林漁牧業、營建工程業) 以越南籍占最多數，約為 22.8 萬人，占產業移工總人數的 45%，其次依序為菲律賓 12.6 萬人(25%)、印尼 8.4 萬人(17%)及泰國 6.6 萬人(13%)。另一類是社福移工(是指從事看護工、家庭幫傭)則以印尼籍為最多約 16.5 萬人，占社福移工總人數的 75%，其次依序為越南 2.7 萬人(12%)、菲律賓 2.8 萬人(13%)。社福移工的薪資由勞雇雙方自行協商約定，自 111 年 8 月 10 日起，不得低於新臺幣 2 萬元。

外籍移工對臺灣勞動市場貢獻不少，尤其是許多移工離鄉背井來到台灣，協助無數家庭照護失能長者及身心障礙者的工作，幫助許多的臺灣家庭解決照顧家人與兼顧工作的難題。近年印尼各地區基本薪資大約介於月薪 125 美元至 345 美元之間，印尼中央及地方政府每年檢討基本薪資的問題。2022 年底至今，由於通貨膨脹、生活開銷提高，勞工團體頻頻向政府示威，要求提高基本工資，但企業也向印尼政府反應，若基本工資過高，恐影響企業競爭力。

23. 「許多外籍移工離鄉背井來到台灣，協助無數家庭照護失能長者及身心障礙者的工作」根據上述，呈現台灣社會勞動參與的哪一個現象？(A)完善保障市場勞動參與(B)加重中高齡勞工就業困難(C)家務勞動市場化的興起(D)提升勞工人權與尊嚴。
24. 單就薪資而言，請參考第 9 題銀行匯率告示牌，印尼籍移工留在印尼領基本薪資有利？還是千里迢迢到台灣工作領新臺幣有利呢？(A)到台灣工作有利，因為大約可領 630 美元(B)留在印尼工作有利，因為政府每年都會檢討基本薪資的問題(C)留在印尼有利，因為勞工團體不斷向政府要求提高基本薪資(D)到台灣工作有利，因為大約可領印尼基本薪資的五倍以上。
25. 畫線內容會造成下列哪一種影響？(A)生產者銷貨收入減少(B)勞工消費支出減少(C)生產者利潤增加(D)生產者生產成本增加。