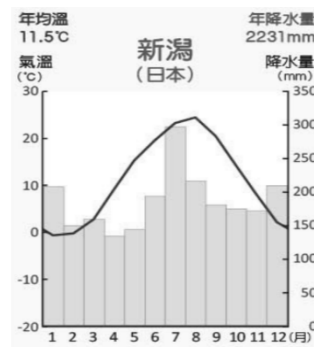
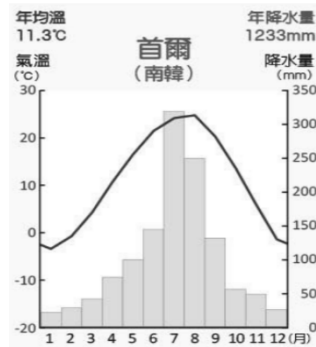
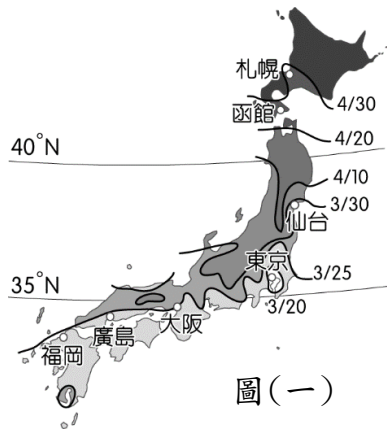


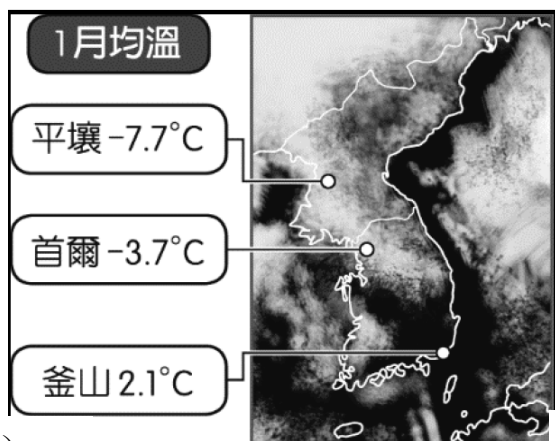
屏東縣立中正國民中學 112 學年度第一學期 第三次段考 八年級 地理科試題

一、 單一選擇題（每題 3 分，共 60 分）

- () 1. 以櫻花為主題的旅行，為日本春季旅遊的重點路線之一。為了能掌握最佳的賞櫻時間，日本氣象廳會在櫻花開放前夕，依各地櫻花開放時間繪製出「櫻前線」，如圖(一)。請問：下列何地的櫻花會最晚綻放？(A)九州島西北側 (B)本州島中部地區 (C)北海道島東南側 (D)四國島東部地區。



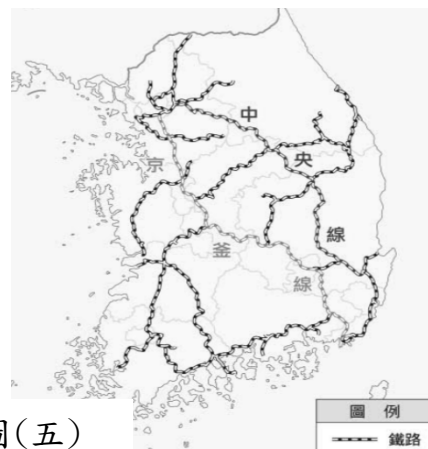
- () 2. 圖(二)為首爾和新潟的氣候圖，請問：造成新潟冬季降水量比首爾多的原因是 (A)首爾地形平坦 (B)首爾緯度較高 (C)新潟冬季盛行風吹過海洋 (D)新潟有暖流經過。
- () 3. 美代子看了紀錄片《灣生回家》，「灣生」是指日治時期在臺灣出生的日本人，他們在日本戰敗投降後返日。請問：這些灣生若從花蓮港搭船返回日本，船隻在下列哪一股洋流引領下很快就可抵達目的地 (A)親潮 (B)黑潮 (C)西澳涼流 (D)中國沿岸流。
- () 4. 日本時間 2011 年 3 月 11 日 14 時 46 分，東北外海發生規模 9.0 大地震，引發海嘯及福島核電廠事故，重創日本經濟，請問：震央是位於哪一座海域？(A)東海 (B)黃海 (C)日本海 (D)太平洋。
- () 5. 丸子到日本 京都旅行順道體驗日本文化。請問：下列哪一項她參加的活動中，受到中國文化影響最小？(A)搭火車到天橋立泡湯 (B)參觀漢字博物館 (C)著和服體驗日本茶道 (D)乘人力車走訪神社寺廟。
- () 6. 「不語、不跑、不推是避難的三不原則，大家要嚴格遵守。」日本的防震教育自小做起，相當札實，主要跟位在板塊交界的環境有關。請問：除了歐亞板塊外，在此交會的板塊不包括 (A)北美板塊 (B)太平洋板塊 (C)菲律賓海板塊 (D)印澳板塊。
- () 7. 飲食文化與當地的自然環境有著密不可分的關係，像是日本的「食魚文化」，無論是漁產採捕量或是消費量，日本皆是世界榜上有名。日本的魚產豐富除了因四面環海外，主要還受到哪一項因素的影響？(A)寒暖流交會(B)海岸線平直多良港 (C)殖民文化影響 (D)土壤貧瘠。
- () 8. 區域全面經濟夥伴協定(RCEP)是涵蓋 15 國的自由貿易協動，於 2022 年 1 月 1 日正式啟動。根據聯合國發布的預測報告，各項產品削減關稅，將增加簽約國對日本商品的進口，日本貿易額將增加 200 億美元。依上述敘述，那項產品的關稅調降，將是增加日本貿易額的主要因素之一？(A)稻米及米製品 (B)汽車及相關零件(C)成衣及加工產品 (D)天然橡膠加工品。
- () 9. 近年來，日本致力將高科技引入農業生產過程，如將智慧型機器人引入農場，用機械手臂協助農民採收，減輕工作負擔及對勞動力的依賴。請問：導致上述現象的主因為何？(A)出生率偏高 (B)勞動力老化 (C)性別比失衡 (D)失業率升高。
- () 10. 「日本是世界上最大的 00 製作和輸出國，僅 2021 年產業鏈產值就高達六千億新台幣，成為日本經濟支柱業之一，航海王、柯南為經典代表，鬼滅之刃、咒術迴戰近年來更是風靡全球。」上文 00 應該為日本何種產業？(A)觀光業 (B)電競業 (C)動漫業 (D)藝文業。
- () 11. 日本產品行銷國際，在臺灣市場也有著一席之地，以下哪個不屬於這類商品？(A)Hyundai 現代汽車 (B)Honda 本田汽車 (C)Panasonic 電子鍋 (D)Switch 任天堂電玩。
- () 12. 北韓經濟發展遲緩，常自中國進口民生用品，位於國土西北邊的新義州為兩國的邊境貿易重鎮，請問：兩國貿易將穿越哪一重要水域？(A)日本海 (B)鴨綠江 (C)圖們江 (D)漢江。
- () 13. 1990 到 2008 年期間，北韓發生數次饑荒，居民普遍營養不良，甚至死亡。造成北韓糧產不足，常有饑荒的問題，除了政治制度的影響外，與下列何項自然因素關係最密切？(A)颱風侵襲次數多 (B)火山活動與地震頻繁 (C)年雨量少於 250 毫米 (D)生長季短，平原少。
- () 14. 傳統的韓屋在地板下多設有取暖設施「溫突」，在中國北方也有類似的取暖設施「炕」。請問：同一緯度的朝鮮半島與中國北方，為何會有這些取暖設施？(A)位居盛行風背風側，空氣乾燥 (B)寒流經過，沿岸氣溫低寒 (C)緯度較高，冬季寒冷且長 (D)冬季低壓籠罩，降水豐沛溼冷。



圖(三)

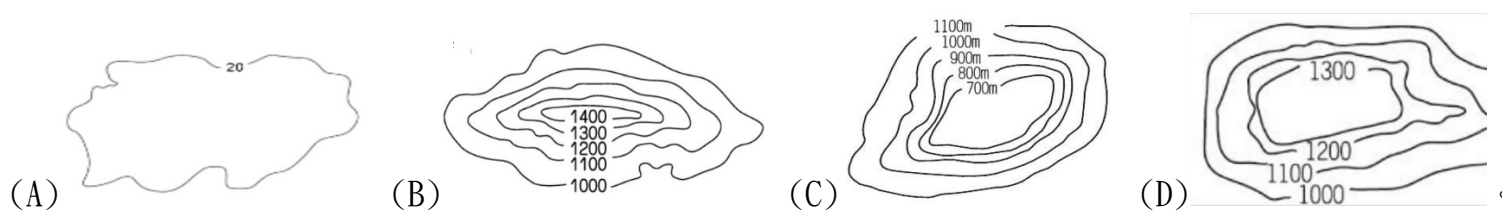


圖(四)



圖(五)

- () 15. 圖(三)是朝鮮半島冬季衛星影像圖。造成圖中的平壤、首爾、釜山三地冬溫不同的因素是 (A)地形 (B)洋流 (C)季風 (D)緯度。
- () 16. 2019 年 6 月，北韓日前以南韓政府放任脫北者施放空飄氣球為由，大動作切斷南北韓軍事熱線，隨即又炸毀位於兩國邊界的開城聯絡辦公室。同時，北韓放話撕毀板門店軍事協議，重新在邊界部屬軍力，並在西南重啟軍事演習，接著還以羞辱方式準備向南韓散布懲罰傳單。請問如果想在地圖上找到文中提及「開城」與「板門店」兩地應沿著哪一條經緯線尋找是最快的呢？ (A)38°N (B)0° (C)135°E (D)38°S。
- () 17. 由於長時間降雨，造成南韓多處土石流發生，若以半島脊梁山脈分布的位置來看，圖(四)中哪一個地區最靠近山脈位置，土石流可能會較為嚴重？ (A)甲 (B)乙 (C)丙 (D)丁。
- ★圖(五)為南韓主要鐵路線，其中京釜線和中央線是兩條重要縱貫鐵路。京釜線建設較早，是連接政治中心和重要港口的路線，而中央線則是日本殖民朝鮮時期建設，希望在戰爭時作為京釜線的替代路線。請依圖回答 18-19 題：
- () 18. 圖中鐵路線較為密集處屬於那類地形？



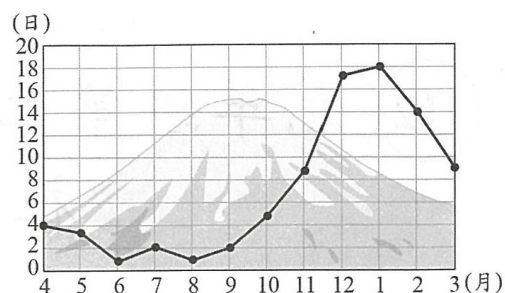
- () 19. 依南韓地形特徵，最大港釜山的海岸型態應該與臺灣那段海岸相似？(A)東部 (B)西部 (C)南部 (D)北部。
- () 20. 南韓自 1998 年制定文化立國方向之後，傾國家之力在推動文產業，不僅「韓流」席捲亞洲牛津大辭典，更在 2021 年收錄多個韓語詞彙，像是：K-drama 韓劇、kimbap 韓式飯捲等，可見韓流在世界的影響力愈來愈高。南韓文化產業觸角延伸至各層面，但不包含下列何者？ (A)飲食料理 (B)電影音樂 (C)傳統和服 (D)電競競賽。

一、單一選擇題（每題 2 分，共 40 分）

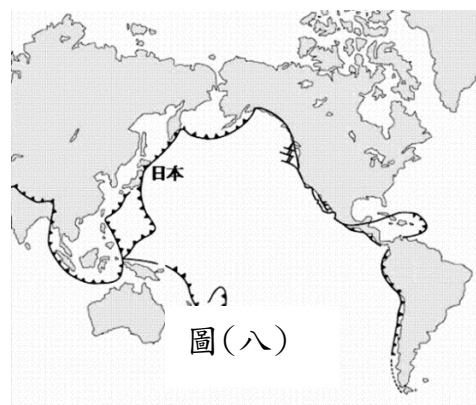
- () 21. 日劇「極限部落株之會社」描述因人口外流，即將面臨廢村的止村，因緣契機而有著翻轉機會的故事。然而，振興產業的任務艱鉅，從傳統的稻米耕作，轉為利潤較高的蔬菜栽培；從噴灑農藥的栽種方式，到無農藥的有機栽培；從仰賴農會的產銷模式，到建立「蔬菜寶寶」的自有品牌，農業轉型的過程，不斷引爆各種衝突和火花，這群有志之人也遭遇了前所未有的挑戰。請問：以下關於日本農業的狀況敘述，何者有誤？ (A)梯田是在地很常見的農田型態 (B)農業走向高附加價值的精緻農業 (C)稻田轉作與飲食習慣轉變有關 (D)人口外流是因為當地拉力很強。
- () 22. 「國際貿易是日本的經濟命脈」最主要是在形容日本經濟發展的何項特徵？ (A)「日本製造」產品價格低廉且品質優良，在國際市場上極具競爭力 (B)日本的大城市多為港口發展而成，像是東京，位處阪神工業區 (C)日本主要工礦原料依賴進口，製成工業產品運銷全球 (D)日本企業赴海外投資，帶動他國就業機會增加。
- () 23. 西元 2020 年，南韓從 6 月 24 日起，就斷斷續續下了長達數十天的雨，這場遙不見停歇的降水，導致南韓境內各地淹水，多處地區發生大小規模的土石流，甚至光州機場內的跑道，也因浸在雨水中過久，疑似排水不利嚴重影響飛安，導致 10 多架航班被迫取消，且受災規模仍繼續擴大。文中所述，造成南韓降水量如此之多的主要因為何？ (A)鋒面滯留 (B)低氣壓來襲 (C)冬季氣溫低 (D)熱對流旺盛。
- () 24. 有關朝鮮半島上的兩個國家：南韓、北韓，歷史上曾經是同一個國家，但現今兩國的產業發展特色迥然不同，下列有關兩國產業發展特色比較，何者正確？ (A)北韓緯度較高，生長季較長，因此農業較不發達 (B)北方蓋馬高原地質古老，因此北韓礦產豐富 (C)南韓目前工業發展特色為民生工業為主，重工業為輔 (D)南韓因長期發展軍事核武，屢遭國際經濟制裁。



圖(六)

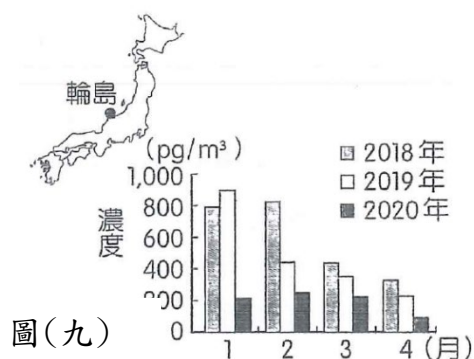


圖(七)

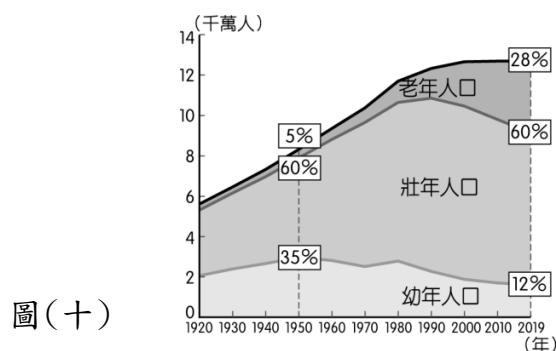


圖(八)

- () 25. 圖(六)是日本人的精神象徵：富士山，也是日本一百多座火山當中最最高的一座，獨特聳立的外型讓日本人創造出欣賞富士山的百種方式，例如：鑽石富士、逆富士和隧道富士等。請問：日本擁有這麼多的火山，與該地哪一項地理條件有關？(A)緯度較高 (B)板塊交界 (C)面積狹小 (D)四面環海。
- () 26. 圖(七)為日本氣象廳針對富士山一年中可以觀賞到某項美景的日數統計，根據圖中資料推估，該項活動應該是 (A)賞雪景 (B)賞楓葉 (C)賞櫻花 (D)賞鳥。
- () 27. 圖(八)是浩子介紹日本某地形特徵使用的圖表，請問：圖中判讀出來的訊息何者有誤？(A)日本地震頻繁，伴隨海嘯威脅 (B)日本平原狹小，人口分布不均 (C)日本境內河川短小流急，缺乏水電價值 (D)日本的島嶼眾多，相對破碎。



圖(九)



圖(十)



圖(十一)

- () 28. 多環芳香烴(PAHs)為一種空氣污染物，主要由石化燃料、木材、垃圾等有機物的不完全燃燒所產生。圖(九)為日本金澤大學輪島空氣監測站在2018-2020年相同月份測得的多環芳香烴濃度統計圖，圖中2020年的濃度變化，與中國在新冠肺炎疫情下，多數工廠停工，使盛行風帶來的污染源減少有關。請問：上文提到的盛行風向應該是 (A)↖ (B)↗ (C)↘ (D)↙。
- () 29. 圖(十)是日本人口結構變化趨勢，根據資料判斷，哪一樣產業會日趨重要？(A)動漫業 (B)太陽能光電 (C)旅遊業 (D)遠距看診。
- () 30. 位於日本白川鄉的「合掌屋」聚落為聯合國教科文組織認定的世界遺產，此建築的屋頂像是雙掌合攏，如此設計的目的是避免該地區冬季大量積雪壓壞房子。根據上述內容，這種建築形態應該位在哪個區域？(A)本州島西北 (B)琉球群島 (C)九州島 (D)四國島。



圖(十二)

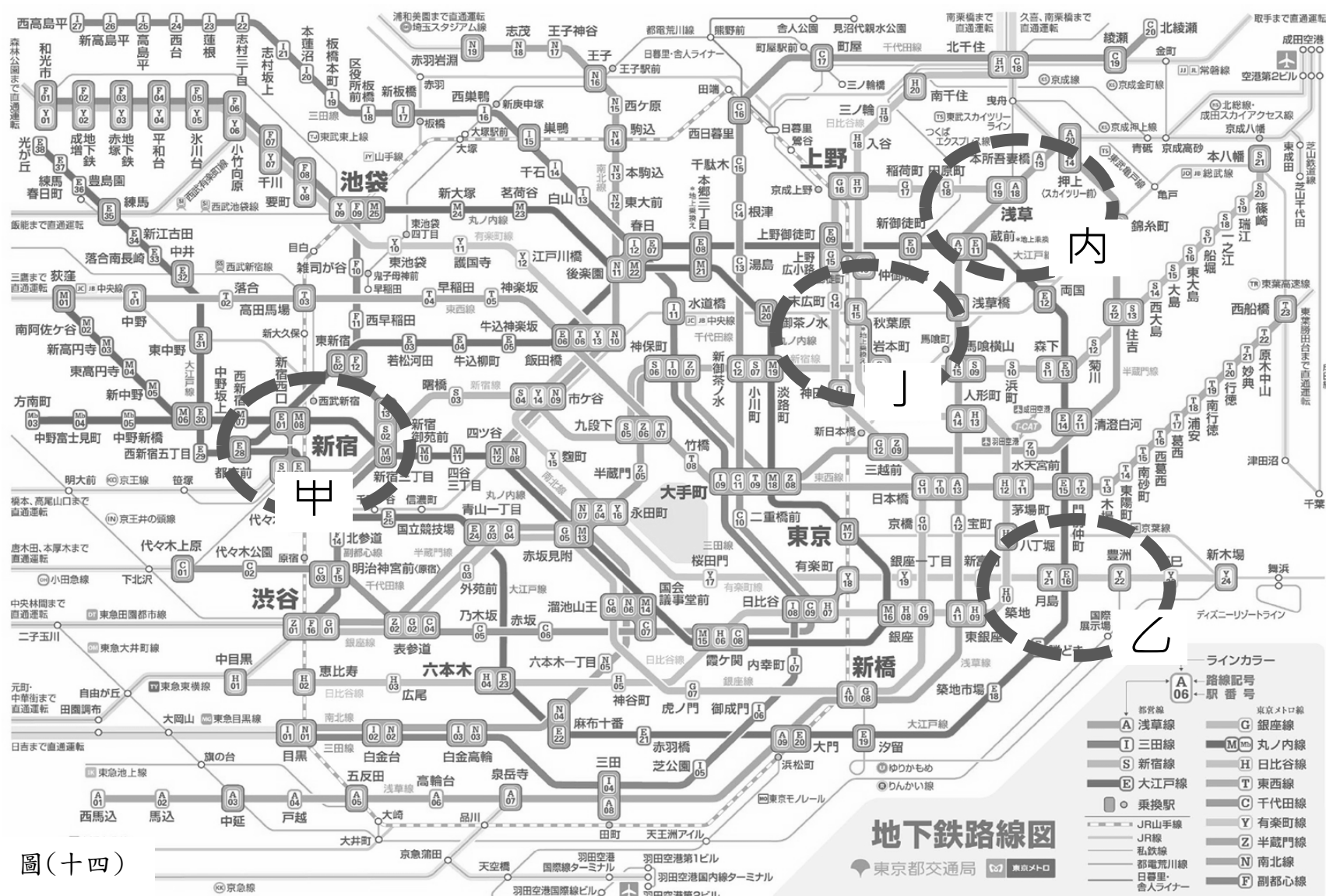


圖(十三)

★2016年4月，臺灣鴻海集團正式宣布入主日本企業夏普，這使得鴻海可整合面板事業，外界分析師認為，鴻海此舉利用日本企業的優點可以加強競爭力，並從代工生產跨入品牌銷售。請依敘述回答31-32題：

- () 31. 鴻海為世界著名的電子廠，大力投資入主日本企業夏普，可以獲得的生產條件最可能為下列何者？(A)礦產原料 (B)進步技術 (C)工廠土地 (D)廉價勞工。
- () 32. 夏普為日本百年企業、屬於該國八大電子產品工業公司之一，總部設立於大阪。若鴻海總裁要前往大阪視察，則應該到圖(十二)中何處？(A)甲 (B)乙 (C)丙 (D)丁。
- () 33. 圖(十三)為南韓工業區分布圖，由圖可看出半島的東部工業區分布明顯少於西、南部，其主要原因受限於東部哪一項地理因素？(A)地勢崎嶇 (B)政府政策 (C)氣候嚴寒 (D)缺乏礦產。

★圖(十四)為日本東京捷運路線圖，請依圖回答 34-35 題：



圖(十四)

- () 34. 小新到日本東京搭捷運自助旅行，規劃四個景點，其中聽聞漁業發達的日本在此地有個頗負盛名的築地市場，2018 年遷到豐洲市場，請問阿福第一站應搭車至下列何地？(A)甲 (B)乙 (C)丙 (D)丁。
- () 35. 小新接下來搭車至丁區，請問小新在此區可以看到什麼景象？(A)歷史超過百年的廟宇清水寺 (B)明治時期貿易的西洋式建築群 (C)四處冒煙的地獄谷景觀 (D)購買最新動漫及電動遊戲相關創意產品。
- () 36. 泡菜 kimchi 是朝鮮半島上的傳統發酵食品，韓國人餐桌上絕對不可缺少，也被美國雜誌選定世界五大健康食品之一。在韓國，甚至還有專門冰泡菜的「泡菜冰箱」，家庭持有率突破 80%，對泡菜的熱愛由此可見。請問：韓國製作泡菜的文化反應當地的何種環境特徵？(A)夏季潮濕炎熱，食物容易腐敗 (B)冬寒且時間長，新鮮蔬菜不足 (C)生長季較長，無法種植蔬菜 (D)梅雨季長，食材不易保存易發霉。
- ★「開城工業區是南、北韓為了交流而設立的工業區，位於距離首爾不到 70 公里的停戰線附近。對南韓來說產品可就近從仁川外銷；對北韓而言，開城工業區的設立則提供了人民許多就業機會。但受到疫情與政治現實因素影響，開城工業區自 2020 年起處於停擺狀態，尤其同年 6 月北韓炸毀 開城工業區的兩韓共同聯絡事務所後，雙方關係更是陷入僵局」。請根據上文回答 37-38 題：
- () 37. 南韓企業將原先在中國的生產線部分移至開城工業區，除了能就近從仁川外銷之外，可能也想利用北韓的何項條件？(A)廉價勞力 (B)豐富礦產 (C)便利交通 (D)廣大市場。
- () 38. 南韓企業若在開城工業區製造產品後，利用海運透過鄰近的仁川港外銷至中國。若由地理位置判斷，南韓企業宜優先考量就近與中國哪一地區合作？而產品運往該處會經過哪一個水域？
(A)上海周邊地區/日本海(東海) (B)香港周邊地區/南海
(C)北京周邊地區/黃海 (D)廈門周邊地區/太平洋。
- () 39. 南韓第 20 任總統於西元 2022 年 3 月進行投票，選舉過程中包括朝鮮問題、黯淡的就業機會、住房危機和日益擴大的代際分歧，一直是候選人之間攻防的焦點。兩位主要候選人李在明和尹錫悅都沒有豐富的政治政策經驗，但都認為住房負擔是南韓人最緊迫的問題之一，尤其是對年輕選民而言。兩大政黨選擇所謂的政治素人作為候選人，反映了選民對現有領導層的不滿。文中所反映的南韓經濟問題，與下列何者最為相關？(A)少子化問題嚴重，生產力出現斷層 (B)專制獨裁，民生物資缺乏 (C)過度扶植大型財團，忽略中小企業 (D)礦產資源缺乏，工業發展程度不佳。
- () 40. 「睡眠指數」是透過入睡時的溫度和起床時的氣溫做為評斷數據……請問：下列何地最可能是「必須整夜開暖氣」的地區？(A)九州福岡市 (B)四國高知市 (C)沖繩那霸市 (D)北海道札幌市。