

屏東縣立中正國民中學 112 學年度第一學期第三次段考七年級社會領域（歷史科）試卷

☆請將答案以 2B 鉛筆劃記於答案卡，否則不予計分

七年 ____ 班 座 號：____ 姓名：____

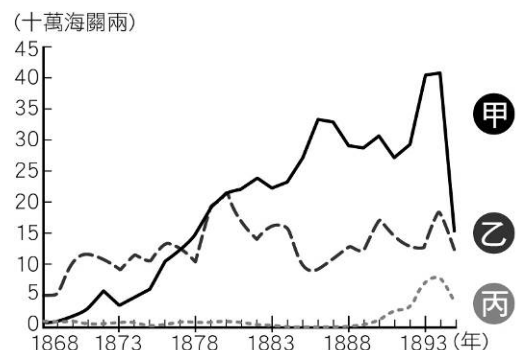
一、選擇題：(1~19題，每題4分)

★開港通商之後，臺灣社會增添不少西方色彩，傳教士來臺傳教，也積極設立醫院、創辦學校。

- () 1. 臺南新樓醫院成立已經一百多年，這家由「臺灣醫療宣教之父」所創立的西醫醫館，為臺灣帶來西方先進的醫療技術。上文中的「臺灣醫療宣教之父」是指下列何人？ (A)馬偕 (B)巴克禮 (C)甘為霖 (D)馬雅各。
- () 2. 某位傳教士秉持著「寧願燒盡，不願鏽壞」的信念，在臺灣北部免費拔牙、建教堂、創學校，讓西方的醫學知識與新式教育在臺灣奠下基礎。下列有關「此傳教士」的敘述，何者錯誤？ (A)此傳教士應為馬偕 (B)他是天主教長老教會派遣來臺的傳教士 (C)主要傳教地區在淡水 (D)他創立了牛津學堂開啟北臺灣近代教育先河。
- () 3. 清末西方傳教士來臺與哪一個歷史事件關係密切？ (A)牡丹社事件後日軍犯臺 (B)清法戰爭後臺灣建省 (C)英法聯軍後開港通商 (D)鄭氏降清後取消海禁政策。
- () 4. 在傳教士來臺宣教的同時，臺灣的對外貿易也逐漸發展，此時臺灣進口的貨品最大宗是下列何者？ (A)蔗糖 (B)鹿皮 (C)鴉片 (D)軍火。

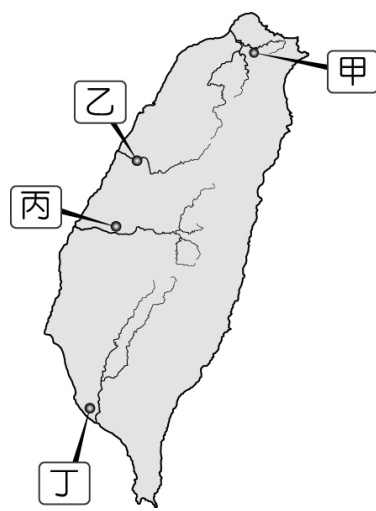
★右圖是「清帝國時期開港通商後臺灣三大商品出口總值比較圖」，請回答下列問題。

- () 5. 圖表中甲、乙、丙依序為何項商品？ (A)茶、樟腦、糖 (B)樟腦、茶、糖 (C)茶、糖、樟腦 (D)糖、茶、樟腦。
- () 6. 清帝國時期，經濟重心逐漸由南向北移動，與下列哪些主要由淡水出口的商品有關？ (A)甲乙 (B)乙丙 (C)甲丙 (D)甲乙丙。
- () 7. 產量曾居世界第一的是哪一個商品？ (A)鴉片 (B)樟腦 (C)茶葉 (D)蔗糖。
- () 8. 自荷蘭統治時期開始至清帝國統治後期，何項商品外銷史悠久，出口穩定？ (A)蔗糖 (B)樟腦 (C)茶葉 (D)鹿皮。



★18 世紀初葉以後，臺灣由於拓墾持續的擴張，灌溉水源需求甚殷，大規模的水圳相繼興築。

- () 9. 「二水國際跑水節」是彰化縣盛大的民俗文化慶典活動，主要是紀念當年興建清代規模最大的水圳，無私奉獻的施世榜與林先生。今年正值建縣300年，特力邀明華園改編製作《□□圳傳奇》的紀念大戲，以期飲水思源。文中□□圳應位為右圖中何處？ (A)甲 (B)乙 (C)丙 (D)丁。
- () 10. 清帝國時期某重要水圳，是來臺漢人與原住民合作，採取割地換水的模式興建，興建者張達京娶了多位平埔族頭目女兒為妻，雙方合作順利完成水圳的興建。上文中的水利灌溉工程應是下列何者？ (A)八堡圳 (B)曹公圳 (C)瑠公圳 (D)貓霧揀圳。
- () 11. 有關清帝國時期，臺灣水利設施的敘述，何者有誤？ (A)當時的水利設施以漢人合資完成者居多 (B)清代並無官方主導興建的水利工程 (C)隨著漢人移墾，水利設施大多分布於台灣西半部 (D)水圳使水田灌溉面積增加，產量大增且能外銷中國大陸。



★漢人移民來臺時，為祈求一路平安，常帶著家鄉信奉的神明。移民在經濟稍微寬裕後，感念神明庇佑，建廟奉祀。它們不僅是人們重要的心靈寄託，也是地方、村落的聚會中心。

- () 12. 以下哪一廟宇是移民的原鄉信仰？ (A)大甲鎮瀾宮媽祖廟 (B)臺北碧山巖開漳聖王廟 (C)屏東車城福安土地公廟 (D)東港東隆宮溫府王爺廟。
- () 13. 小派是清領後期住在臺灣府城的泉州籍商人，在臺灣與泉州往返做生意。下列有關小派生活情形的敘述，何者正確？ (A)小派應該加入「廈郊」方便做生意 (B)小派供奉的原鄉神明是清水祖師 (C)小派也祭祀屬於共同信仰的三山國王 (D)小派從淡水搭船到泉州做生意較方便。

★清帝國時期，臺灣有「三年一小反，五年一大亂」的俗諺。民變與械鬥頻繁，臺灣社會長期處於動盪不安的局面。

- () 14. 清帝國早期分類械鬥的原因不包括下列何者？ (A)性別 (B)姓氏 (C)職業 (D)祖籍。。
- () 15. 隘門是械鬥時防禦的重要設施。隘門的興建，反映了當時的現象，與下列哪一句臺灣諺語所描述的情況類似？
(A)有唐山公、無唐山媽 (B)唐山過臺灣，心肝結歸丸 (C)六死三留一回頭 (D)仙拚仙，拚死猴齊天。
- () 16. 清帝國時期的分類械鬥，以閩、粵械鬥和漳、泉械鬥為多，可知清帝國早期的移民多來自下列哪兩省？ (A)廣東、廣西 (B)廣西、福建 (C)福建、山東 (D)廣東、福建。
- () 17. 清雍正年間，平埔族因不堪官府指派沉重勞役，憤而聯合中部地區平埔族各社反抗，爆發清代臺灣規模最大的原住民抗官事件。該事件為下列何者？ (A)大甲西社事件 (B)大肚王事件 (C)麻豆社事件 (D)朱一貴事件。

★**教育**是百年大計，一國國民的素質攸關國家的興盛與否。回首臺灣的教育，從傳統準備科舉考試的官學、私學、書院等，到列強叩關，西風東漸，引進現代學校制度，使臺灣文教逐步走向現代化。

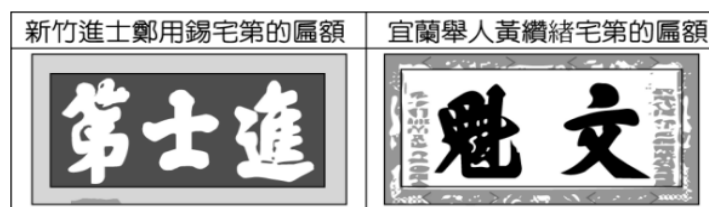
- () 18. 阿爆是清代臺灣的原住民青年，如果他想要進入專門為原住民設置的學校就讀，他應該進入哪一個機構就讀？ (A)書院 (B)儒學 (C)府學 (D)社學。
- () 19. 臺灣彰化鹿港的「文開書院」是中部最早的教育機構之一，是為了紀念鄭氏時期某位來臺文人的貢獻，此人在民間講學，為臺灣文學與教育發展奠下重要基礎。此位來臺文人應是何人？(A)施琅 (B)郭懷一 (C)沈有容 (D)沈光文。

二、觀念整合題：(20~25 題，每題 4 分)

- () 20. 臺灣清帝國統治時期，許多人事物皆依其歷史背景與重要性，而賦予其特殊的別稱，以下配對何者有誤？
《甲》「開蘭第一人」→ 吳沙。《乙》「開臺進士」→ 鄭成功。《丙》「臺灣口腔外科的先驅」→ 馬雅各。《丁》「黑水溝」→ 臺灣海峽。《戊》「臺灣茶葉之父」→ 李春生。(A)甲乙 (B)乙丙 (C)丙丁 (D)丁戊。
- () 21. 彰化鹿港五福街(今日的中山路)又稱為「不見天街」，曾是清代臺灣最長的商店街，範圍長達一公里餘，因街道上方以木架構成屋頂，購物不受天候的干擾而得名。上述鹿港興盛的商業活動，與下列哪個背景最為相關？ (A)對渡中國的指定港口郊商眾多 (B)鹿製品的重要產地 (C)國際通商港口洋行聚集 (D)縣治官衙的所在地。
- () 22. 早期來臺漢人宗族組織可分為「**唐山祖**」和「**開臺祖**」兩種類型。下表的相關比較，何者有誤？

項目	(A) 祭拜者姓氏	(B) 祭拜者關係	(C) 祭祀對象	(D) 祭祀目的
唐山祖	不同姓者組成	未必有血緣關係	中國原鄉祖先	凝聚族群力量
開臺祖	同姓者組成	有血緣關係	來臺第一代祖先	凝聚族群力量

- () 23. 老師在說明清帝國統治時期社會的文教發展時，展示了一幅〈番社采風圖〉，圖中有一群小孩正在念書。下列哪一位同學發表的內容，較符合當時的臺灣社會？
(A)淨漢：「畫中是一群平埔族小孩在向漢人老師學習漢文。」
(B)勝寬：「畫中是一群原住民小孩在向漢人老師學習新港文。」
(C)圓佑：「清代社會充滿械鬥和民變，不可能發展文教，這幅圖與事實不符。」
(D)珉奎：「這幅圖顯示，教育機構隨著漢人移民來到臺灣，初期文教就很發達」
- () 24. 右圖分別是保存在新竹和宜蘭的歷史文物，根據圖片內容判斷，這些文物與下列何者關係最密切？



- (A) 荷蘭聯合東印度公司的文教政策
(B) 鄭氏政權對於儒學的推廣
(C) 清代人才選拔科舉制度的施行
(D) 臺灣總督府所實施的教育制度
- () 25. 小賈是清帝國統治臺灣初期，來臺開墾的潮州移民。當時閩粵衝突不斷，篤信原鄉信仰的他，想在過年前祭拜神明，又想避免與閩南人接觸。請問：根據右圖的廟宇分布與當時漢人移民的信仰習慣，他應該考慮走下列哪一條祭祀路線，最可能符合他的需求？
(A)甲→乙→戊→丙→甲 (B)甲→庚→己→丙→甲
(C)甲→乙→丁→庚→甲 (D)甲→丙→丁→乙→甲

