

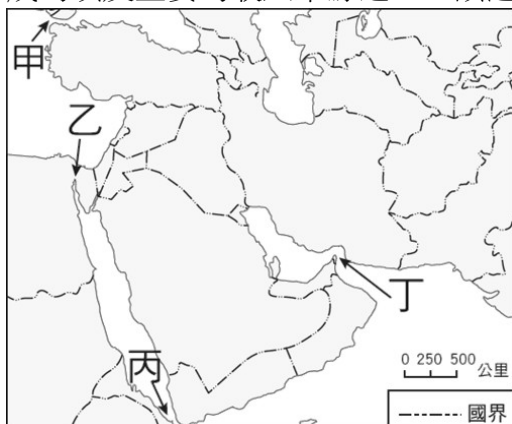
一、單一選擇題(第 1~30 題每題 3 分，第 31-35 題每題 2 分)

- 1.()圖(一)為沙烏地阿拉伯的國徽，其由兩個圖案構成：上方為西亞乾燥地區最常見的樹，代表農業和綠洲；下方兩柄交叉的彎刀代表對伊斯蘭信仰的捍衛。請問：其國徽上方的樹種最可能為下列何者？ (A)橄欖樹 (B)棕櫚樹 (C)棗椰樹 (D)椰子樹。



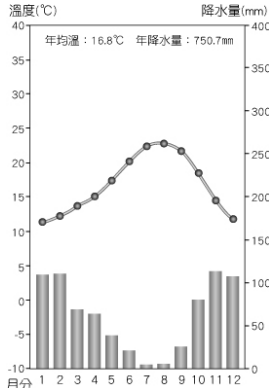
圖一

- 2.()圖(二)為西亞簡圖，圖中甲~丁為重要的海運咽喉要道。請問：蘇伊士運河為重要的航運通道，其徵收的船隻過境費成為埃及主要的收入來源之一。該運河的位置在？ (A)甲 (B)乙 (C)丙 (D)丁。



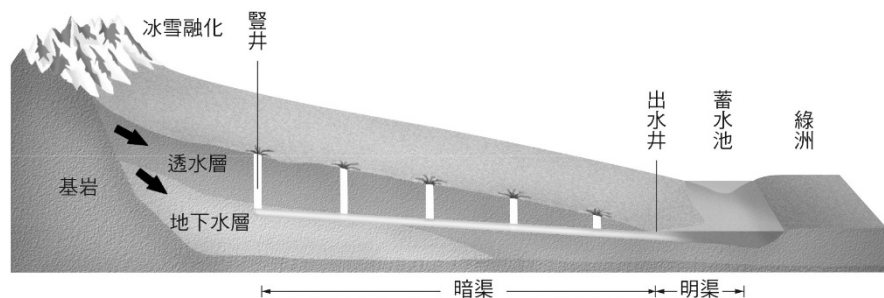
圖二

- 3.()圖(三)為西亞某地區的氣候圖。請問：該地區最可能位於何處？ (A)紅海和波斯灣沿岸 (B)波斯灣和黑海沿岸 (C)地中海和阿拉伯海沿岸 (D)黑海和地中海沿岸。



圖三


- 4.()承上題，請問：此氣候的降雨分布為？ (A)夏乾冬雨 (B)全年少雨 (C)全年有雨 (D)夏雨冬乾。
- 5.()美索不達米亞平原又稱兩河流域，是西亞地區的精華地帶。請問：造成此地是西亞地區的精華地帶的主要原因為何？ (A)氣候溫和宜人 (B)位居中央交通便利 (C)水源豐富可發展綠洲農業 (D)地底蘊藏豐富石油。
- 6.()西元 2020 年，圖坦卡門法老王的黃金寶藏特展在埃及政府准許下於臺灣展出，展場海報說明了埃及迷人的神話與信仰。海報中有一標題寫著：「埃及古文明的孕育受到□□□影響最大」，上述空格中的文字應為下列何者？ (A)地中海 (B)約旦河 (C)尼羅河 (D)印度洋。
- 7.()自西亞至北非廣大的陸地範圍幾乎為熱帶沙漠氣候，其形成原因為下列何者？ (A)深居內陸，缺乏水氣調節 (B)副熱帶高壓長年籠罩此區 (C)夏季西南季風受高山阻擋 (D)高原地形阻擋印度洋水氣。
- 8.()伊斯蘭文化的形成與西亞發達的商業活動息息相關，而商業發達的背後則是受到該區地理位置優越所影響。請問下列何者最符合西亞地理位置的敘述？ (A)為中國通往歐洲的唯一路徑 (B)居太平洋和大西洋之間的交通要道 (C)居歐亞非三洲往來的交通要道 (D)為地中海沿岸最大的平原分布地區。
- 9.()圖(四)是一種乾燥地區的特殊灌溉方式，居民挖掘豎井和暗渠，將珍貴的雪水資源從高山地區導引至山麓地帶的蓄水池，以進行農業活動。「根據歷史記載，中國新疆吐魯番的坎井有兩千多年的歷史，有部分學者認為此項灌溉技術通過絲綢之路傳至西亞地區，也有一些學者認為，坎井是 2500 年前的波斯人發明的，然後透過絲綢之路傳到新疆。」上文是針對坎井灌溉方式的討論，請問此灌溉設施最可能出現於下列何處？ (A)伊朗高原 (B)尼羅河下游 (C)美索不達米亞平原 (D)阿拉伯高原。



圖四

- 10.() 「西亞貝都因人於西元前二千多年開始飼養駱駝。他們住在羊毛編成的黑色帳篷裡。篷布編的很鬆，夏天可以散熱；下雨時毛線收縮，便不會漏水。帳篷中間有塊裝飾亮麗的隔簾，分開男性和女性的起居間。婦女區因為要儲放食物和廚具，比較大；除了帳篷主人外，其他的男人不能進入。」文中貝都因人主要維生活動為下列何者？ (A)採集 (B)游牧 (C)漁獵 (D)灌溉農業。
- 11.() 小智在四月時前往阿拉伯地區旅遊，發現當時恰好是伊斯蘭曆中的第九個月，當地居民在白天都不進食，待太陽落下後才開始進食。請問：上述小智到阿拉伯期間的見聞，應該為伊斯蘭教義中「五功」的哪一項？ (A)念 (B)禮 (C)齋 (D)課。
- 12.() 圖(五)是聞名全球的杜拜帆船飯店，為名流人士到西亞度假的首選。從此飯店向外望去可看見下列哪個海域？ (A)紅海 (B)地中海 (C)波斯灣 (D)愛琴海。

圖五

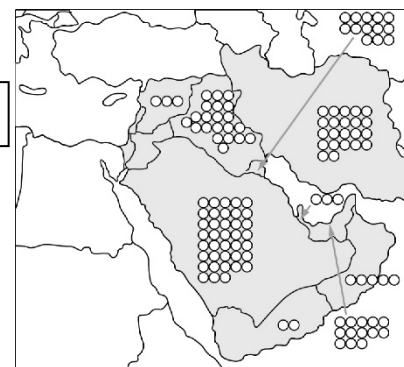


- 13.() 西亞的杜拜正積極發展觀光業活動，著名的帆船飯店吸引了全球消費者的目光。請問：該地區發展觀光業最主要的目的為何？ (A)拓展國際外交 (B)發揚伊斯蘭教 (C)增加就業機會 (D)多元經濟發展。
- 14.() 撒哈拉沙漠以北的非洲地區，人種膚色較淺，早期與地中海地區的希臘、羅馬文明互動頻繁，後來受到西亞地區阿拉伯人的影響，現多以哪個文化為主？ (A)伊斯蘭教 (B)天主教 (C)基督教 (D)猶太教。
- 15.() 承上題，此區的宗教信徒，其日常生活所依循的是下列哪一部經典？ (A)佛經 (B)聖經 (C)古蘭經 (D)吠陀經。
- 16.() 「伊斯蘭」原意是和平及順從，信奉伊斯蘭教的教徒稱為「穆斯林」，至今，穆斯林人數已將近 19 億，故伊斯蘭教成為世界第二大宗教。全球的伊斯蘭教主要分布地區，不包括下列何者？ (A)中南半島 (B)部分南亞 (C)中亞 (D)南洋群島。
- 17.() 下列何者不屬於「伊斯蘭文化」的特色？ (A)每天禮拜以前，必須穿著乾淨衣物，並將臉、手、足洗淨 (B)飲食上禁食豬肉與飲酒 (C)念功指呼喚真主阿拉之名的真言 (D) 朝功指一生必須到聖地耶路撒冷朝聖一次。
- 18.() 以色列與其鄰近的阿拉伯國家，長期發生紛爭的因素為何？ (A)政治體制不同 (B)石油問題 (C)宗教信仰 (D)搶奪兩河流域水權。
- 19.() 國與國之間常常為邊界國土主權歸屬爆發衝突，例如今年中國與印度邊界之爭，就曾經鬧出雙方軍隊互擲石頭的國際笑話。最近西亞北部歐亞洲界附近，兩個山地小國亞美尼亞和亞塞拜然為了邊界領土主權發動軍事攻擊。請問上述的兩個西亞小國位於哪一座山脈？ (A)阿爾卑斯山 (B)烏拉爾山 (C)喜馬拉雅山 (D)高加索山
- 20.() 2011 年敘利亞受到「阿拉伯之春」的民主運動影響，境內出現反政府示威活動，而後在外國勢力介入下，演變成武裝衝突，並蔓延至全國，造成當地民眾陷於戰火之中。該國的戰亂除了上述成因外，尚包括反對者所屬哪一個教派和執政者所屬的什葉派呈現對立，因此衝突不斷？ (A)印度教派 (B)基督教派 (C)猶太教派 (D)遜尼派。
- 21.() 下列哪一個國家居民多為信奉基督教、傳統宗教的黑人，與北部信仰伊斯蘭教的阿拉伯人衝突不斷，2012 年通過公投正式獨立，成立自己的國家？ (A)南蘇丹 (B)敘利亞 (C)埃及 (D)衣索比亞。
- 22.() 庫德族人為西亞的游牧民族，總人口數超過 2000 萬人，主要分布在土耳其、敘利亞、伊拉克、伊朗四國境內，並有少數分布在亞塞拜然和亞美尼亞等地，為中東地區的第四大民族。然而該族群卻主要因為下列何者因素影響，導致和周邊鄰國的關係相當緊張，甚至出現零星的戰事？ (A)開採石油 (B)領土問題 (C)教派對立 (D)爭奪水源。
- 23.() 西亞與北非多數國家石油產量均相當高，因此於一九六〇年代組成哪一個組織，企圖掌握石油利益的主導權？ (A)NAFTA (B)ASEAN (C)EU (D)OPEC。

- 24.() 圖(六)為西亞地區石油資源的分布圖，圖上符號○的個數代表其數量的多寡。由此判斷，哪一個國家的石油蘊藏量最多？

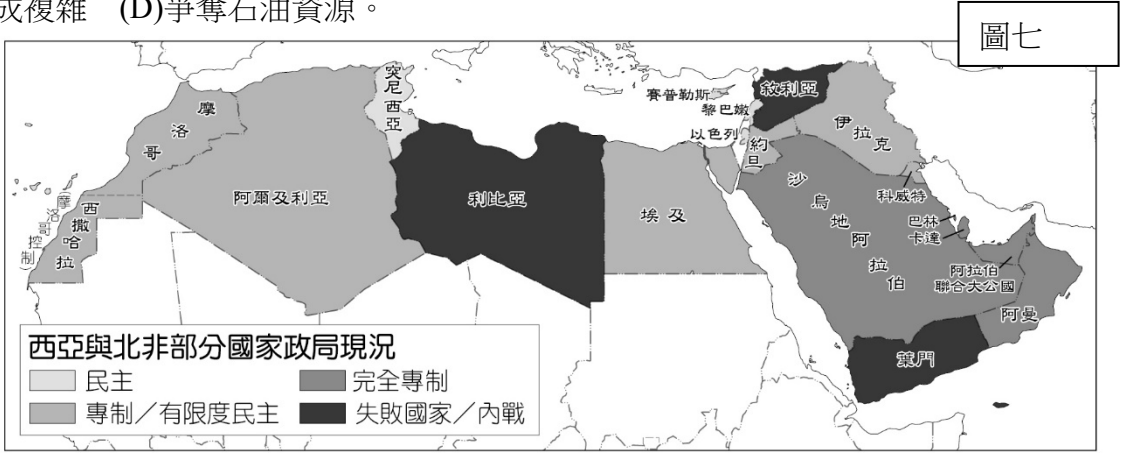
- (A)沙烏地阿拉伯
(B)伊拉克
(C)伊朗
(D)阿拉伯聯合大公國。

圖六



- 25.() 「該地為猶太教、基督教與伊斯蘭教三大宗教的聖地，以色列和巴勒斯坦都聲稱該地是他們的首都，因為以色列堅稱這裡是他們的信仰和千年之久的政府機構所在地，而巴勒斯坦則稱這座城市是他們的政權所在地。」該地是下列何者？ (A)麥加 (B)耶路撒冷 (C)利雅德 (D)麥地那。
- 26.() 西亞的沙烏地阿拉伯、科威特等國的經濟結構，由原來傳統農牧經濟，逐漸趨向工商業的開發，其轉變主要為下列何者提供了工業發展的資金？ (A)運河的興建 (B)石油的開發 (C)國土的西移 (D)煤鐵的開採。
- 27.() 以色列與巴勒斯坦間因民族問題而有長期的紛爭。巴勒斯坦的居民多屬於下列哪一個民族？ (A)波斯人 (B)阿拉伯人 (C)猶太人 (D)印度人。

28.()圖(七)為西亞與北非部分國家政局現況。「阿拉伯之春」是指從西元 2010 年年底，在西亞與北非發生一系列以『民主』和『經濟』為議題的社會運動，這些運動多採取公開示威遊行和網路串連的方式，其影響之深、範圍之廣，吸引了全世界的高度關注。這場運動以北非國家突尼西亞的政權被民眾抗議推翻為肇始，長期執政數十年之久的政權接二連三的倒臺。」依據上文敘述，下列何者跟阿拉伯之春關係最大？ (A)推翻獨裁政府 (B)搶奪灌溉資源 (C)民族組成複雜 (D)爭奪石油資源。



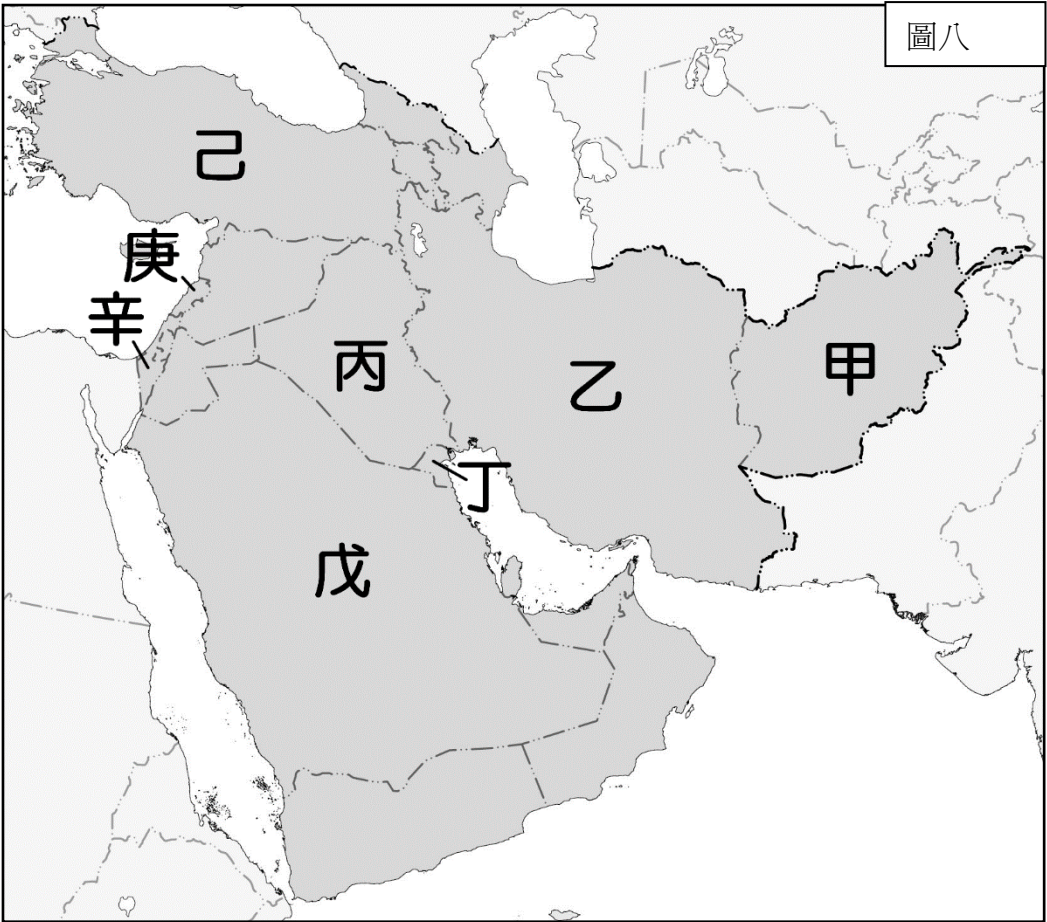
29.()亞太地區消耗全球三分之一的石油生產量，本身的產量卻只有全球的十分之一，未來需求增長絕大部分會來自「這個地區」，日本、韓國、菲律賓、新加坡、臺灣等國的石油進口量有超過四分之三就是來自此處。請問：文中所述此一重要地區應是指何處？ (A)地中海 (B)波斯灣 (C)阿拉伯海 (D)黑海。

30.()沙烏地阿拉伯由於開採石油及國家建設的需要，須引進許多移工。下列哪個國家的國際移工來到該國境內，在宗教文化與生活習慣上最能立即適應？ (A)泰國 (B)埃及 (C)希臘 (D)印度。

二、題組(第 31~35 題 2 分題)

★第 31~35 題為題組

圖(八)為西亞國家分布圖。請根據此圖，回答下列問題。



31.()一九九〇年代的波斯灣戰爭曾造成全球的石油危機，其原因是當時伊拉克的海珊總統為了掠奪石油而入侵鄰國科威特。上述中的伊拉克與科威特，分別位於圖(八)中的何處？ (A)甲、乙 (B)乙、丙 (C)丙、丁 (D)丙、戊。

32.()西元 2016 年 4 月，這個內陸國家發生規模 6.6 的地震，地震之大甚至影響鄰國的巴基斯坦和印度建築產生劇烈搖晃。此內陸國家應為何者？ (A)甲 (B)乙 (C)丙 (D)丁。

33.()這個國家領土跨歐亞，稱為「歐亞陸橋」。其最有可能在描述哪一個國家？ (A)乙 (B)丙 (C)戊 (D)己。

34.()以色列大約 70%城市廢水，都回收淨化成農業用水。他們在植物樹根處，放上水管有小洞的滴灌設備，一點一滴、一絲不漏地給予植物生長所需的水。請問以色列位於圖(八)中的何處？ (A)丙 (B)戊 (C)庚 (D)辛。

35.()西亞因為油井探鑽技術進步，便運用在鑿井取水灌溉以發展農業。請問：這種利用方式分布於圖(八)中何處？ (A)甲 (B)乙 (C)丙 (D)戊。