

選擇題（1-30 題，每題 3 分，共 90 分； 31-35 題，每題 2 分，共 10 分）

※附圖為非洲示意圖，ㄅ為非洲重要的南北地理分界，造成甲與乙的人文現象差異很大。請回答 1-2 題：



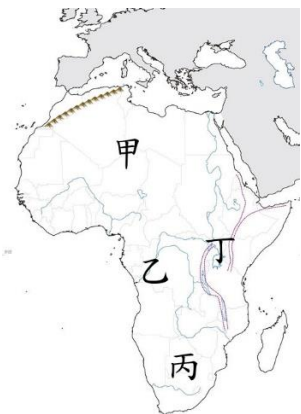
1. (    ) 請問：ㄅ最有可能是下列哪一個地形區？(A)東非大裂谷 (B)撒哈拉盆地 (C)剛果盆地 (D)喀拉哈里盆地。
2. (    ) 關於甲、乙人文現象的差異，下列何者錯誤？

	(A)位置	(B)族群	(C)宗教	(D)自然環境
甲區	漠北非洲	阿拉伯人為主	多基督宗教	多熱帶沙漠氣候
乙區	漠南非洲	黑人為主	多伊斯蘭教	氣候類型較多

※漠南非洲蘊藏豐富的鐵、石油、鑽石、黃金等礦產資源。例如：南非的黃金、鑽石產量名列世界前茅；奈及利亞、安哥拉等地盛產石油。礦產外銷是漠南非洲重要的經濟來源。請回答 3-4 題：

3. (    ) 漠南非洲能蘊藏豐富資源與下列何者最相關？  
(A)屬於古老陸塊 (B)位居板塊交界帶上 (C)赤道橫貫非洲中間 (D)地勢落差較大。
4. (    ) 礦產外銷是漠南非洲重要的經濟來源，請問：這對漠南非洲經濟所產生的問題，下列敘述何者錯誤？  
(A)過度依賴第一級產業出口，經濟基礎不佳 (B)容易受到國際市場價格波動的影響，風險較高  
(C)吸引全球投資者的目光，大量資金的投入 (D)礦產資源有被挖完的時候，產業必須轉型。

※下圖為非洲四大盆地的示意圖。請回答 5-6 題：



5. (    ) 『吉力馬札羅山是非洲最高峰，「吉力馬札羅」在當地原住民族語言有「白山」、「水山」或「閃亮」之意。』請問：「吉力馬札羅山」位於附圖中的哪裡？(A)甲(B)乙(C)丙(D)丁。
6. (    ) 『布希曼人／生活在喀拉哈里沙漠，以打獵與採集維生，經常隨季節遷徙居住地。』請問：布希曼人分布於哪裡？  
(A)甲(B)乙(C)丙(D)丁。

※這種耕作方式需要極大的土地供少數農民使用。

甲. 清除：先砍伐地面的樹木、雜草。

乙. 放火焚燒：堆積樹枝燃燒，「火」在清理耕地時扮演重要的角色。

丙. 翻土、播種：用簡單的農具挖土作穴，將粟、甘藷、山芋、樹薯等種苗埋入土中。

丁. 遷移：更換田地最主要的目的，即在恢復地力，因為在熱帶雨林區內，無大型牲畜可提供有機肥料，而化學肥料對當地農人而言又太貴。同時，在缺乏清除雜草的工作下，2、3 年之後，田已被雜草侵占，另開墾一地，比清除雜草來得容易。

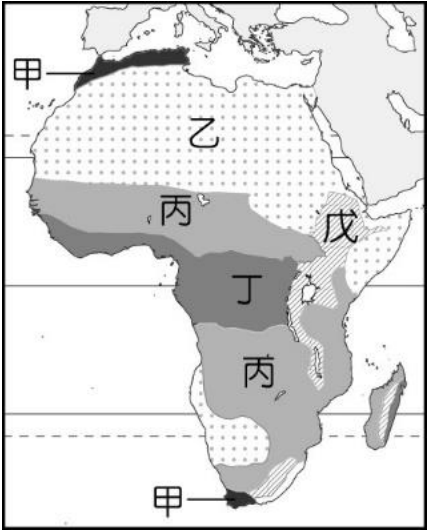
請回答 7-9 題：

7. (    ) 人類的這個行為稱為？(A)採集 (B)游牧 (C)游耕(D)精耕細作。
8. (    ) 這種經營土地的方式適合在哪一個環境之下發展？(A)高溫多雨 (B)高溫乾燥 (C)低溫乾燥 (D)低溫濕潤。

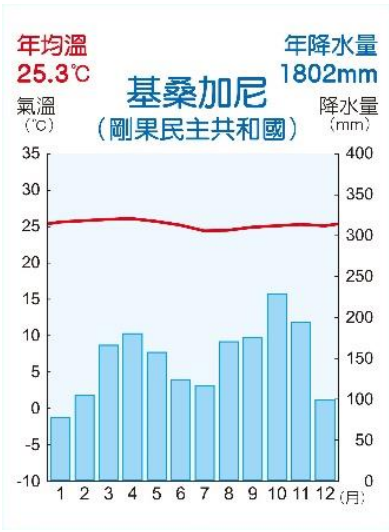
※背面尚有試題※

9. ( ) 從文中判斷下列敘述何者錯誤？(A)土地生產力低 (B)少施肥 (C)少鋤草 (D)使用牲畜協助工作。

※下圖(一)為非洲氣候分布簡圖，甲—戊分別代表不同氣候類型。請回答 10-13 題：

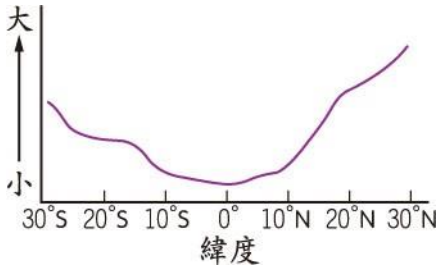


(圖一)



(圖二)

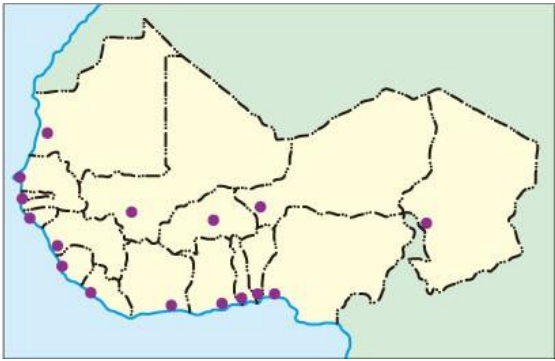
10. ( ) 哪一個氣候區的特色為夏乾冬雨？(A)甲 (B)乙 (C)丙 (D)丁。
11. ( ) 『草原動物的棲息地，具有發展生態旅遊的潛力』這種氣候位於？(A)乙 (B)丙 (C)丁 (D)戊。
12. ( ) 上(圖二)為非洲某地的氣候圖，請問：這個地點最可能位於(圖一)的哪一種氣候範圍？(A)甲 (B)乙 (C)丙 (D)丁。
13. ( ) 史學家曾說：『埃及是尼羅河的贈禮』。請問：埃及位於(圖一)的哪一種氣候範圍？(A)甲 (B)乙 (C)丙 (D)丁。
14. ( ) 由於赤道橫貫非洲中部，故非洲的氣候大致呈現南北對稱的特性，附圖即為非洲某氣候要素統計數值隨緯度變化的情形，圖中縱軸應代表下列何者？ (A)年降水量 (B)年溫差 (C)一月月均溫 (D)年降水日數。



15. ( ) 非洲的昏睡症是由瘧疾傳播的一種疾病，下(圖三)是瘧疾的影響範圍，下列何者大部分地區位於此範圍內？  
(A)剛果盆地 (B)撒哈拉盆地 (C)喀拉哈里盆地 (D)尼羅河三角洲。



(圖三)



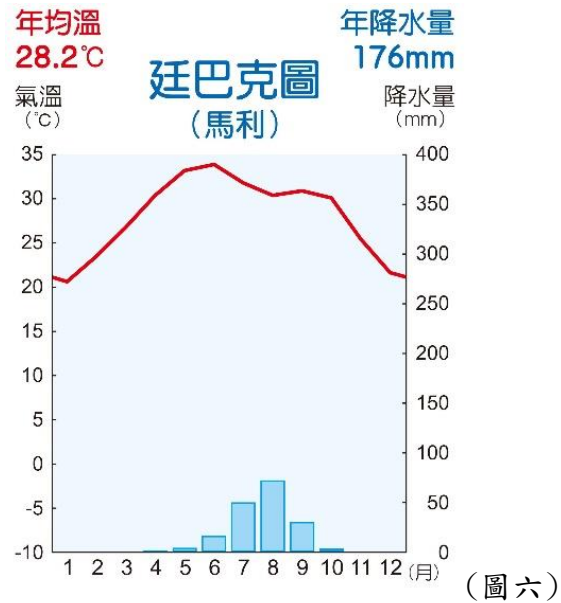
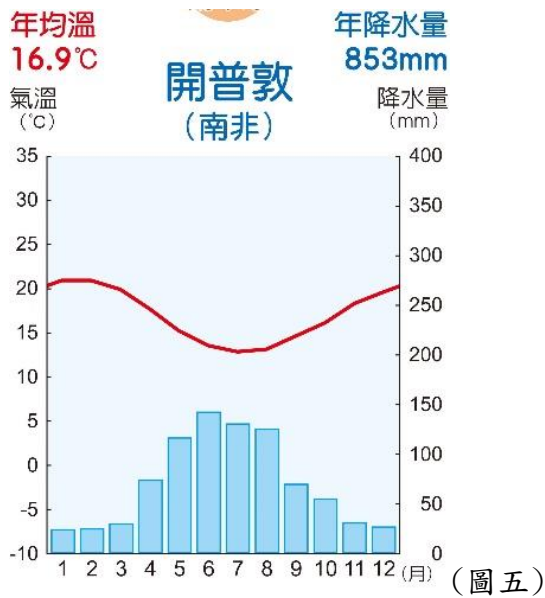
(圖四)

16. ( ) 上(圖四)是西非各國最大都市的分布情形，該分布特色與殖民時期為輸出當地礦產和熱帶栽培業農產品有關。下列哪一地區多數國家的最大都市，其發展熱帶栽培業的特色與西非最為類似？  
(A)紐西蘭 (B)西亞 (C)東北亞 (D)東南亞。
17. ( ) 漠南非洲的國家動盪不安，下列哪一個不是當地常發生戰爭的原因？  
(A)撒哈拉沙漠阻隔 (B)單一族群分布多個國家  
(C)列強以經緯線畫分勢力範圍 (D)資源豐富，互相爭奪利益。
18. ( ) 此區位於非洲的板塊張裂帶上，板塊因往兩側移動，中間陷落而形成地塹，兩側多火山、地塹上多湖泊。關於此區自然環境的特色，下列敘述何者正確？

(A)	位於低緯度，但因地勢高而終年涼爽。
(B)	當地植被為高低成層、樹冠茂密的樹林
(C)	氣候炎熱，夏雨冬乾，乾、溼季節明顯，
(D)	受副熱帶高氣壓籠罩的影響，全年乾燥少雨

19. ( ) 下圖(五)為非洲某地的氣候圖，請問：依照當地氣候環境判斷，下列敘述何者正確？

(A)	7 月因高壓籠罩而形成乾季
(B)	1 月因高壓籠罩而形成乾季
(C)	7 月因西風影響而形成乾季
(D)	1 月因西風影響而形成雨季



20. ( ) 上(圖六)為非洲某地的氣候圖，下列敘述何者錯誤？

(A)	此地位於 <u>非洲</u> 南部
(B)	副熱帶高壓終年籠罩
(C)	熱帶沙漠氣候，日溫差大
(D)	此地位於 <u>撒哈拉沙漠</u> 附近

21. ( ) 下(圖七)為非洲某地的氣候圖，下列敘述何者正確？

(A)	此區全年涼爽，屬於高地氣候
(B)	此區夏雨冬乾，屬於熱帶莽原氣候
(C)	此區夏乾冬雨，屬於溫帶地中海型氣候
(D)	無法根據圖中資訊來判斷該地氣候



22. ( ) 「非洲工業最發達的國家，素以礦產著名：諸如金礦、鑽石礦及白金礦等。但在1990 年代之前，卻因實施種族隔離政策受到國際社會的譴責，甚至遭受經濟制裁。」請問：文中所述是指下列哪一國家？  
(A)南非 (B)肯亞 (C)剛果 (D)埃及。

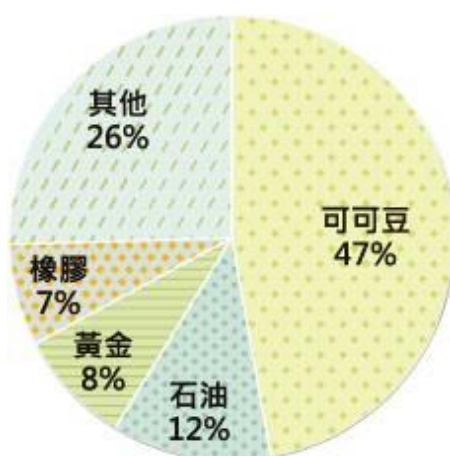
23. ( ) 下列何者並非非洲傳統黑人部落的維生方式？(A)漁獵 (B)採礦 (C)游耕 (D)採集。

24. ( ) 下列何者不是漠南非洲在發展時所面臨的困境？(A)缺水、缺電 (B)缺乏完善的交通建設 (C)缺糧食 (D)缺人力。



※三角貿易主要指 17~18 世紀的歐美商人以廉價工業品運到非洲換取奴隸，然後把黑奴運到美洲販賣，再從美洲購回生產原料，製成商品後運到非洲換取奴隸的循環貿易活動。因為航線大致在歐洲的西部、非洲的幾內亞灣附近、美洲的西印度群島之間 循環，構成三角形狀，故稱「三角貿易」。請回答 26-27 問題：

25. ( ) 文中的三角貿易不包括下列哪一個洲？(A)大洋洲 (B)歐洲 (C)美洲 (D)非洲。
26. ( ) 文中的三角貿易圍繞在哪一大洋的周圍？(A)太平洋 (B)大西洋(C)北極海 (D)印度洋。
27. ( ) 根據聯合國、世界銀行的統計，2020 年臺灣的平均壽命為 81.3 歲，且老年人口的比例達 16%。相較之下，部分漠南非洲國家的平均壽命較臺灣少了 20 年，且老年人口僅有 3%。請問：下列哪一個不是漠南非洲的平均壽命較短的原因？(A)衛生條件較差 (B)醫療不發達 (C)教育不普及 (D)傳染病散播快速。
28. ( ) 『熱帶栽培業（簡稱：熱栽業）—多分布於早期被歐洲國家殖民的熱帶國家，主要作物為咖啡、可可、油棕、橡膠、甘蔗等。此類農業須具備充足且低廉的勞工、完善的企業制度、方便的運輸系統等要件。通常大規模栽培單一作物，且作物會在產地做初步加工，以提高附加價值並減少運費。』下列哪一項內容無法從文章內容判斷？  
(A)熱栽業常有殖民背景 (B)熱栽業通常風險較高 (C)熱栽業需有充足的人力 (D)熱栽業需配合方便的交通系統。
29. ( ) 『中國大規模投資非洲，令多個非洲國家愈來愈依賴中國資金，導致背負重大債款，進而要向中國作出更大妥協，甚至演變成另類的「殖民」。例如：肯亞對中國 債務規模已突破本國 GDP 的 10%；幾內亞的鋁土是重要的出口品項，鋁土掌握住了幾內亞的經濟命脈，但鋁土礦被中國要求作為還債條件。』上面文章點出非洲的哪一項困境？  
(A)國外的資金投入，帶動漠南非洲經濟發展，舒緩了長期存在的飢餓、貧窮等現象。  
(B)漠南非洲得以和全球科技發展接軌，呈現「跳躍式」的發展  
(C)漠南非洲的國家發展受到控制  
(D)漠南非洲的醫療衛生得以改善
30. ( ) 漠南非洲的農牧業活動受自然環境影響，各地的活動型態皆不相同。下列有關兩者的配對中，何者正確？  
(A)熱帶雨林氣候—酪農業  
(B)熱帶莽原氣候—地中海型農業  
(C)熱帶沙漠氣候—綠洲農業  
(D)溫帶地中海型氣候—熱帶栽培業
31. ( ) 漠南非洲國家仍延續殖民時期的經濟型態，以礦產與熱帶栽培作物為主要輸出品，此種經營方式容易面臨下列哪項經濟問題？  
(A)糧食生產供給過剩 (B)國內勞工供應短缺  
(C)易受國際市場價格影響 (D)國內動亂使資金不敢投入
32. ( ) 漠南非洲面積廣大、人口眾多，然而經濟發展仍有增長空間。如今其自然資源帶動某產業發展，成為經濟發展的新契機。請問：該產業為何？(A)酪農業 (B)觀光業 (C)休閒農業 (D)熱帶栽培業。
33. ( ) 附圖為漠南非洲某國家主要出口品項比例圖。請問：此圖可以判斷出下列哪個訊息？  
(A)對外貿易形成順差 (B)該國最可能分布在北部非洲  
(C)經濟結構具殖民式經濟特徵 (D)國內糧食供給充足且能出口



34. ( ) 漠南非洲除自然環境的限制外，也面臨許多挑戰。請問：下列何者不是漠南非洲面臨的挑戰？  
(A)疾病問題 (B)人口結構趨於老化  
(C)飢荒連年 (D)經濟發展受他國限制
35. ( ) 19 世紀以前，歐洲人對撒哈拉沙漠以南的非洲一無所悉，主因是非洲早期對外海運不便，不易與外界交流，居民長期維持較原始的生活方式。非洲海運不便的原因與海岸性質有關，請問：非洲海岸性質與台灣哪一處海岸雷同？(A)北部岬灣海岸 (B)東部斷層海岸 (C)南部珊瑚礁海岸 (D)西部沙岸。