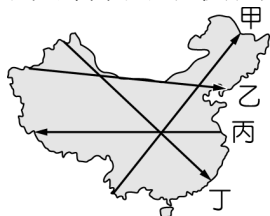
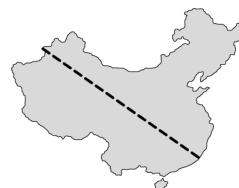
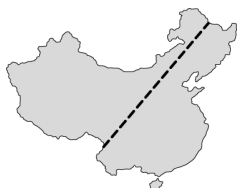
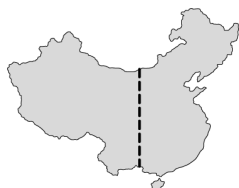
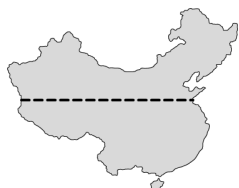


一、單一選擇題(第 1~5 題每題 2 分，第 6-35 題每題 3 分)

1. () 中國的地形複雜多樣，哪兩種所占的面積較大？ (A) 山地、高原 (B) 丘陵、山地 (C) 盆地、丘陵 (D) 平原、盆地。
2. () 圖中哪條剖線最能完整呈現中國地勢三級階梯狀的地形特徵？(A) 甲 (B) 乙 (C) 丙 (D) 丁。



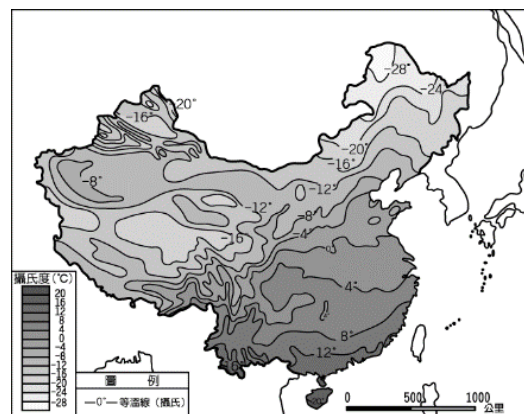

3. () 中國的人口分布受到地理環境的影響，呈現人口分布不均的狀況。下列哪一張圖最能夠表達出中國人口分布疏密的分界線？ (A) (B) (C) (D)



4. () 隨著中國的經濟持續成長，相關政策也隨之改變。附圖中的中國政令宣導政策，將有助於解決下列何項人口問題？(A) 人口成長太快 (B) 人口結構失衡 (C) 人口密度過高 (D) 人口分布不均。



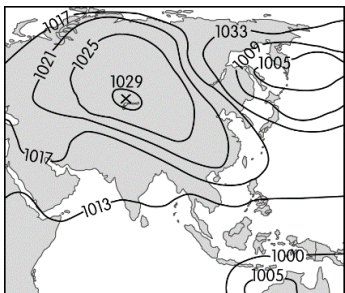
5. () 中國人口已達 14 億人，是世界人口最多的國家，這項人口特色對於中國產生的影響不包括下列何者？ (A) 消費市場廣大 (B) 動力資源增加 (C) 糧食需求增加 (D) 勞工來源充足。
6. () 中國境內的地形起伏甚大，下列哪一種環境特色與整體地勢的高低走向有關？ (A) 山多平原少 (B) 河流多注入太平洋 (C) 北方冬季嚴寒 (D) 屬於季風氣候區
7. () 喜馬拉雅山為世界最高的山脈，下列有關喜馬拉雅山的敘述何者錯誤？(A) 位處中國西南邊境 (B) 中國與印度之間的天然國界線 (C) 地勢高聳冰河廣布，為亞洲許多大河的源頭 (D) 為歐亞板塊與太平洋板塊擠壓隆起而成
8. () 附圖為中國成渝中線高速鐵路的路線圖，該路線是位於長江上游成都市與重慶市之間的一條高速鐵路，全長 292 公里，通車後將以每小時 350 公里的速度行駛，現在成都與到重慶的交通時間僅需 62 分鐘。請問該高鐵通車後，可望透過交通革新促進下列哪一個地理區內的經濟發展？ (A) 東北平原 (B) 四川盆地 (C) 黃土高原 (D) 青藏高原。
9. () 和田市，為塔克拉瑪干沙漠南側邊緣的綠洲內，是古代「絲綢之路」上的重鎮，以「和田玉」、「和田毯」以及「和田綢」聞名天下。2016 年，和田市總戶數為 88557 戶，總人口 389749 人。按民族構成劃分，維吾爾族人口 35.19 萬人，佔總人口的 90.3%；漢族 3.65 萬人，佔總人口的 9.37%；其他民族 0.13 萬人，佔總人口的 0.33%。請問：和田市應位於中國哪一個行政區？(A) 新疆 (B) 西藏 (C) 蒙古 (D) 廣西。
10. () 承上題，和田市年平均氣溫 12.5 °C，年均降水量只有 35 毫米，而年均蒸發量高達 2480 毫米。請問此氣候特徵與下列哪一個因素有關？(A) 緯度較高 (B) 距海遙遠 (C) 低壓壟罩 (D) 背東北風。
11. () 秦嶺、淮河一線為中國重要的地理分界線，請問下列有關此分界線的敘述何者正確？(A) 旱田與水田的分界 (B) 農業區與畜牧區的界線 (C) 年均溫 0 度等溫線 (D) 500 毫米等雨量線。
12. () 中國疆域遼闊，各地氣溫皆不同，附圖為中國的一月月均溫等溫線圖，由圖可知影響中國東半部冬季氣溫的主要因素為何？(A) 地勢高低 (B) 緯度高低 (C) 距海遠近 (D) 季風風向



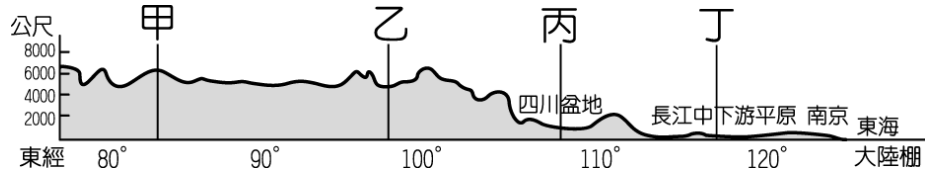
13. ()附圖為中國某氣候資料的數值分布，若圖中數值甲<乙<丙，則該氣候資料可能為下列何者？(A)年降水量 (B)年均溫 (C)日溫差 (D)一月均溫。



14. ()中國的氣候受到海陸位置的影響明顯，形成各種特色。附圖為中國某月的大氣狀況分布圖，下列有關該圖的敘述何者最正確？(A)圖中 X 為低氣壓中心 (B)氣流性質為溫暖濕潤 (C)氣流是由海洋吹向陸地 (D)此時中國南北溫差大。



15. ()附圖為中國境內某地區的地勢階梯剖面圖，圖中哪一個地區的環境負載力最高、人口分布最為密集？(A)甲 (B)乙 (C)丙 (D)丁。



16. ()內蒙古高原及新疆一帶則多從事牧業活動，因畜牧的需求多以便於拆遷的蒙古包為住所。請問：中國西部地區多以游牧為主要生活方式，主要是受到下列哪一項因素的影響？(A)地形崎嶇 (B)降水稀少 (C)氣溫較低 (D)土壤貧瘠。

17. ()中國各地的地理環境不同，影響其農牧業活動的發展。請問：附圖中何處的農業發展，多分布於夏季雪水豐沛的山麓地帶？(A)甲 (B)乙 (C)丙 (D)丁。



18. ()中國的幅員廣大，各地自然環境不同，交通方式也各不相同，影響各地的經濟發展。老王的家鄉夏季時大河滾滾，許多林木皆利用河運運輸；冬季時河面卻結成了冰，成了陸運的大道。老王的故鄉最可能位於附圖中何處？(A)甲 (B)乙 (C)丙 (D)丁。

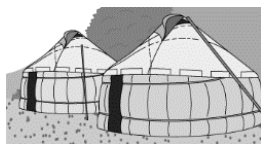


19. ()中國各地因自然環境的不同，衍生出各類的特色建築以適應當地氣候，下列哪兩種建築與潮溼多雨的氣候環境有關？(A)甲乙 (B)乙丙 (C)丙丁 (D)甲丁


(甲)



(乙)



(丙)



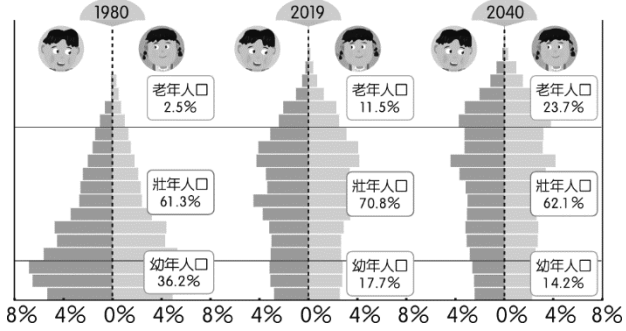
(丁)



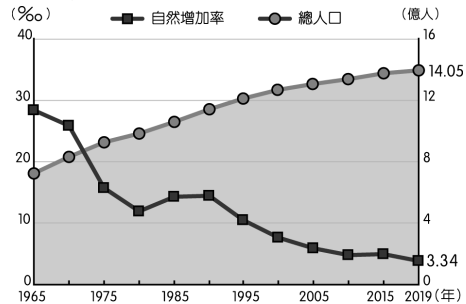
20. ()《麥田》於 2009 年 9 月 28 日上映，是一部由何平自編自導，范冰冰、黃覺、王學圻、王志文、杜家毅主演的劇情片。影片以戰國時期最著名的“長平之戰”為歷史背景，講述了“逃兵闖入女兒國”這樣一個古代小人物的故事。請問劇組若想找到大規模的麥田來作為取景地點，最可能前往附圖中何處尋找？(A)甲 (B)乙 (C)丙 (D)丁。



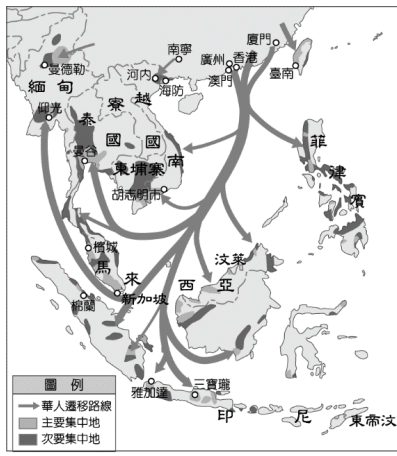
21. () 附圖 1980~2040 年中國人口金字塔圖，下列有關中國的人口結構的變化何者有誤？ (A) 幼年人口的比例變化主要受一胎化政策影響 (B) 受重男輕女觀念的影響，性別比有上升的趨勢 (C) 2019~2040 年，壯年人口比例下降，扶養比隨之下降 (D) 老年人口比例增高，有快速高齡化的趨勢。



22. () 附圖為中國人口數統計圖，自 1985 年以後，自然增加率因國家政策快速下滑，但人口總數依然快速上升，請問與下列何項因素有關？ (A) 移入率高 (B) 醫療進步 (C) 鼓勵生育 (D) 人口總數太大



◆ 附圖為明清時期華人遷徙路線圖。請回答 23-24 題。



23. () 明清時代的阿福搭乘帆船欲從東南沿海移居泰國曼谷，若想節省時間體力則必須順風而行，請問他應該在哪個季節順著何種風向出發？ (A) 夏季；東北風 (B) 夏季；西南風 (C) 冬季；東北風 (D) 冬季；西南風。

24. () 曼谷唐人街，是位於泰國首都曼谷市西部的耀華力路唐人街是市區最繁華的商業區之一，同時也是曼谷最老的街區之一。耀華叻唐人街是泰國著名的黃金街和美食街，長約兩公里，是遊客雲集的旅遊景區之一。曼谷唐人街寺廟眾多，如昌帝廟、天后聖母廟、觀音古廟等，除了廟宇，亦可見華人的宗祠堂號、美食料理等漢文化的痕跡。請問此種由移民將思想觀念、經驗技藝和其他文化特質從一個社會傳到另一個社會的過程，稱之為何？ (A) 社會變遷 (B) 文化交流 (C) 文化體驗 (D) 文化擴散。

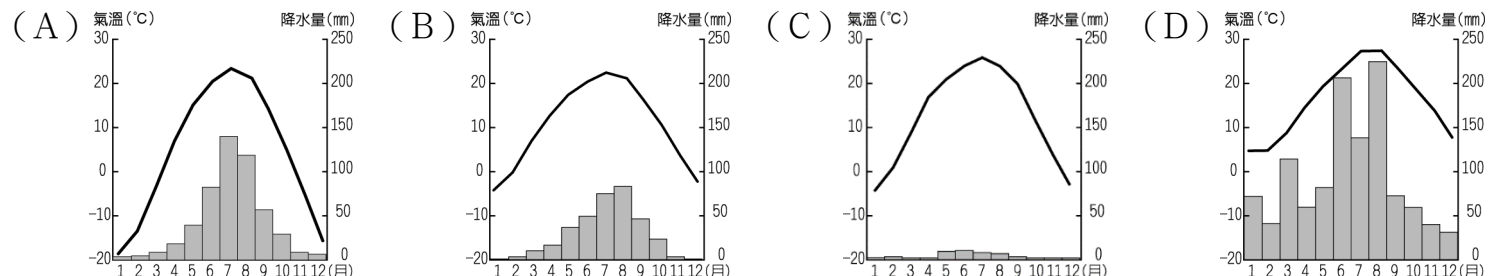
◆ 2015 年廢除一胎化政策後，中國再次放寬對生育政策的管制，2021 年 8 月通過三孩政策，鼓勵夫妻生育三胎，國家在稅收、教育、住房、就業等方面都會提供支持，以減輕家庭養育負擔。政府企圖藉此解決現今的人口問題，但成效不彰，普遍民眾對此意願不大，無非是因為中國過去 30 多年的節育政策已對中國人口成長造成難以抹滅的影響。請回答 25-26 題。

25. () 1980 年代，一胎化政策的施行主要針對當時何種人口問題？ (A) 高死亡率 (B) 高自然增加率 (C) 人口分布不均 (D) 人口素質低落。

26. () 中國政府在 2015 年結束計畫生育政策的限制，甚至目前以鼓勵生育為基本國策。請問中國政府政策大轉變的主要原因為何？ (A) 死亡率漸高 (B) 教育程度不佳 (C) 勞動力漸少 (D) 消費市場萎縮。

◆中國○○上那一望無際的黑土地，乃是得益於該地的氣候環境。先是該區位處溫帶的半濕潤地區，具有溫帶季風氣候典型的夏雨東乾、四季分明的特征。再加上土壤母質粘重，並有季節凍土層，使得夏秋雨季，土壤常形成上層滯水，草甸草本植物繁茂，地上和地下均有大量有機殘體進入土壤；而到了冬季，漫長且嚴寒的環境，又使得微生物活動受到抑制，有機質難以快速腐化、分解，歷經千百年便轉化成大量腐殖質累積於土體上部，就成了肥沃的黑土層，造就優良的農耕環境。請回答 27-29 題。

27. () 根據文中敘述判斷，○○應指下列哪一個地理區？ (A)東北平原 (B)長江三角洲平原 (C)內蒙古高原 (D)塔里木盆地。
28. () 請問該地所屬氣候類型應為下列何者？

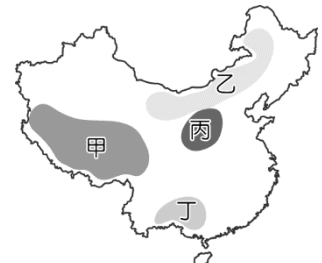


29. () 依據自然環境判斷，此區較不可能出現下列何種作物？ (A)玉米 (B)大豆 (C)高粱 (D)甘蔗。

◆陝西省米脂縣主要由顆粒細緻的黃土所組成，不僅在冬季強風吹拂時，漫天塵土飛揚影響空氣品質；在 20 世紀 90 年代初，水土流失面積高達 838.6 平方公裡，佔全縣總土地面積的 69.19%。尤其是米脂縣高西溝村，更有「上面光禿禿，下面黃水流，年年遭災害，十年九不收。」之說，此地過去水土流失嚴重、百姓生活艱難。

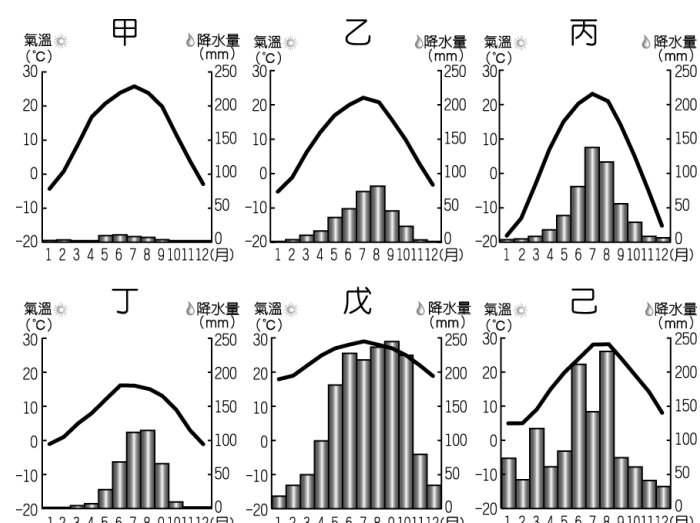
近年來，透過山上緩坡修梯田，溝裡新建淤地壩，荒坡陡處搞綠化，治理水土流失、恢復生態環境，高西溝村幾十年如一日地綜合治理，如今水土流失治理程度達到 78%，林草覆蓋率達到 70%，目前水土流失狀況好轉、生態環境亦持續改善。請回答 30-32 題。

30. () 請問文中所指米脂縣的特徵，應屬圖中哪一個地理區？ (A)甲 (B)乙 (C)丙 (D)丁。



31. () 該地區的水土整治工程將可同時減緩下列哪一項環境問題？ (A)黃河水患 (B)凍土消融 (C)長江水污染 (D)內蒙古草原退化。
32. () 當地的空氣狀況受到風向的影響相當明顯。請問：該地區的冬、夏季節風向分別為何？ (A)冬：↑，夏：↓ (B)冬：↙，夏：↗ (C)冬：↓，夏：↑ (D)冬：↘，夏：↖。

◆中國面積廣大，形成多樣性的氣候分布特色。附圖為中國境內某六個城市的氣候圖，請回答 33-35 題。



33. () 秦嶺、淮河為中國氣候上重要的地理分界線，緊鄰秦淮一線的北、南兩側分別為附圖中哪兩種氣候類型？ (A)甲乙 (B)乙丙 (C)丙己 (D)丁戊。
34. () 緯度也是影響中國氣候的重要因素，請問哪張氣候圖分布的緯度最高？ (A)甲 (B)丙 (C)丁 (D)戊。
35. () 請問哪一張氣候圖所在的地區，其氣候與植被呈現垂直變化？ (A)甲 (B)丙 (C)丁 (D)己。